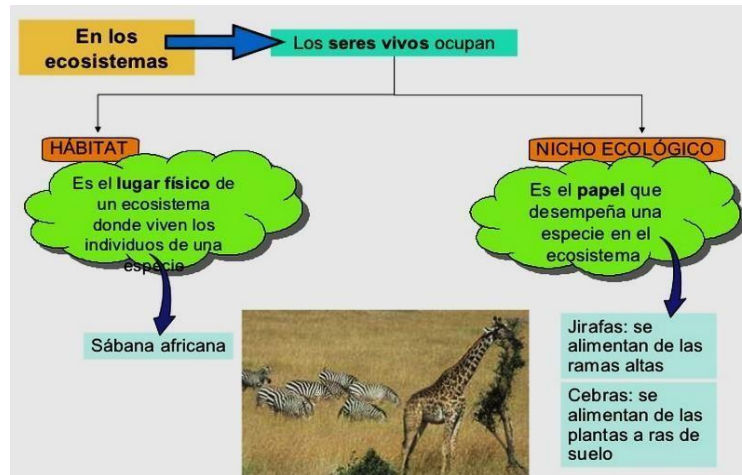




**TEMA: Hábitat y nicho ecológico**

**Prof.** Carolina Riveros

**Curso y división:** 1 año B Y C



1- Observa las siguientes imágenes e indica el hábitat de cada uno de ellos:



**Camello**

Hábitat: \_\_\_\_\_



**Oso polar**

Hábitat: \_\_\_\_\_



**Cactus**

Hábitat: \_\_\_\_\_



**Pez globo**

Hábitat: \_\_\_\_\_

2- Escribe debajo de cada ser vivo o factor biótico el hábitat en el que podría vivir:

VICUÑA

PALMERA

HONGOS

ALGAS

\_\_\_\_\_

\_\_\_\_\_




\_\_\_\_\_

\_\_\_\_\_

10- Razona ¿Cuál es tu hábitat? ¿Lo compartes con alguien? ¿Lo cuidas?



3- Observa las siguientes figuras e indica el nicho ecológico de cada uno




4- Razona:

¿Cuál es tu nicho ecológico? \_\_\_\_\_

5- Ahora te doy el nicho ecológico y tú deberás colocar a que ser vivo puede pertenecer.

- a- **POLINIZAN LAS FLORES**
- b- **SIRVE DE ALIMENTO A LOS PECES**
- c- **PRODUCE OXÍGENO EN EL AGUA QUE RESPIRAN LOS ANIMALES ACUÁTICOS**

14- Une con flechas según corresponda:



Comen granos

Son herbívoros

Producen miel

Ponen huevos

Comen insectos

Son omnívoros