

SEMANA DEL 9 AL 12 DE MAYO.


1. Busca recorta y pega tres números de 3 cifras.
2. Escribe sus nombres.
3. Luego descompone en cienos, dieces y unos.

Fabián tiene 4 manzanas y Fernando tiene el doble. ¿Cuántas manzanas tiene Fernando?

Fabián

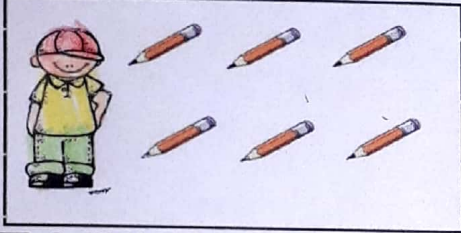


Fernando



German tiene 6 lápices y Genaro tiene el doble. ¿Cuántos lápices tiene Genaro?


Carlos




Elias



4. Dibuja lo que se pide.



LA MITAD



LA MITAD

1.

208

150

380

2 - Doscientos ocho

ciento cincuenta

trescientos ochenta

$$208 = \underbrace{100 + 100}_{200} + \underbrace{1 + 1 + 1 + 1 + 1 + 1 + 1 + 1}_{8} = 208$$

$$150 = \underbrace{100}_{100} + \underbrace{10 + 10 + 10 + 10}_{50} = 150$$

$$380 = 100 + 100 + 100 + 10 + 10 + 10 + 10 + 10 + 10 + 10 + 10 + 10 = 380$$

Paradavia