

MATEMÁTICA

ACTIVIDADES EN NODOS.

SEMANA DEL 16 AL 20 DE MAYO.

LA TABLA DEL



1. Coloca el resultado en el pétalo correspondiente.

20

4

8

10

6

12

18

14

16

2

2×1 2×2

2×10 2×3

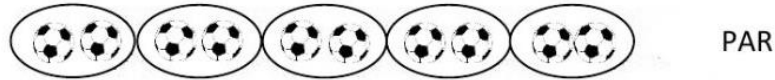
2×9 2×4

2×8 2×5

2×7 2×6

NÚMEROS PARES Y NÚMEROS IMPARES

Cuando *formamos grupos de 2* y no nos sobran elementos es porque es un número par.



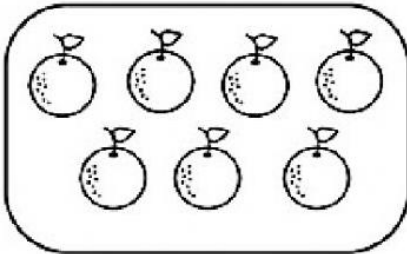
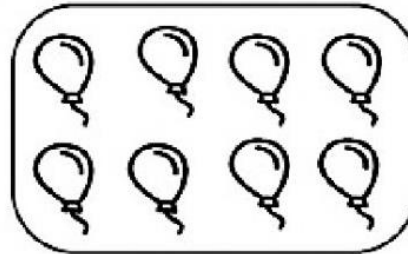


PAR

Cuando formamos grupos de 2 *y sobra 1 elemento*, es un número impar.



IMPAR

Ahora cuenta, haz grupos de 2 en tu cabeza y di si es un número par o impar.


 Par Impar

 Par Impar

 Par Impar

 Par Impar