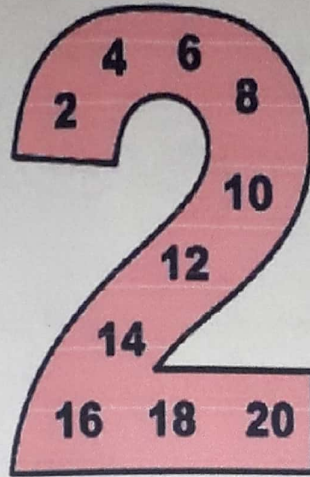


MATEMÁTICA

ACTIVIDADES EN NODOS.

SEMANA DEL 16 AL 20 DE MAYO.

LA TABLA DEL



1. Coloca el resultado en el pétalo correspondiente.

20
4
8
10
6
12
18
14
16
2

2×1	2×2
2×10	2×3
2×9	2×4
2×8	2×5
2×7	2×6

NÚMEROS PARES Y NÚMEROS IMPARES


Cuando **formamos grupos de 2** y no nos sobran elementos es porque es un número par.



Cuando formamos grupos de 2 **y sobra 1 elemento**, es un número impar.




Ahora cuenta, haz grupos de 2 en tu cabeza y di si es un número par o impar.




Par Impar



Par Impar



Par Impar



Par Impar