

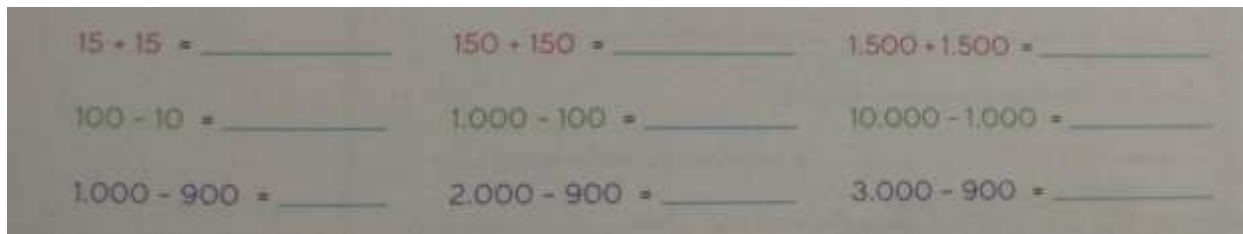
Buenas tardes chicos, nos encontramos por este medio para continuar aprendiendo.

Copia las actividades en tu cuaderno, para luego ser revisadas en clases.

1- A pensar...

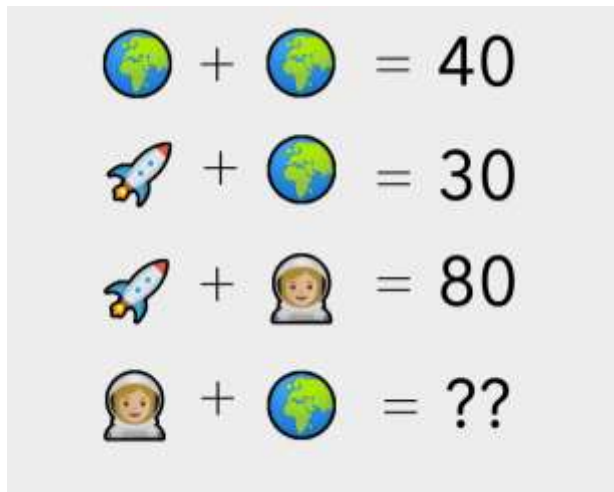
- a) Pare tener poderes especiales en su juego favorito, Benjamín gastó 358 diamantes y todavía le quedan 74. **¿Cuánto tenía antes de usarlos?**
- b) Termine el segundo nivel con 252 estrellas. Si tenía 89 acumuladas del nivel anterior. **¿Cuántas ganó en el segundo nivel?**
- c) Joaquín y Maximiliano tienen 9 años cada uno en su Tablet. Maxi consiguió 1.089 esmeraldas mágicas, son 193 más que las que consiguió Joaquín. **¿Cuántas esmeraldas mágicas tiene Joaquín?**


2- Resolvé los cálculos de cada renglón sin escribir las cuentas.



3- ACERTIJOS MATEMÁTICOS

Hay sumas y restas que son fáciles y otras un poquito más difíciles.





**Horizontales**

- a)  $29.364 + 26.667$
- d)  $80.126 - 73.383$
- f)  $72.305 - 25.053$
- g)  $36.098 + 9618$
- i)  $65.801 + 30.251$
- k)  $46.209 - 46.174$
- p)  $40.002 - 34.259$
- q)  $27.891 + 2.971$
- r)  $65.098 + 25.153$
- t)  $78.602 - 40.173$

**Verticales**

- b)  $41.243 + 24.466$
- c)  $85.625 - 75.380$
- d)  $54.056 - 47.959$
- e)  $34.283 + 13.580$
- h)  $34.076 + 18.607$
- j)  $80.156 - 15.674$
- l) El doble de 25.012
- m)  $59.821 + 6172$
- n)  $70.695 - 2873$
- o)  $30.007 - 29.994$

- Realiza las cuentas en el cuaderno, para luego ser visadas.