

# MATEMÁTICA

## ACTIVIDADES EN NODOS.

SEMANA DEL 16 AL 20 DE MAYO.

LA TABLA DEL



1. Coloca el resultado en el pétalo correspondiente.

20

4

8

10

6

12

18

14

16

2

$2 \times 1$

$2 \times 2$

$2 \times 10$

$2 \times 3$

$2 \times 9$

$2 \times 4$

$2 \times 8$

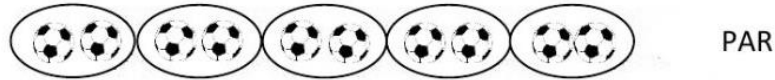
$2 \times 5$

$2 \times 7$

$2 \times 6$

## NÚMEROS PARES Y NÚMEROS IMPARES

Cuando formamos grupos de 2 y no nos sobran elementos es porque es un número par.



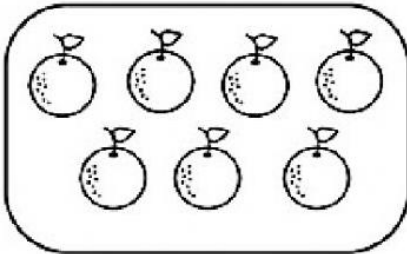
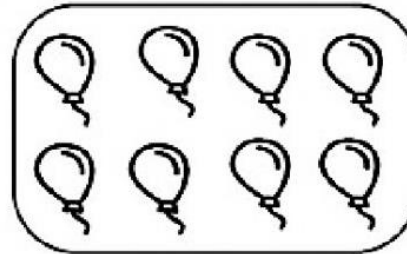


PAR

Cuando formamos grupos de 2 y sobra 1 elemento, es un número impar.



IMPAR

Ahora cuenta, haz grupos de 2 en tu cabeza y di si es un número par o impar.


 Par  Impar

 Par  Impar

 Par  Impar

 Par  Impar