



Fecha: 6 de Junio.


ACTIVIDADES DE MATEMÁTICA.


JUGAMOS A LA LOTERÍA MULTIPLICATIVA.

1. Pinta del mismo color el número que salió y el espacio del cartón correspondiente.
2. ¿Quién ganó?

 SOFIA	3×1		3×10	
		3×7		
	2×7		4×8	4×3


 NACHO	2×4		4×5	
		4×9		2×2
	3×6		3×9	

 MECHI	3×5		4×6	
		4×7		3×1
	2×1		2×3	

 JOSE	4×4		2×0	
		5×5		2×5
	3×3		5×10	

6	20	12	2	16	8	30	24	18
28	0	10	4	9	15	27	14	36

¿Cuántas ruedas tienen en total estos triciclos?



Cada triciclo tiene 3 ruedas.

Hay 4 triciclos.

$3 + 3 + 3 + 3 = 12$
 $3 \times 4 = 12$

Tienen _____

Cuenta y completa.



x =



x =

- $3 \times 2 = \square$ $3 \times 1 = \square$ $3 \times 8 = \square$ $3 \times 9 = \square$
- $2 \times 3 = \square$ $2 \times 2 = \square$ $2 \times 8 = \square$ $2 \times 9 = \square$



¿Cuántos zumos hay en 4 paquetes?

x = Hay _____

¿Cuántos zumos hay en 8 paquetes?

x = Hay _____