



HISTORIA

1° A

Prof.: Mauro Doña

Fecha de presentación: 23/08.

Práctico primeras civilizaciones urbanas: Mesopotamia y Egipto

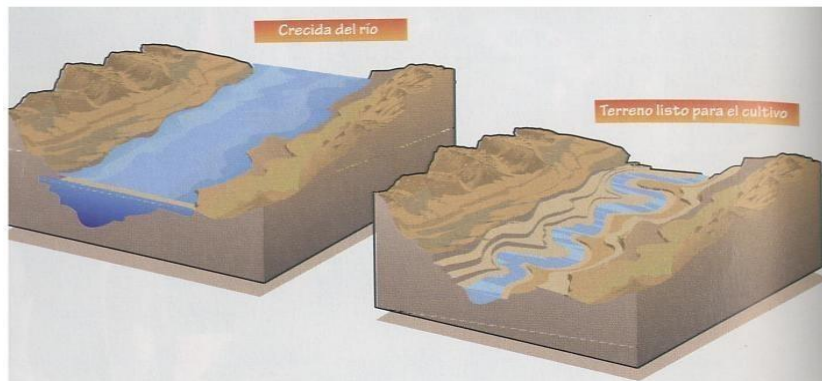
CRITERIOS DE EVALUACIÓN:

- Interpretación y cumplimiento de la consigna.
- Coherencia y claridad en las ideas desarrolladas en el escrito.
- Ortografía y prolijidad en la presentación.

Lee atentamente:

1. LAS PRIMERAS CIVILIZACIONES URBANAS

Hace unos 6.000 años antes de cristo, algunos pueblos se asentaron a orillas de **grandes ríos**. Cuando los ríos tenían crecidas, sus aguas inundaban las orillas y valles; cuando el río volvía a su cauce, la tierra quedaba fertilizada y se podían obtener **grandes cosechas**.



Así, a orillas de grandes ríos se formaron las **primeras comunidades agrícolas** que, a irse desarrollando dieron lugar a las primeras **civilizaciones urbanas**.

Las dos primeras civilizaciones que surgieron en la historia fueron:

- La **civilización mesopotámica**, en un lugar llamado Mesopotamia (hoy Irak), entre los ríos Tigres y Éufrates.
- La **civilización egipcia**, en Egipto, alrededor del río Nilo.



- **Contesta:**

¿En qué lugar se formaron las primeras comunidades agrícolas?

¿Cuáles fueron las dos primeras civilizaciones urbanas de la historia?

¿A lado de qué ríos se formó la civilización mesopotámica?

Sigue con la lectura:

1.2. LA APARICIÓN DE LA ESCRITURA

También, por la necesidad de tomar anotaciones de carácter económico, surgió la **escritura**. La escritura nació en Egipto y Mesopotamia casi al mismo tiempo, alrededor del año 3.500 a. C. Con la aparición de la escritura la humanidad entró en un nuevo periodo: LA HISTORIA.

- En **Mesopotamia** se escribía en tablillas de arcilla blanda y húmeda, que luego se dejaba secar al sol o se cocía en un horno. El instrumento con el que hacía los trazos y los mismos trazos tenían forma de cuña, por eso a la escritura que nació en Mesopotamia se la llama **cuneiforme**.




Escritura cuneiforme.

- En **Egipto**, se solía escribir en papiros (láminas obtenidas del latto de plantas) o en piedra. La escritura en Egipto se llama **jeroglífica**, y se



trata de signos que representan la vida cotidiana, las plantas o los animales.



Escritura jeroglífica.

- **Contesta:**

¿En qué año surge la escritura? _____

¿Qué etapa comienza con la aparición de la escritura? _____

- **Completa el cuadro sobre la escritura de las primeras civilizaciones:**

	Nombre	Se escribe sobre...	Sus símbolos o trazos son...
EGIPTO			
MESOPOTAMIA			

- **Lee atentamente:**

2. MESOPOTAMIA

2.1. EL MEDIO NATURAL

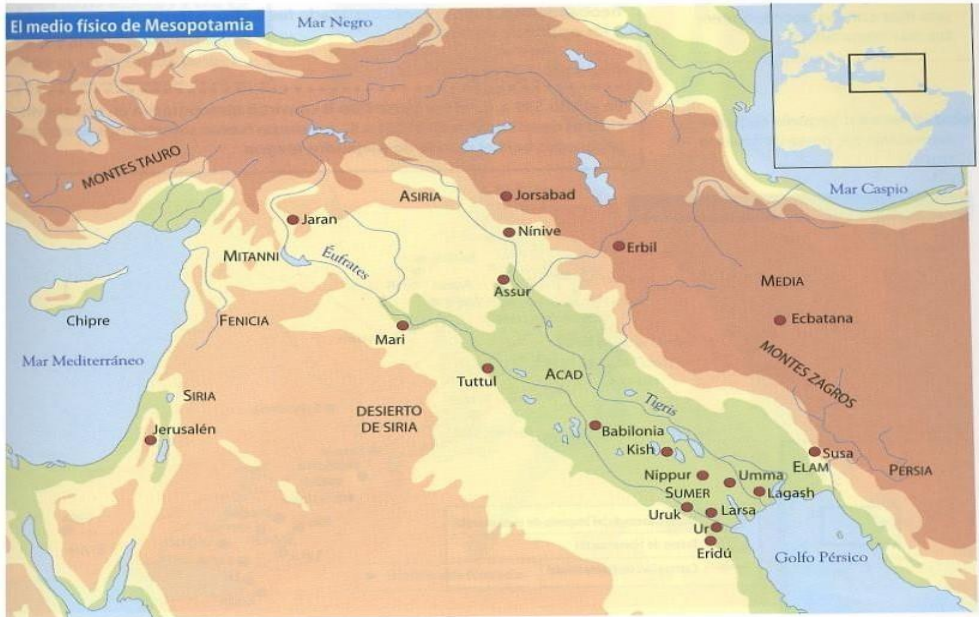
Mesopotamia significa "tierra entre ríos" fue una civilización que se desarrolló entre los ríos **Tigres** y **Éufrates**.



Su **ubicación**, que puedes ver en este mapa, es en el actual país de Irak.

En Mesopotamia hay dos zonas, una al norte y otra al sur:

- La zona norte es montañosa, allí nacen los ríos, y la llaman **Alta Mesopotamia**.
- La zona sur, formada por terrenos pantanosos, se llama **Baja Mesopotamia**.



Además, según los distintos pueblos que han habitado Mesopotamia, podemos distinguir otras tres zonas:

- **Sumer:** al sur, en la desembocadura de los ríos; en esta zona vivió el pueblo sumerio.
 - **Acad:** en el centro, entre los valles de los ríos; en esta zona vivió el pueblo acadio.
 - **Asiria:** al norte, en plena montaña; en esta zona vivió el pueblo asirio.
- **Completa:**

Mesopotamia significa " _____ entre _____ "

Mesopotamia está situada entre los ríos _____ y _____

La zona norte, montañosa, donde nacen los ríos se llama _____

Mesopotamia.



La zona _____, de terrenos _____, se llama Baja Mesopotamia.

- **Completa este cuadro sobre las zonas de Mesopotamia según el pueblo que las habitó:**

	SITUACIÓN	ZONA	PUEBLO
SUMER		Desembocadura de los ríos	
ACAD	Centro de Mesopotamia		
ASIRIA			Pueblo asirio



EL ANTIGUO EGIPTO

3.1 EL MEDIO NATURAL

Egipto tiene dos zonas:



Egipto es un gran **desierto** que está atravesado de sur a norte por el río **Nilo**, un río de 6.670 Km que desemboca en el mar Mediterráneo.

El río Nilo se **desborda** una vez al año, inundando las orillas y tierras cercanas. Así estas tierras son luego muy **fértiles**.

En las orillas del río Nilo crecían muchas plantas (papiros, lotos) y vivían muchas especies animales (aves, hipopótamos, cocodrilos), es por eso que los egipcios adoraban al Nilo como si

fuera un **dios**.

- El **Bajo Egipto**, al norte, donde las tierras son más llanas y pantanosas.
- El **Alto Egipto**, al sur, en las zonas del valle.
- **Completa:**

Egipto es un gran desierto que está atravesado de sur a norte por el

río _____, un río de _____ Km que desemboca en el mar

_____.

El río Nilo se desborda una vez al _____, inundando las

orillas y _____ cercanas. Así estas tierras son luego

muy _____.

Los egipcios adoraban al Nilo como si fuera un _____.

Egipto tiene dos zonas: el _____ Egipto, al norte, donde las



tierras son más llanas y pantanosas; y el Alto Egipto, al _____, en las zonas del valle.

- Sigue con la lectura:

3. LA ECONOMÍA

Tanto en Mesopotamia como en Egipto, la agricultura fue una de las actividades más importantes. Para poder desarrollar la agricultura, fue necesario controlar las crecidas del río. Así, construyeron **diques** y **canales** para contener las aguas en las crecidas del río; también hicieron **pozos** y emplearon **sistemas de regadío** para cuando escaseaban las lluvias.



Los egipcios realizaron muchas innovaciones técnicas en la agricultura.

Otras actividades fueron:

- La **ganadería**, con la cría de vacas y cabras, y la **pescas**.
- La **artesanía**, donde se realizaban trabajos de cerámica, metalurgia, cestería, elaboración de tejidos, de esmaltes y de joyas...
- El **comercio**, donde los pagos se realizaban en cereales o plata porque no había monedas.

- **Contesta:**

¿Cuál era la principal actividad económica en las primeras civilizaciones?

¿Qué construyeron para contener las aguas en las crecidas del río?



¿Y para almacenar el agua? _____

La ganadería, ¿en qué consistía? _____

¿Qué trabajos de artesanía se realizaban?

En los tratos comerciales, ¿con qué se pagaba? _____

- Continúa leyendo:

4. LA SOCIEDAD

La organización de las sociedades tanto en Mesopotamia como en Egipto giraba en torno a las **ciudades**. En las ciudades, que nacieron a las orillas de los ríos, había viviendas, palacios, templos, almacenes, tiendas...

4.1. LA SOCIEDAD MESOPOTÁMICA

En Mesopotamia la sociedad estaba dividida en clases:

1. El **rey** era el señor que tenía todos los poderes (político, religioso y militar). Era también el que hacía las leyes y el juez, pero no era considerado un dios.
2. El **grupo dirigente** estaba formado por los sacerdotes, los funcionarios, gobernantes de provincias, mandos del ejército, tesoreros...
3. El **resto de la población libre**: campesinos, ganaderos, mercaderes, artesanos y obreros.
4. Los **esclavos**.

4.2. LA SOCIEDAD EGIPCIA

En Egipto, también la sociedad estaba dividida en clases:

1. El **faraón** era el rey y estaba considerado un dios. Era el dueño de todas las tierras y las personas.
2. El **visir y los altos funcionarios**: ministros, sacerdotes, cargos militares, tesoreros y escribas (personas que sabían escribir).
3. El **resto de la población libre**: soldados, artistas, artesanos, obreros,



campesinos y extranjeros.

4. Los **esclavos**, que trabajaban en las minas o en las tareas domésticas.

Las **mujeres** eran consideradas **inferiores a los hombres**, sin embargo, algunas llegaron a ser reinas, como Cleopatra.

- **Completa este cuadro con las clases sociales que existían en las primeras civilizaciones:**

	MESOPOTAMIA	EGIPTO
1		
2		
3		



4		
---	--	--

- Continúa leyendo:


6 LA RELIGIÓN

En **Mesopotamia**:

- Eran **politeístas**, es decir, adoraban a distintos dioses.
- Pensaban que los **dioses dominaban el mundo** y que los seres vivos habían sido creados para servirles.
- Creían que había **vida después de la muerte**.

En **Egipto**:

- También eran **politeístas**. Entre sus dioses estaba Ra (dios del Sol) Y Osiris.



En el Imperio Antiguo se instauró el culto al dios Ra.

Imagen del dios Osiris.



- Creían que había vida después de la muerte. Por eso realizaban momificaciones para conservar el cuerpo tal y como era en vida.
- Señala con una X si la afirmación corresponde a la religión de Mesopotamia o de Egipto, o a las dos:



	Mesopotamia	Egipto
Eran politeístas.		
Pensaban que había vida después de la muerte.		
Pensaban que los dioses dominaban el mundo.		
Adoraban al dios Ra y Osiris		
Crecía en la magia y en la brujería.		
Momificaban a los muertos.		

- Lee la página 55 del manual y realiza las siguientes actividades:

a. Explica el juicio a los muertos

b. Responde: ¿Qué hacían los egipcios cuando fallecía un faraón? Compará la forma en la que los enterraban y la forma de enterramiento actual en Argentina. ¿Qué diferencias encontrás?
