

## TAREA EXTRAESCOLAR PARA EL MARTES 1 DE NOVIEMBRE - PRIMER GRADO

1) BUSCÁ LA FICHA 34 DEL BLOC DE MATEMÁTICA.

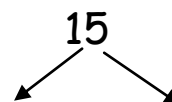
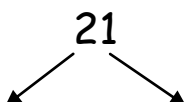
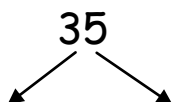
- ✓ COMPLETÁ LOS CÁLCULOS QUE ALLÍ APARECEN.
- ✓ AL TERMINAR, RECORTÁ Y PEGÁ EN TU CUADERNO.

2) HOY APRENDISTE QUE LOS HUARPES VIVIERON EN DIFERENTES LUGARES: EN MONTAÑAS, LAGUNAS Y LLANURAS. TAMBIÉN QUE REALIZABAN DIFERENTES ACTIVIDADES.

- ✓ PENSÁ Y ESCRIBÍ 3 ORACIONES CONTANDO QUÉ ACTIVIDADES REALIZABAN EN CADA UNO DE ESOS LUGARES. (UNA ORACIÓN PARA CADA LUGAR).

## TAREA EXTRAESCOLAR PARA EL MIÉRCOLES 2 DE NOVIEMBRE - PRIMER GRADO

1) ESCRIBÍ EL VALOR DE LAS CIFRAS DE ESTOS NÚMEROS USANDO EL COLOR AZUL PARA LOS UNOS Y EL ROJO PARA LOS DIECES:



2) TE DOY ESTE TEXTO, **LEELO EN VOZ ALTA** A LA PERSONA QUE TE ACOMPAÑA EN LAS TAREAS. TAMBIÉN TE LO PUEDEN LEER.

### **LAS CASAS DE LOS HUARPES**

LAS CASAS DE LOS HUARPES SERVÍAN DE REFUGIO. LAS CONSTRUÍAN CON RAMAS, CAÑAS Y PAJAS ATADAS Y REVESTIDAS CON BARRO. EN LOS LUGARES DONDE ABUNDABAN LAS PIEDRAS, LAS CONSTRUÍAN COLOCÁNDOLAS UNAS SOBRE OTRAS, CUIDANDO QUE NO QUEDARAN LUGARES VACÍOS ENTRE ELLAS. ÁLGUNAS ERAN TECHADAS CON CUEROS DE GUANACO Y OTRAS CON RAMAS Y BARRO.

- PENSÁ EN CÓMO SE CONSTRUYEN LAS CASAS ACTUALMENTE Y QUÉ MATERIALES SE USAN. ESCRIBÍ EN TU CUADERNO CONTÁNDOME EN QUÉ SE DIFERENCIAN CON LAS DE LOS HUARPES.
- DIBUJÁ UNA CASA DE LOS HUARPES Y UNA ACTUAL.

**IMPORTANTE: ¡MAÑANA ES DÍA DE BIBLIOTECA!**

**RECORDÁ GUARDAR EN TU MOCHILA EL LIBRO QUE LEÍSTE, PARA PODER HACER EL INTERCAMBIO.**

**TAREA EXTRAESCOLAR PARA EL VIERNES 28 DE OCTUBRE - PRIMER GRADO**

**1) BUSCÁ LA FICHA 41 DEL BLOC DE MATEMÁTICA.**

- COMPLETÁ LOS CÁLCULOS QUE ALLÍ APARECEN.
- AL TERMINAR, RECORTÁ Y PEGÁ EN TU CUADERNO.

**2) HOY APRENDIMOS QUE LOS OBJETOS QUE NOS RODEAN PUEDEN ESTAR HECHOS DE DISTINTOS MATERIALES.**

- BUSCÁ Y OBSERVÁ EN TU CASA ELEMENTOS DE MADERA, METAL, PLÁSTICO, VIDRIO Y PAPEL.
- DIBUJÁ ESOS OBJETOS, ESCRIBÍ SU NOMBRE Y DE QUÉ MATERIAL ESTÁ HECHO.