

GUÍA SEMANAL DEL 7 AL 11 DE NOVIEMBRE

HOLA ASTOR TE ENVÍO LA GUÍA DE ESTA SEMANA. TRABAJA EN FORMA PROLIJA Y ORDENADA SI TIENES DUDAS, PUEDES CONSULTARME.

LUNES 7 DE NOVIEMBRE

HOY CELEBRAMOS EL DÍA DE TODOS LOS SANTOS DOMINICOS



MATEMÁTICA

1- TRABAJAMOS SIGUIENDO INSTRUCCIONES

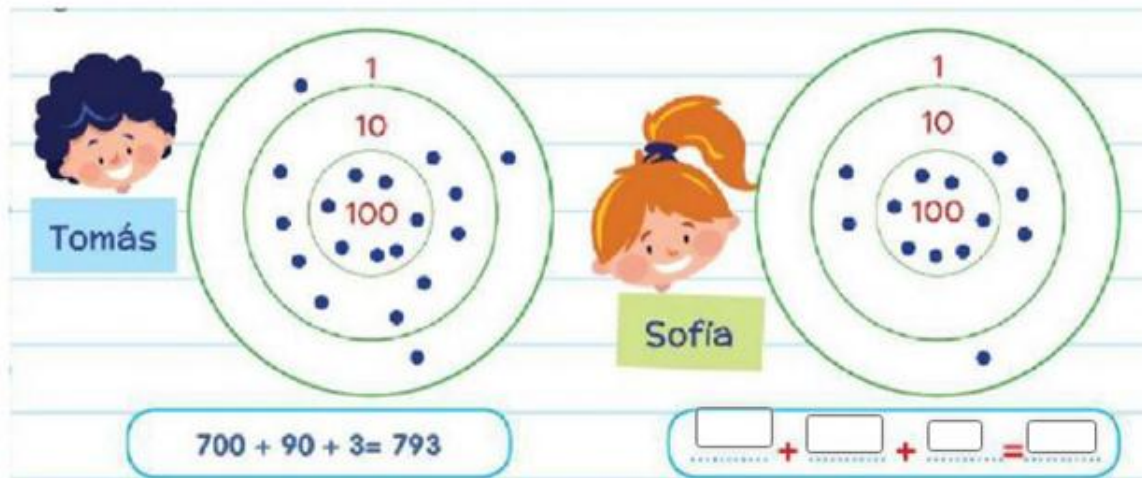
700		702			705		707		709
710		712			715		717		719
720		722			725		727		729
730		733			735		737		739
740		742			745		747		749
750		752			755		757		759
760		762			765		767		769
770		772			775		777		779
780		782			785		787		789
790		792			795		797		799

- ✗ Completa todos los cuadros pintados de verde
- ✗ Completa la familia del 720 del 780

Usando el cuadro responde:

- Si partís del número 724 y avanzas 6 casilleros ¿A qué número llegas?
- Si partís del número 732 y avanzas 8 casilleros ¿A qué número llegás?
- Si partís del número 715 ¿Cuántos casilleros tenés que avanzar para llegar a un número que termine en 0?

2) Calculá el puntaje que hizo cada uno teniendo en cuenta la cantidad de dardos que lograron clavar en cada sector del tablero.



Escribe el nombre de los números

- 700
- 710
- 720
- 730
- 740
- 750
- 760
- 770
- 780
- 790

MARTES 8 DE NOVIEMBRE

ALABAR, BENDECIR Y PREDICAR

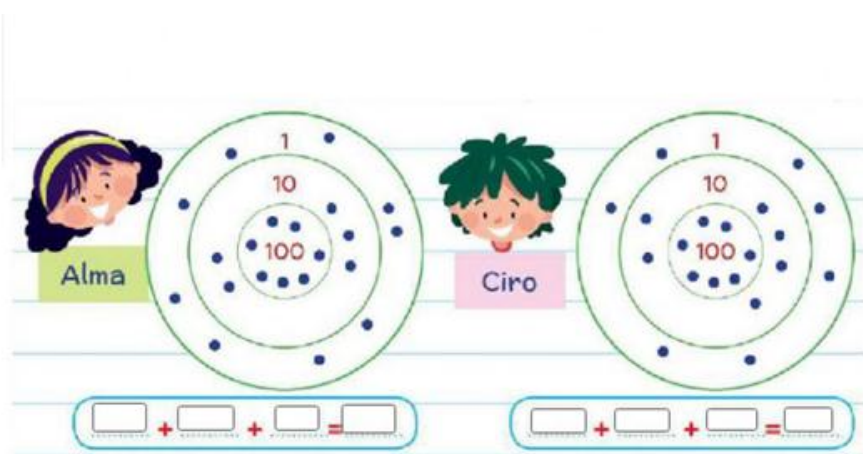
LENGUA

- ✗ Recordamos el cuento leído anteriormente ¿CÓMO ENGAÑAR A UN PIRATA?
- ✗ Del texto y con ayuda de un adulto extrae 8 sustantivos comunes, los pinto en el texto y luego los escribo en el cuaderno
- ✗ Forma oraciones con esos sustantivos.(Recuerda marcar mayúsculas y puntos con color)
- ✗ Dibuja la parte que más te gustó del cuento. Y cuenta con tus palabras que fue lo que dibujaste.

GUÍA SEMANAL DEL 7 AL 11 DE NOVIEMBRE

MATEMÁTICA

TRABAJAMOS CON LO APRENDIDO ANTERIORMENTE.



3) Leé y escribí el nombre del jugador que logró cada puntaje.

Setecientos cincuenta y un puntos:

Setecientos sesenta y siete puntos:

Setecientos noventa y tres puntos:

Setecientos cincuenta y nueve puntos:

Escribe el nombre de estos números

235: Doscientos treinta y cinco.

367:

563:

779:

648:

MIÉRCOLES 9 DE NOVIEMBRE

REALIZAMOS LA EVALUACIÓN DE GEOMETRÍA

JUEVES 10 DE NOVIEMBRE

CELEBRAMOS EL DÍA DE LA TRADICIÓN

¿Qué tradiciones son comunes en tu familia?. Escríbelas. y dibuja aquella que te guste más

GUÍA SEMANAL DEL 7 AL 11 DE NOVIEMBRE

Ordená las sílabas y escribí los nombres en el cuadro que le corresponde a cada una de estas tradiciones argentinas



co tru



go tan



sa a do



ti ja sor



to ga



na em da pa



cón pe ri



cro lo



po sa

Es un baile	Es un juego	Es una comida

Escribe bonitas oraciones con las palabras que ordenaste anteriormente.



VIERNES 11 DE NOVIEMBRE



VIRGEN DEL ROSARIO CÚBRENOS CON TU SANTO MANTO

MATEMÁTICA





Lee lo que dicen estos chicos y **escribe** verdadero o falso según corresponda

 <p>Con 6 billetes de \$100 puedo comprar la bicicleta.</p>	 <p>Con 4 billetes de \$100 puedo comprar la patineta y la pelota de básquet.</p>

 <p>Con dos billetes de \$100 puedo comprar los patines.</p>	 <p>Con 3 billetes de \$100 puedo comprar la patineta.</p>

● Lara tiene la misma cantidad de dinero que Martín pero solo en billetes de \$10 y monedas de \$1. **Dibujalos.**

 <p>\$100</p> <p>\$20</p> <p>\$2</p>	 <div style="border: 1px solid black; height: 150px; width: 450px;"></div>
---	---