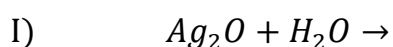
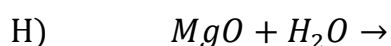
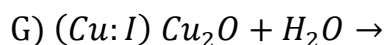
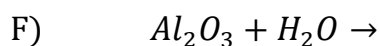





## Actividad N°2

### **1) Complete, iguale y nombre los siguientes compuestos:**



### **2) Escriba las ecuaciones de formación "equilibradas" de los siguientes compuestos:**



B – *ÓXIDO PLUMBOSO.*

C – *ÓXIDO ÁURICO.*

D – *ÓXIDO DE CINC.*

E – *HIDRÓXIDO DE SODIO.*

F – *HIDRÓXIDO DE PLATA.*

G – *ÓXIDO DE MAGNESIO.*

H – *HIDRÓXIDO PLÚMBICO.*



---

*I – ÓXIDO CUPROSO.*

*J – HIDRÓXIDO DE CALCIO.*

*K – HIDRÓXIDO PLATINOSO.*

**3) Forme el compuesto y descríballo brevemente (por ejemplo si se trata de algún mineral o algún producto, sus características físicas; algún uso; etc.).**

*A – ÓXIDO CUPROSO.*

*B – ÓXIDO PLUMBOSO.*

*C – ÓXIDO ESTÁNNICO.*

*D – HIDRÓXIDO DE SODIO.*

*E – HIDRÓXIDO DE CALCIO*

*F – ÓXIDO DE CALCIO.*

*G – ÓXIDO FÉRRICO.*