

TAREA EXTRAESCOLAR PARA EL MARTES 28 DE MARZO - PRIMER GRADO

EL ADULTO TE LEE Y VOS TRABAJÁS.

1) HOY NOS DIVERTIMOS JUGANDO CON DADOS.

- LOS JUEGOS CON DADOS SON UNOS DE LOS MÁS ANTIGUOS.
- **PENSÁ** JUNTO A LA PERSONA QUE TE ACOMPAÑA, QUÉ JUEGOS CON DADOS CONOCEN.
- **ESCRIBÍ, COMO VOS PODÁS**, UNO DEBAJO DE OTRO, EL NOMBRE DE ESOS JUEGOS.
- **RECORDÁ** PRONUNCIAR FUERTE PARA ESCUCHARTE.

2) **OBSERVÁ** ESTOS NÚMEROS:

5 2 4

- DIBUJÁ EN TU CUADERNO LA CARA DEL DADO CON EL PUNTAJE QUE REPRESENTA CADA NÚMERO.

- POR EJEMPLO: 6 → 

¡CUÁNTO APRENDÉS!

TAREA EXTRAESCOLAR PARA EL MIÉRCOLES 29 DE MARZO - PRIMER GRADO

EN CLASE REALIZAMOS UN TRABAJO DE ESCRITURA EN UNA HOJA GRANDE QUE NOS DIO LA SEÑO.

LA PERSONA QUE TE ACOMPAÑA EN LAS TAREAS TE LEE Y VOS TRABAJÁS.

LOS CHICOS ESTÁN JUGANDO A "DADOS Y DEDOS".

1) **OBSERVÁ** CUÁNTOS DEDOS LEVANTARON.

EN TU CUADERNO **DIBUJÁ** LA CARA DEL DADO QUE CORRESPONDE Y **ANOTÁ** EL NÚMERO AL LADO.



2) ¡QUÉ LINDO ES IR A LA ESCUELA!

DIBUJÁ LA PARTE QUE MÁS TE GUSTA DE NUESTRA ESCUELA.

ESCRIBÍ, COMO VOS PODÁS, POR QUÉ ELEGISTE ESE LUGAR.

¡HASTA MAÑANA!


TAREA EXTRAESCOLAR PARA EL VIERNES 31 DE MARZO - PRIMER GRADO

LA PERSONA QUE TE ACOMPAÑA EN LAS TAREAS TE LEE.

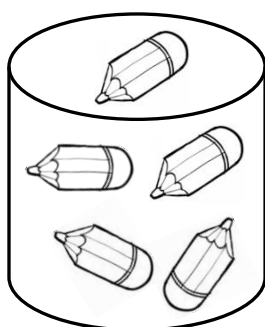
EN CLASE TRABAJASTE EN UNA HOJA GRANDE CON NÚMEROS.

LOS CHICOS DE PRIMERO ESTÁN ORDENANDO LOS MATERIALES DEL AULA.

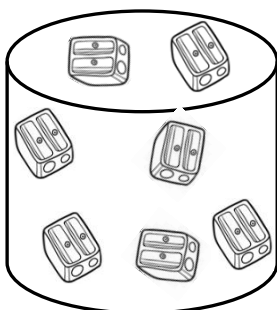
1. **OBSERVÁ** LAS IMÁGENES Y **TRABAJÁ**:




PEDRO



LARA



SIMÓN



- ✓ ¿QUIÉN TIENE MÁS ELEMENTOS? **ESCRIBÍ** EL NOMBRE EN TU CUADERNO.
- ✓ PEDRO TIENE 5 LÁPICES. **DIBUJÁ** LOS LÁPICES QUE FALTAN PARA LLEGAR A 10.

2. **SACÁ** TU EQUIPO DE LETRAS Y **SEPARÁ**:

2 D - 1 A - 1 O - 1 U - 1 R - 1 E - 1 L - 1 S

- **GUARDÁ** LAS QUE SOBRAN.
- EL ADULTO **PRONUNCIA FUERTE** LAS SIGUIENTES PALABRAS Y VOS **FORMALAS** COMO PODÁS:

DEDOS - DADO - RUEDA - SODA

- **ESCRIBILAS** EN TU CUADERNO TAL CUAL VOS LAS ARMASTE.

¡TODO LISTO!