

GEOGRAFIA II

Apunte N° 1

Posición geográfica de América. Límites. Puntos Extremos

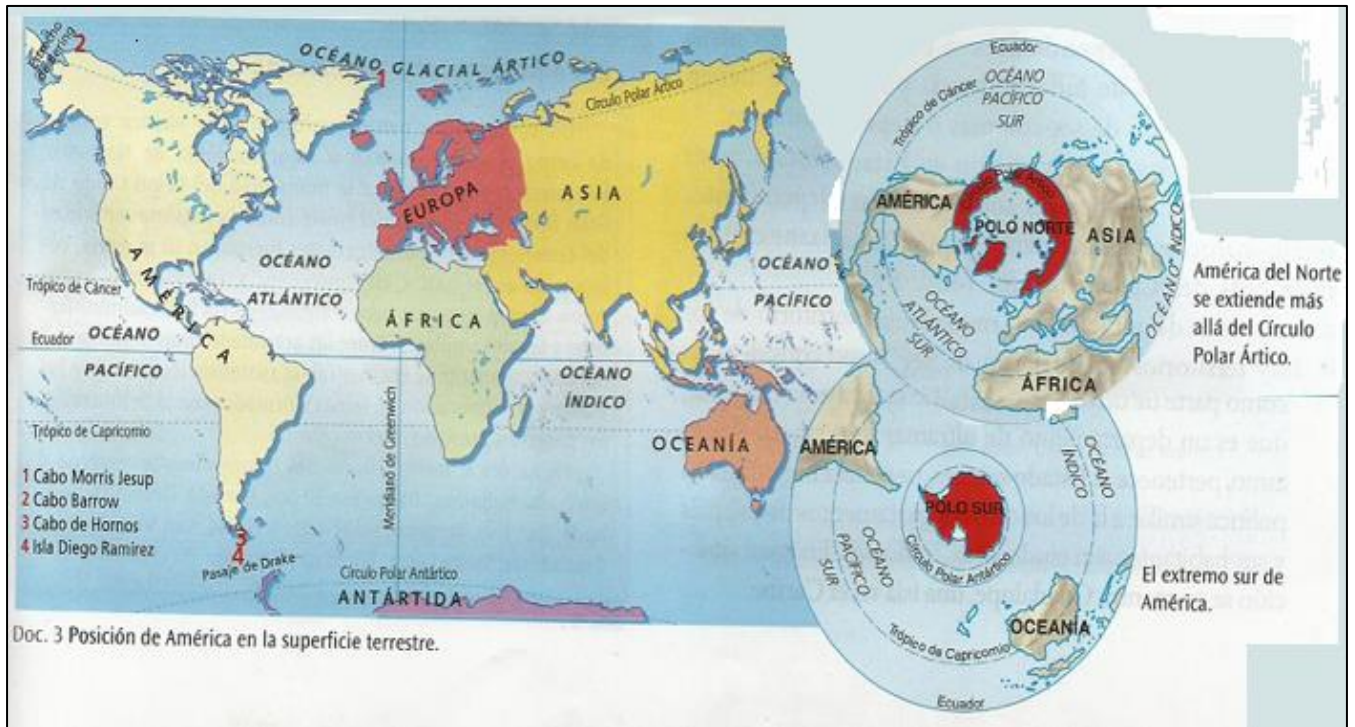
La posición geográfica de América hace que posea una variedad de climas, desde los más cálidos y templados hasta los más fríos, lo que genera tierras aptas para diferentes tipos de cultivos y un gran desarrollo costero. Esto permite crear condiciones favorables para el desarrollo de su oferta natural, introducir múltiples formas de aprovechamiento de los recursos naturales e implantar una gran diversidad de formas de ocupación del territorio, algunas muy concentradas y otras, sumamente dispersas.

América se ubica en el hemisferio occidental; es el único continente del planeta que se extiende de polo a polo. Se encuentra rodeada por océanos: al este, el océano Atlántico la separa de Europa y África, y al oeste, el océano Pacífico la separa de Asia y Oceanía. Al norte, el océano Glacial Ártico y al sur, el océano Glacial Antártico.

La superficie de América es de unos 42 millones de Kilómetros cuadrados aproximadamente.

Los puntos extremos considerados: Insulares este el 1-Cabo Morris Jesup ($83^{\circ} 39' S$) en Groenlandia a solo 707 Km del Polo Norte y al sur la 4-Islas Diego Ramírez ($58^{\circ} 30' S$) en aguas del pasaje de Drake, a unos 3.514 Km del Polo Sur.

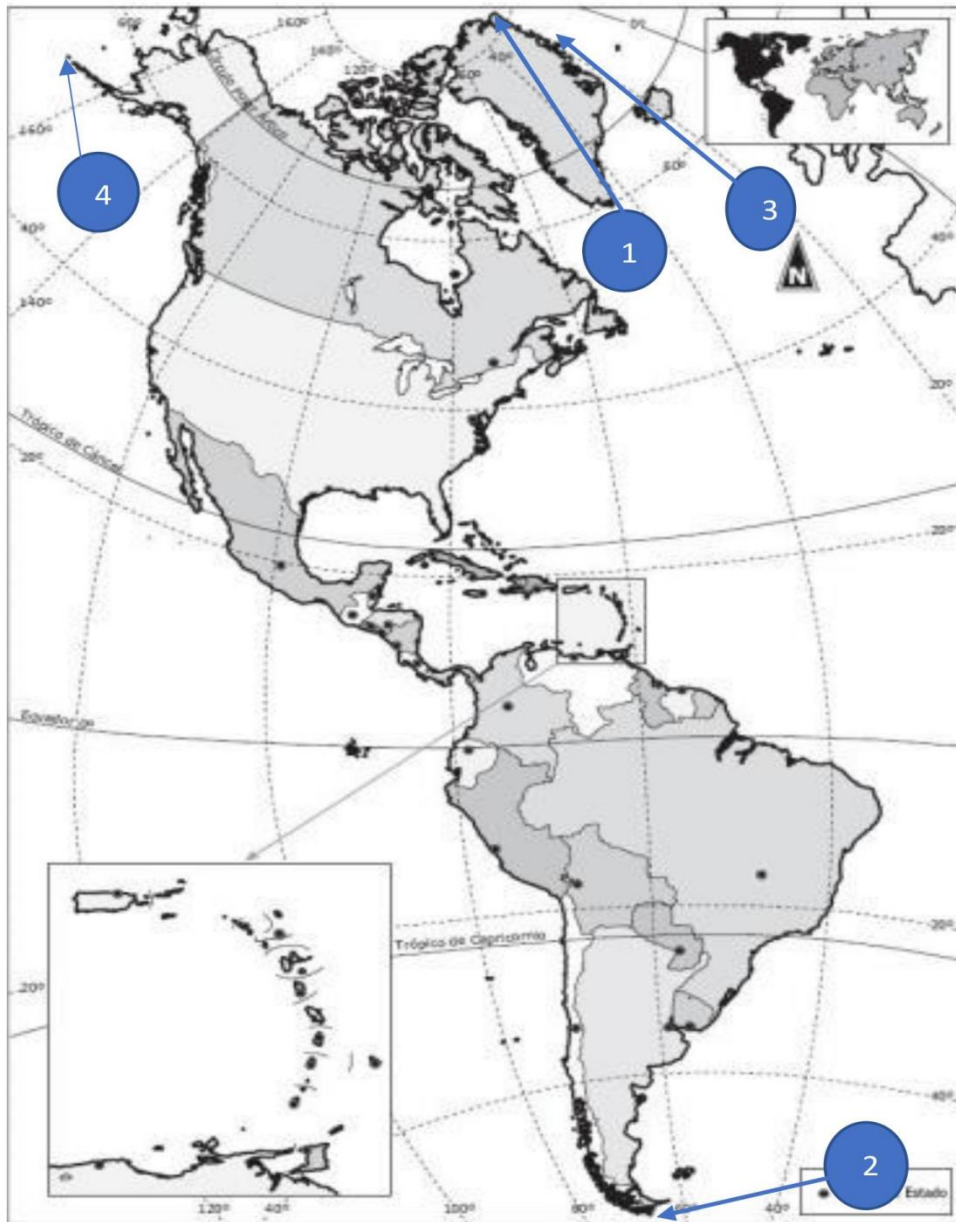
Posición de América en la superficie terrestre



Actividades

- 1- Teniendo en cuenta la lectura y los mapas responda:
 - a- ¿Qué líneas imaginarias atraviesa el continente americano?
¿A qué se debe?
 - b- Elabore un breve texto que sintetice la localización geográfica de América.
- 2- ¿Qué superficie presenta el continente americano?
- 3- Mencione los puntos extremos norte, sur, este y oeste.

MAPA DE LOS PUNTOS EXTREMOS DE AMÉRICA



LEYENDA

1. Punto más al norte: Cabo Morris Jesup, Groenlandia, ($83^{\circ}40'N$ $29^{\circ}50'O$).
2. Punto más al sur: Isla Águila, en las Islas Diego Ramírez, Chile ($56^{\circ}32'15''S$ $68^{\circ}43'10''O$).
3. Punto más al este: Cabo Nordeste, Groenlandia ($12^{\circ} 02' O$).
4. Punto más al oeste: isla Attu, Alaska, Estados Unidos ($52^{\circ}54'8.92''N$ $172^{\circ}54'33.84''O$).

Divisiones del continente americano

En verdad, América es un solo continente, pero de todos modos es posible efectuar en él varias diferenciaciones mediante la aplicación de distintas miradas, distintos puntos de vista para dividirla.

Desde el punto de vista **cultural**, en nuestro continente podemos diferenciar América Latina y América Anglosajona.

América Latina fue colonizada, principalmente por españoles y portugueses y por ello son válidas las denominaciones “Iberoamérica o Hispanoamérica”. América Anglosajona lo fue por ingleses y franceses. Todos trajeron sus lenguas, sus religiones, su forma de trabajo, sus sistemas de valores y sus organizaciones políticas. Con el transcurrir de los años se originó esta América, con grandes desigualdades culturales, pero, por sobre todo, con desigualdades económicas y políticas. Como límite entre estas dos Américas se ha propuesto el río Bravo (también llamado Río Grande) que constituye el apoyo natural para gran parte del límite entre Estados Unidos y México. Así América Anglosajona está formada por Canadá, Groenlandia y Estados Unidos; el resto, incluyendo el Caribe constituye América Latina.

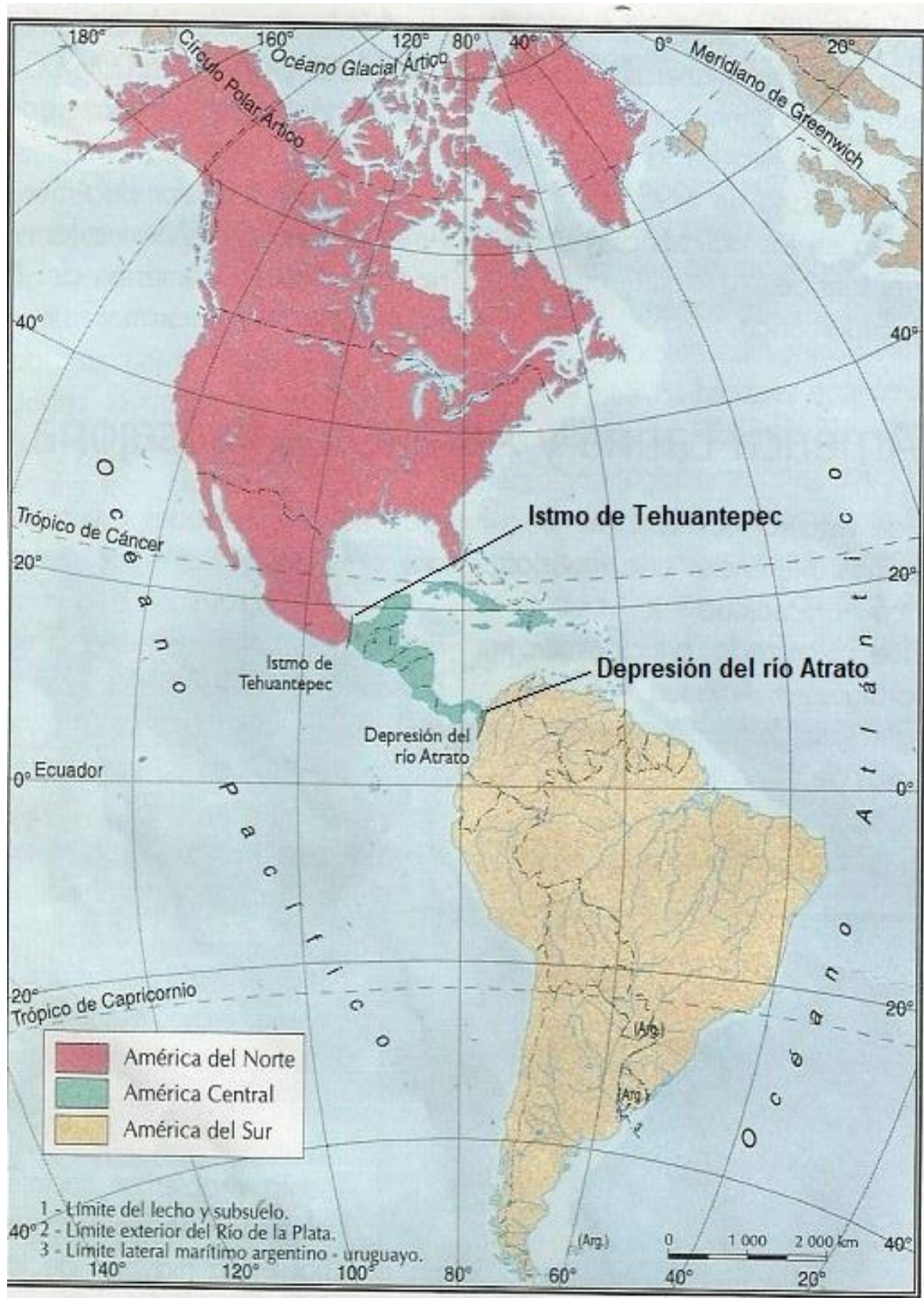
Desde el punto de vista **físico-geológico** el continente se divide en tres: América del Norte, América Central y América del Sur.

América del Norte se extiende hasta el Istmo de Tehuantepec, en México.

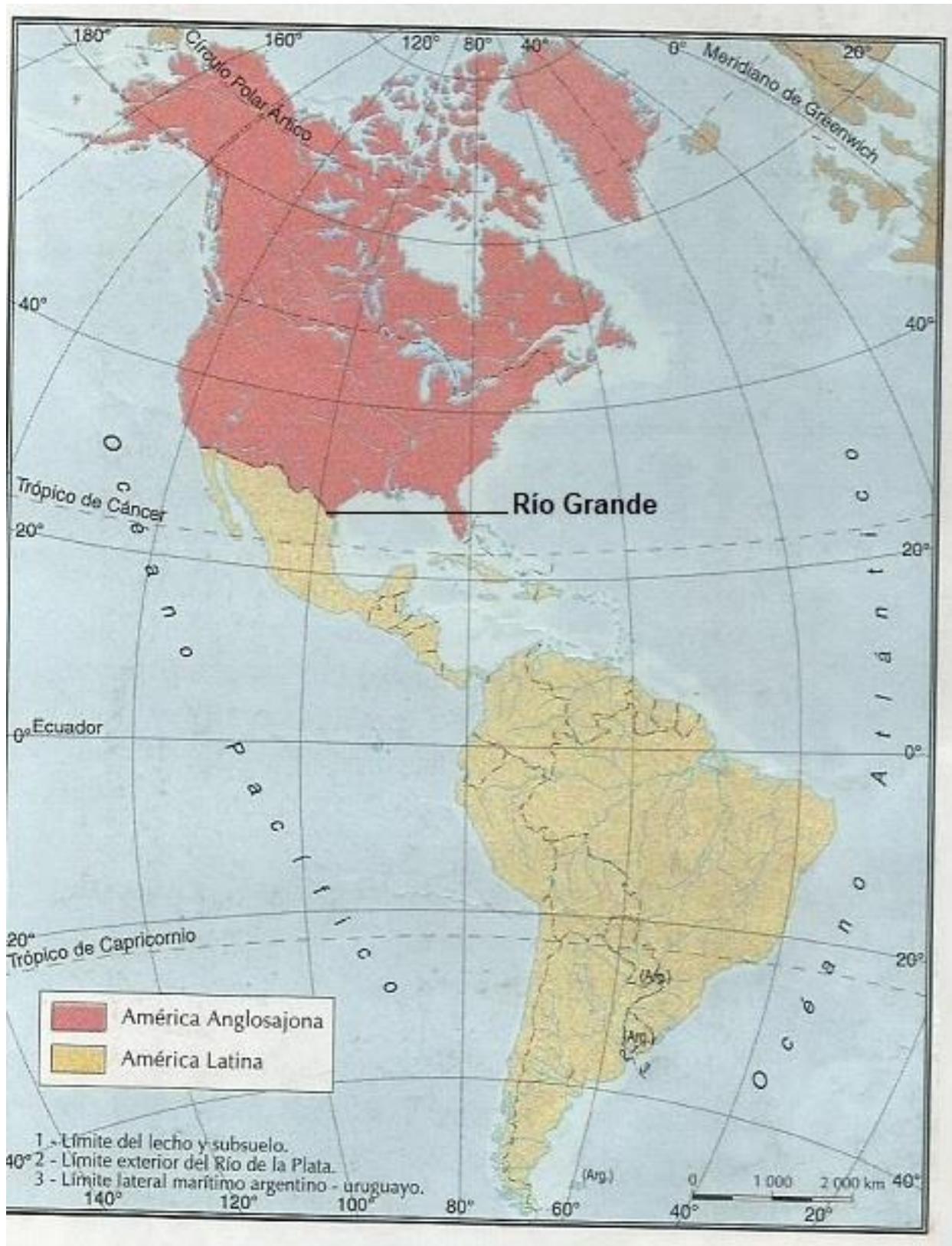
América Central se extiende desde el Istmo de Tehuantepec hasta la depresión del río Atrato y San Juan en Colombia. Las islas ubicadas en el mar Caribe también forman parte de América Central.

América del Sur se extiende desde la depresión del río Atrato y San Juan, por el norte, hasta la unión de los océanos en el extremo sur del continente.

CRIERIO FISICO-GEOLOGICO



CRITERIO CULTURAL



Actividades

1-A partir de los siguientes mapas, pinte América desde el criterio físico-geológico y desde el cultural, indicando los elementos que se tienen en cuenta para su división.

2-Elabore un esquema con los criterios utilizados en ambas regionalizaciones y explique en qué consiste cada uno.

