
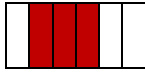



TAREA EXTRAESCOLAR PARA 6º GRADO A, B, C Y D PARA JUEVES 15 DE JUNIO

1) ¿Cómo lees los siguientes gráficos? **Escribí** la fracción que representa cada uno de ellos.



2) **Ubicá** en la recta numérica las siguientes fracciones.


$5/6$; $1/3$; $2/5$

3) **En el libro:** Realizó la actividad 5 de la página 59.


TAREA EXTRAESCOLAR PARA 6º GRADO A, B, C Y D PARA VIERNES 16 DE JUNIO


1) **Señalá** con un punto en una recta la ubicación de cada uno de estos números.


$1/3$; $8/3$; $4/6$; $17/6$

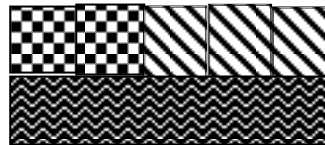


2) ¿Cómo lees el siguiente gráfico que representa la edad de los alumnos de sexto grado?

Alumnos de 10 años 

Alumnos de 12 años 

Alumnos de 11 años 



3) **En el libro:** Realizó la actividad 6 de la página 59.