



**COLEGIO SANTA ROSA DE LIMA**

**Profesor:** Figueroa Victor Hugo

**UNIDAD N°2**

**Geografía Argentina**

**Curso y División: 3°**

**Tema: “Unidades estructurales de Argentina- Relieves argentinos”**

**Objetivo:**

- + Reconocer e identificar los principales relieves argentinos.
- + Localizar en el mapa los principales relieves del país.

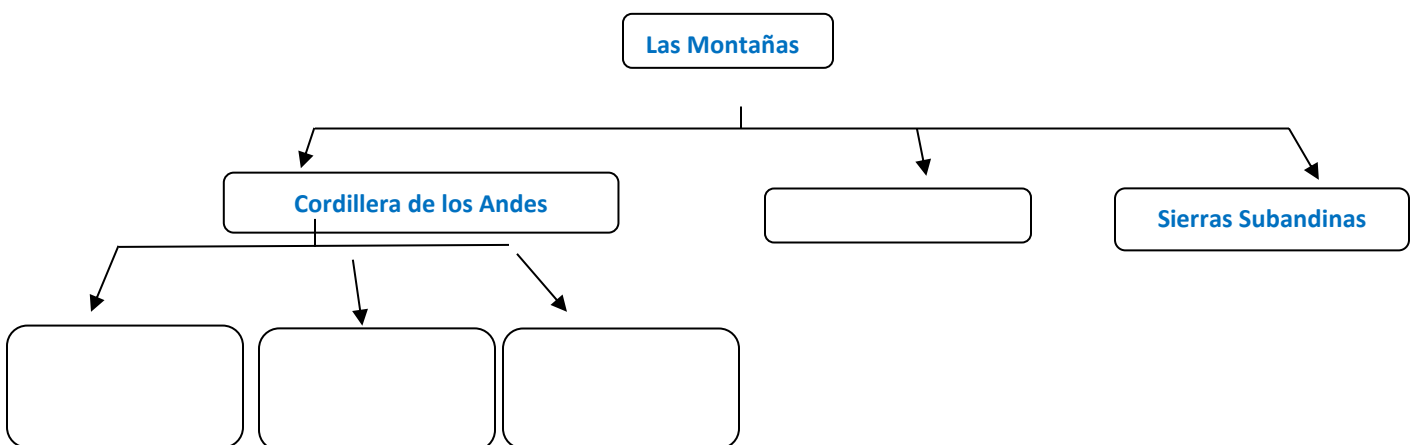
**“La Argentina se caracteriza por sus condiciones naturales que derivan de su posición planetaria. Así como de su ubicación en el continente, al este de la cordillera de los Andes”**  
**A continuación, conoceremos los principales relieves de nuestro país.**

**ACTIVIDADES:**

**RELIEVE I**

- **Lea el libro: “GEOGRAFIA 3- Activados”. Editorial: Puerto de palos. Año:2016 y responda:**

**- Complete el siguiente esquema.**



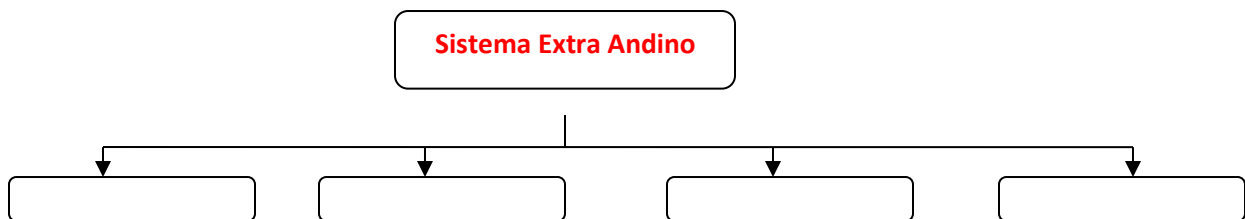
**2)- Complete el siguiente cuadro.**



Relieve	Sectores	Localización	Características
CORDILLERA DE LOS ANDES	Precordillera		
	Andes áridos - (cordillera principal – cordillera frontal)		
	Andes Patagónicos-fueguinos		
CORDILLERA ORIENTAL	Cordón occidental		
	Cordón Oriental		
SIERRAS SUBANDINAS	Cordones serranos paralelos		

**RELIEVE II**

3)- **Complete el siguiente esquema.**



4)- **Complete el siguiente cuadro:**

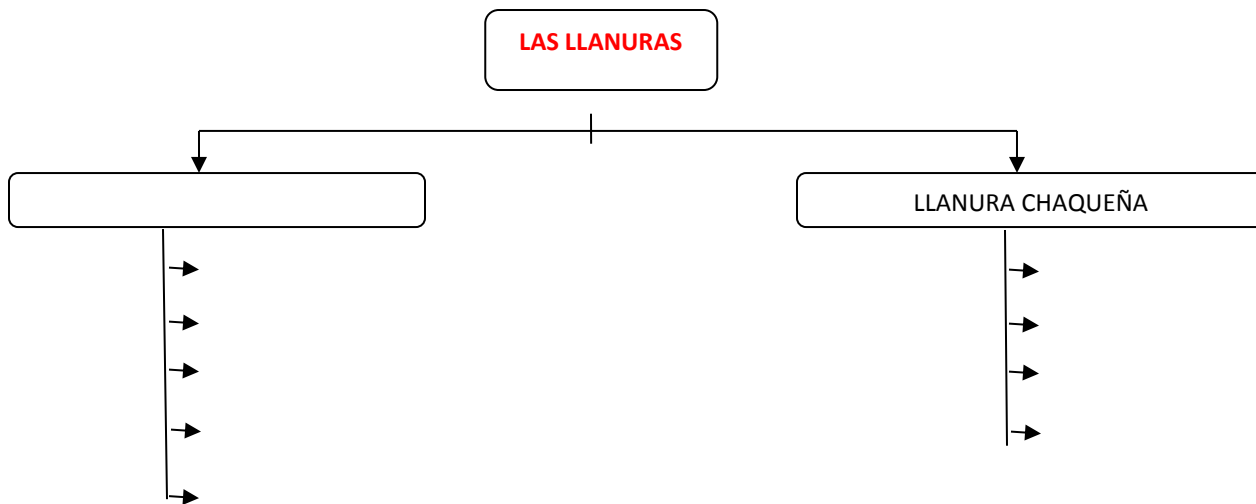
Relieve	Localización	Características
<b>SIERRAS PAMPEANAS</b>		
<b>SIERRAS DE TANDILIA</b>		
<b>SIERRAS DE VENTANIA</b>		
<b>SIERRAS DE MAHUIDA</b>		

5)- ¿Qué son las Llanuras?



a)- Describa las diferencias entre la llanura Pampeana y la llanura Chaqueña.

6)- **Complete el siguiente esquema.**



**RELIEVE III**

7)- ¿Qué son las Mesetas?

8)- **Complete el siguiente cuadro:**

Relieve	Localización	Características
MESETA MISIONERA		
MESETA PATAGÓNICA		
LA PUNA		

9)- **En un mapa físico-político de Argentina, localice los principales relieves argentinos. Marque los países limítrofes, los océanos y el mar argentino.**

\* **LOCALICE:** La Puna – Precordillera – Los Andes centrales o áridos (cordillera principal, cordillera frontal) y los Andes patagónicos-fueguinos. La cordillera Oriental – Sierras Subandinas - Sierras pampeanas –(Sistema de Tandilia, de Ventania y de Mahuida)- Llanura pampeana – Llanura Chaqueña – Meseta Misionera – Meseta Patagónica.