



NOMBRE DE LOS ALUMNOS:







CALIFICACION

TEMA 1: RELIEVE

1-El Continente Americano, y su relieve, tiene su origen según la era geológica y su localización, esto permite su estudio, sus recursos naturales, sus principales paisajes, zonas de reservas y parques nacionales. Ubica en el cuadro los siguientes relieves según la Era y su localización: Escudo Canádico, Macizo de Guayana, Macizo de Brasilia, Cordillera de los Andes, Llanura Chaco-Pampeana, Sierras Pampeanas, Llanura del Amazonas, Rocallosas, Montes Apalaches, Llanura del Mississipi, Llanura del Orinoco, Actividad sísmica y actividad volcánica.

ERA GEOLÓGICA	Principal Relieve Americano	Características localización
PRECÁMBRICA		
PALEOZOICA		
MESOZOICA		
CENOZOICO		
TERCIARIO		
CUARTARIO		

2- Los lugares más visitados de la América por la belleza de sus paisajes y se vinculan con tipos de relieve, completa según corresponda: Las imágenes que ejemplifican los paisajes según el relieve americano.

 <p><small>Enciclopedia Encarta, Scala/Art Resource/Archivo Fotografico Oronoz</small></p> <p>A- Cuzco</p>	 <p><small>Enciclopedia Encarta, Yann Arthus-Bertrand/Corbis</small></p> <p>C -Parque Nacional Yellowstone</p>
 <p><small>Francois Gohier/Photo Researchers, Inc.</small></p> <p>B -Selva del Amazonas</p>	 <p><small>Kjell Sandved/Bruce Coleman, Inc.</small></p> <p>F -Salto del Ángel</p>
 <p><small>Corbis</small></p> <p>D- Glaciares</p>	 <p><small>Mark Newman/Photo Researchers, Inc.</small></p> <p>E- Parque Nacional Iguazú- Cataratas del Iguazú</p>

TEMA: CLIMA

3- En el clima de América es importante poder identificar las definiciones e indica: tiempo y clima.

	son las condiciones promedio de la atmosfera de un lugar determinado.
	son las condiciones de la atmosfera en un lugar, momento preciso, a corto plazo.

4-Investiga que significa: temperatura media anual y amplitud térmica.

5-Investiga que es una estación meteorológica.

6-Investiga, utilizando alguna aplicación de clima, completa el cuadro con los datos de temperatura, humedad y presión atmosférica, completa la información adicional de los países americanos:

<https://www.accuweather.com/>

<https://www.windy.com/?-34.602,-58.385,5>

<https://www.meteored.com.ar/>

PAÍS	CAPITAL	LATITUD	ALTITUD	TEMPERATURA	HUMEDAD	P. ATMOSFÉRICA
CANADA						
MEXICO						
VENEZUELA						
BRASIL						
BOLIVIA						
PERU						
PARAGUAY						
CHILE						
ARGENTINA						

7-Observe el mapa de la distribución de los climas en América y determina el clima de los siguientes países: Argentina, Brasil, Colombia, México, Estados Unidos y Canadá.

