

50	51	52	53	54	55	56	57	58	59
60	61	62	63	64	65	56	67	68	69
70	71	72	73	74	75	76	77	78	79
80	81	82	83	84	85	86	87	88	89
90	91	92	93	94	95	96	97	98	99

0	1	2	3	4	5	6	7	8	9
10	11	12	13	14	15	16	17	18	19
20	21	22	23	24	25	26	27	28	29
30	31	32	33	34	35	36	37	38	39
40	41	42	43	44	45	46	47	48	49
50	51	52	53	54	55	56	57	58	59
60				64	65			68	
70	71			73				77	
80			82			85			
90								98	
100									





\$.....

Mi número está entre el setenta y el ochenta, y termina con tres.


A mí me tocó el que le sigue al noventa y nueve.

Está entre el setenta y cinco y el ochenta y cinco. Las dos cifras son iguales.

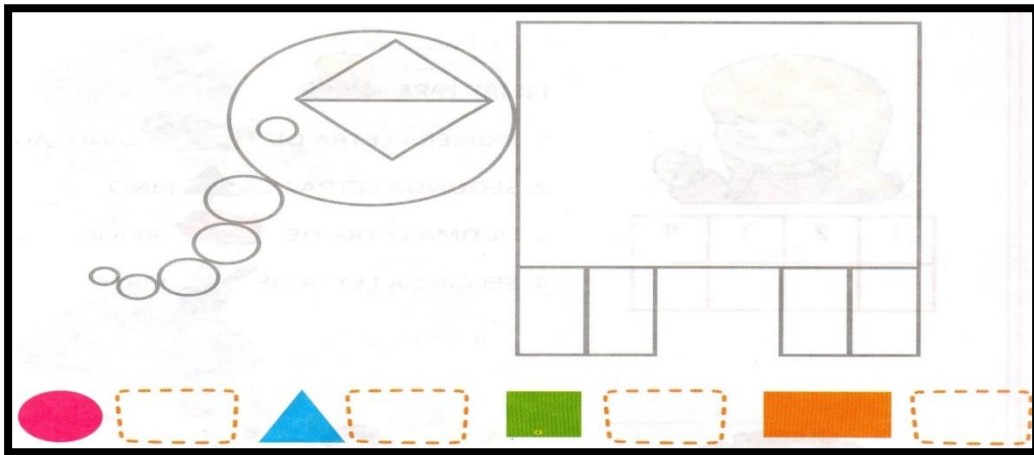
Mi número es mayor que el ochenta y menor que el noventa. Termina en cinco.




Para contar más rápido, lo hago de 10 en 10!!





CUADRADO	TRIÁNGULO	CÍRCULO	RECTÁNGULO
PARA HACER LA CABEZA SE USÓ UN _____			
PARA EL CUERPO SE USÓ UN _____			
CADA PATA ES UN _____			
CADA OREJA ES UN _____			




60 $10 + 10 + 10 + 10 + 10 + 10$

63 3 $1 + 1 + 1$


29


98

➔ **Mirá el mapa, respondé y marcá** los recorridos con distinto color.

Daniela, Flor, Carolina y Belén quieren ir a pescar a la laguna que se encuentra cerca del camping.


• ¿Cuál de las chicas tiene ubicada la carpa más cerca de la laguna?

Daniela cuadras


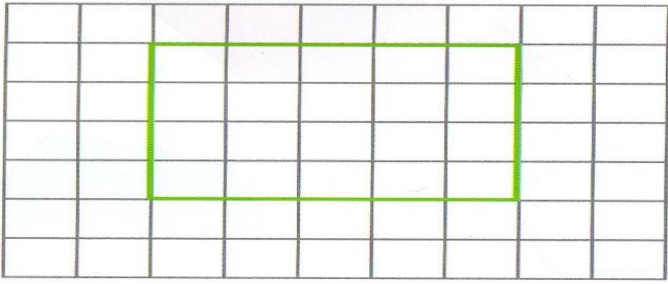
Carolina cuadras

Flor cuadras



Belén cuadras



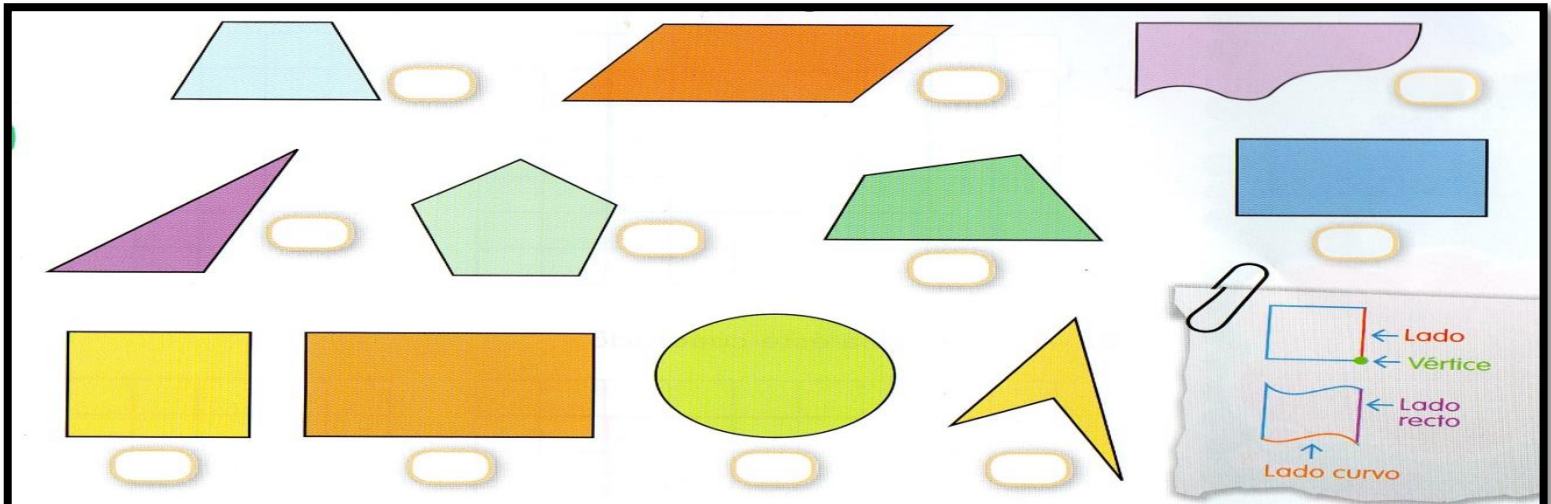
1. Copiá un rectángulo igual a este.



2. Ahora, copiá este cuadrado.




3. ¿Qué tienen de parecido y de distinto las figuras de los dos problemas?

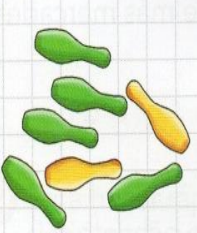
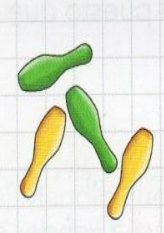
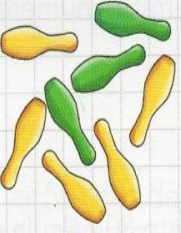
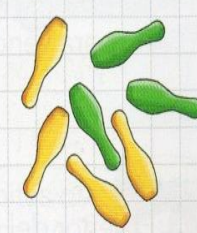
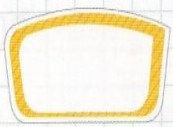
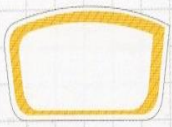





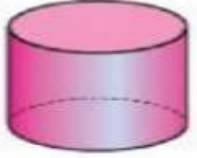
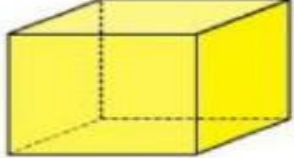

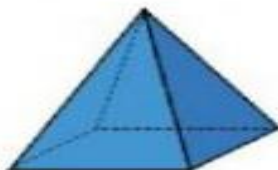
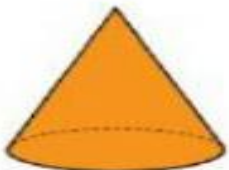
1. La maestra dijo que tiene cuatro lados iguales. Marcá con una X cuál puede ser.





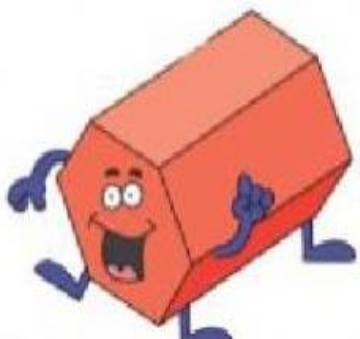

2. Juan eligió una figura con lados curvos y lados rectos. ¿Cuál es? Ponele un circulito.


3. ¿Es verdad que hay una figura que tiene más de cuatro lados?



			
Matías	Leandro	Edy	Camilo
			

		
prisma	cilindro	cubo
		
esfera	pirámide	cono

		
<input type="text"/>	<input type="text"/>	<input type="text"/>
		
<input type="text"/>	<input type="text"/>	<input type="text"/>



5, 10,

Voy a contar los botones de dos en dos para hacer más rápido. Tengo ochenta en el frasco.



$3 + 3 =$ _____

_____ + _____ = 8

$9 + 9 =$ _____

_____ + _____ = 12

$7 + 7 =$ _____

¿CUÁNTO ES EL DOBLE DE DIEZ?

VEINTE.

DOBLE:

DOBLE:

DOBLE:
