

**3. Escribir Verdadero (V) o Falso (F) según corresponda:**

- Si un número es divisible por 6, entonces, es divisible por 3.
- Si un número es divisible por 3, entonces, es divisible por 6.
- Si un número es divisible por 3 y por 5, entonces, es divisible por 15.
- Si un número es divisible por 7, entonces, no es divisible por 2.
- Si un número no es divisible por 4, entonces, no es divisible por 2.
- Si un número es divisible por 16, entonces, es divisible por 8 y por 4.

V	F

Número	Es divisible en ...									
	2	3	4	5	6	7	8	9	10	
2340										
315										
4064										
171										

**SEGÚN SUS LADOS**

• **Equilátero**



3 lados iguales

• **Isósceles**



2 lados iguales

• **Escaleno**



ningún lado igual

**SEGÚN SUS ÁNGULOS**

• **Acutángulo**



3 ángulos agudos  
(menores de 90°)

• **Rectángulo**



1 ángulo recto  
(de 90°)

• **Obtusángulo**



1 ángulo obtuso  
(mayor de 90°)

6- Sin construir, **marcá** en qué caso podés formar un triángulo:

a) Con segmentos de 6 cm, 6 cm y 6 cm.



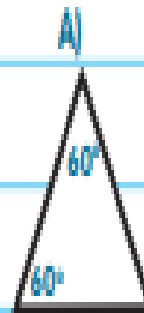
b) Con un ángulo de  $90^\circ$ , otro de  $90^\circ$  y uno de  $20^\circ$ .

c) Con segmentos de 10 cm, 2 cm y 5 cm.

d) Con ángulos de  $45^\circ$ ,  $100^\circ$  y  $35^\circ$ .

- **Explicá** qué tuviste en cuenta para resolverlo.

7- **Calculá** la medida del ángulo que falta en cada caso:



● **Pintá** la carita que corresponda. Si es necesario, **hacé** la corrección en tu carpeta.



ME SALIÓ MUY BIEN



ME SALIÓ BIEN

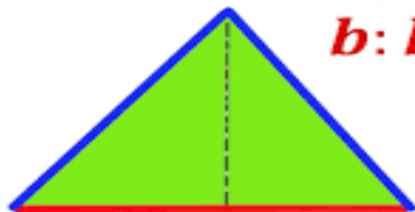


TENGO QUE SEGUIR PRACTICANDO

## Área triángulo

**b: base**

**h: altura**



$$A = \frac{b \cdot h}{2}$$

# LA ATMÓSFERA

Es la capa más externa de la Tierra

## ¿QUÉ ES?

- Es una capa de aire que rodea la Tierra

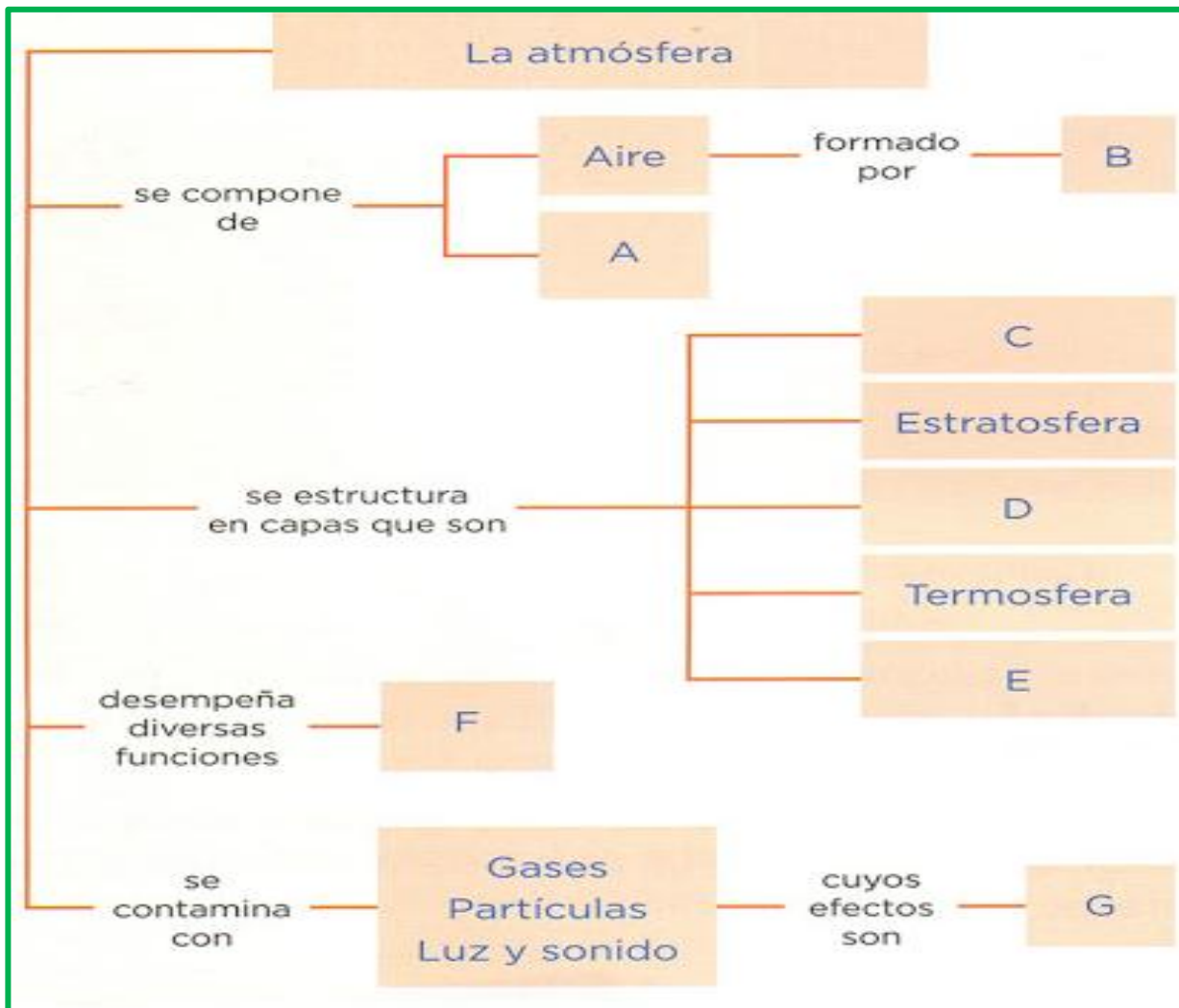


## ESTÁ FORMADA POR:

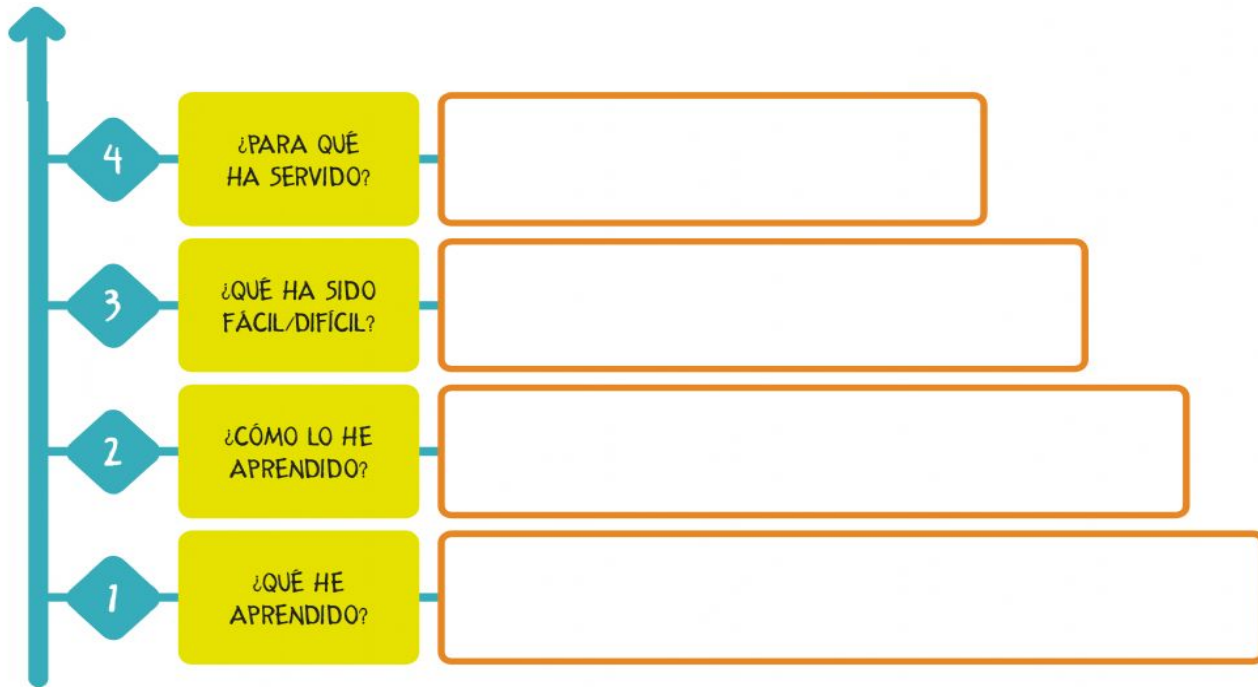
- Un conjunto de gases( oxígeno, dióxido de Carbono, nitrógeno...) gotas de agua y de polvo.





## ¿PARA QUÉ SIRVE ?

- Como tiene oxígeno sirve para que puedan vivir los seres vivos.
- Detiene los rayos solares que nos perjudican.
- Evita que la Tierra se caliente demasiado.
- Mueve las nubes repartiendo el agua de la lluvia



# ESCALERA DE LA METACOGNICIÓN



 $3^2 \cdot 5$	 $2 \cdot 5^2$	<sup>1°</sup> <b>40</b>	<sup>2°</sup> <b>18</b>
 $2 \cdot 3^2$	 $2^3 \cdot 5$	<sup>3°</sup> <b>50</b>	<sup>4°</sup> <b>45</b>

Descompone los conjuntos de números y calcula su mínimo común múltiplo multiplicando los factores primos de su descomposición.

6 - 10

M.C.M.= \_\_\_\_\_

4 - 25

M.C.M.= \_\_\_\_\_

7 - 30 - 19

M.C.M.= \_\_\_\_\_