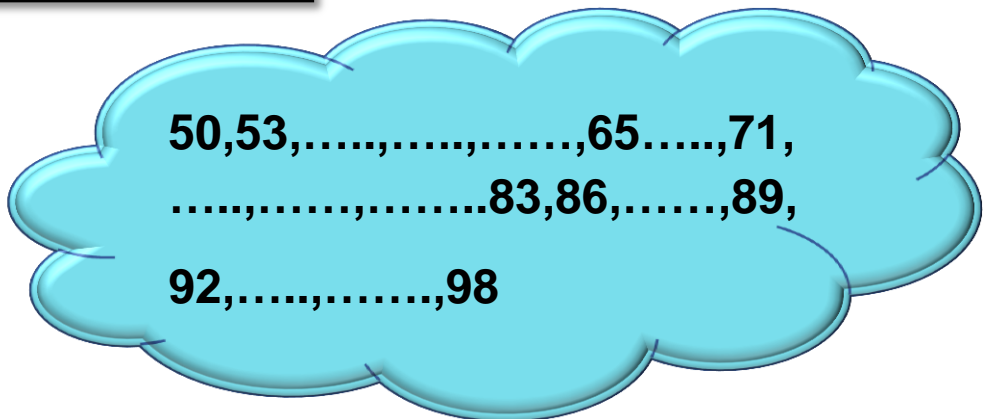
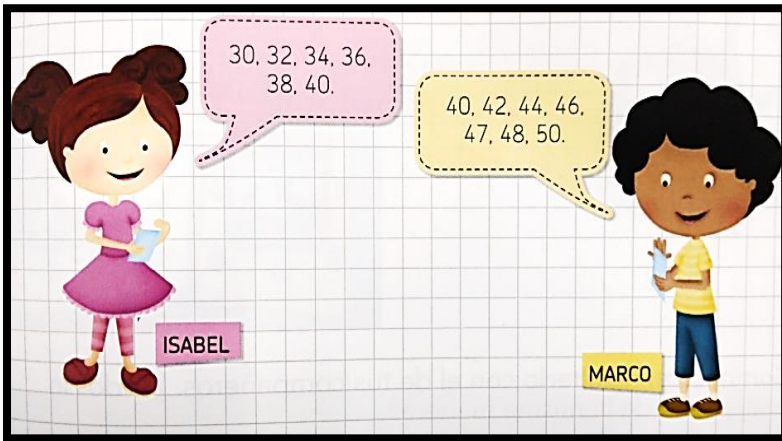



VERDURAS Y FRUTAS	PRECIO	BILLETES Y MONEDAS	DESCOMPOSICIÓN
	\$78		
	\$82		
	\$65		
	\$90		



2- Fíjate en los recipientes y completa.




- Con **una jarra** puedo llenar **vasos**.
- Con **un vaso** puedo llenar **tazas**.
- Con **2 vasos** puedo llenar **jarras**.
- Con **4 tazas** puedo llenar **jarras**.

Si...	Entonces...
$5 + 1 =$	$50 + 10 =$
$3 + 2 =$	$30 + 20 =$
$7 + 2 =$	$70 + 20 =$
$5 - 3 =$	$50 - 30 =$
$4 - 3 =$	$40 - 30 =$



El doctor me dijo que tengo **20** días de yeso y **10** días más de reposo. Si **2+1** es **3**, entonces **20+10** es **30**. ¡30 días sin jugar fútbol!



LOLA TENÍA 6 🍬 Y SE COMIÓ 3 🍬. ¿CUÁNTOS 🍬 LE QUEDAN?

RESPUESTA:

FEDERICO INFLÓ 5 🎈 Y DESPUÉS 6 🎈 MÁS. ¿CUÁNTOS 🎈 INFLÓ EN TOTAL?


RESPUESTA:

TOMÁS TIENE 3 🎈 Y LE REGALARON 7 🎈 MÁS. ¿CUÁNTAS 🎈 TIENE AHORA?

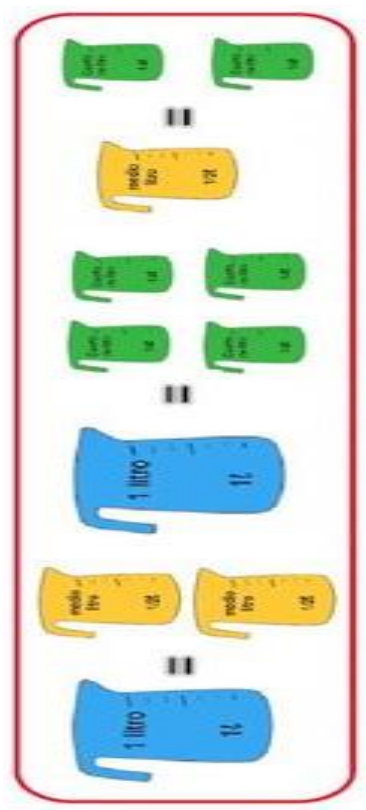
RESPUESTA:

DALMA TIENE 8 🍬 Y LE REGALÓ 2 🍬 A SU AMIGO. ¿CUÁNTAS 🍬 LE QUEDARON?

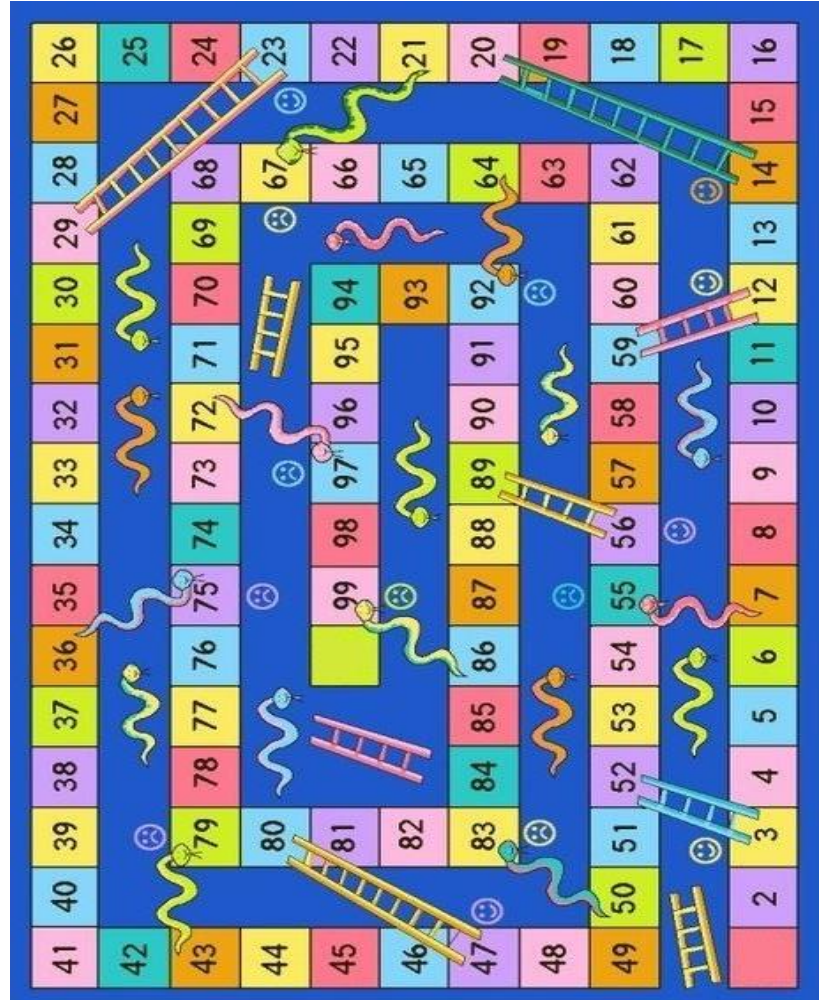
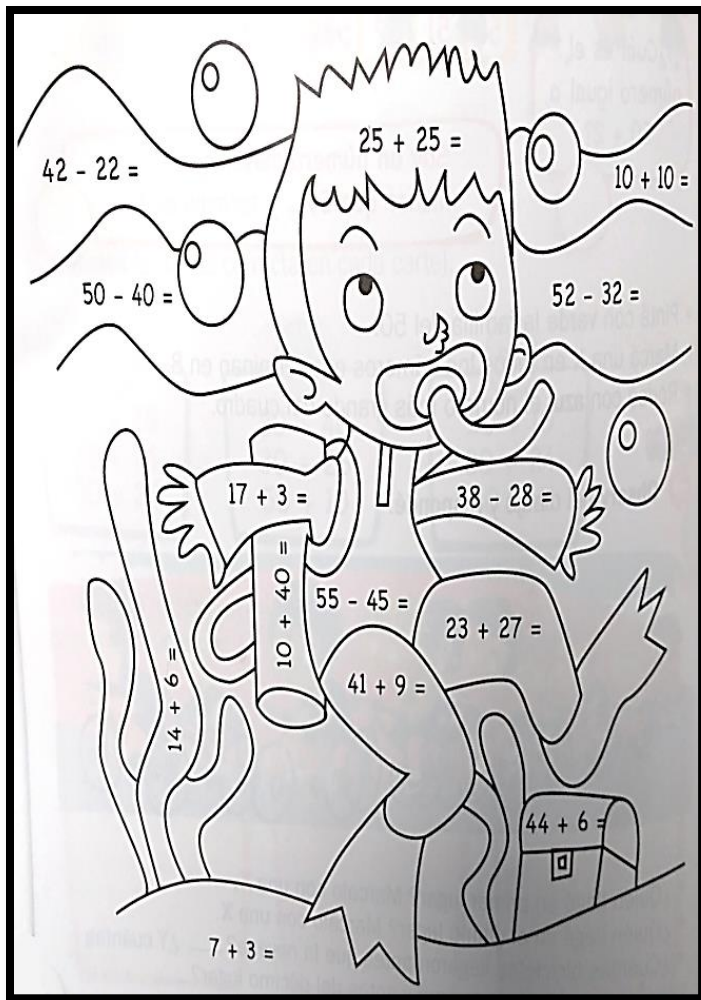
RESPUESTA:



Treinta y tres	1 decena + 3 unidades
veinticinco	7 decenas + 6 unidades
trece	3 decenas + 3 unidades
cincuenta y ocho	2 decenas + 5 unidades
setenta y seis	8 decenas + 9 unidades
ochenta y nueve	5 decenas + 8 unidades



\$ 78	\$ 82	\$ 97
ochenta y dos	noventa y siete	setenta y ocho



0	1	2		4	5	6	7	8	9
10		12	13	14		16		18	19
20		22	23		25	26	27	28	29
30		32	33	34		36		38	
40	41	42	43	44	45	46	47	48	49
50	51	52		54	55		57	58	
60	61	62	63	64	65	66	67	68	69
70	71	72		74		76	77	78	
80		82	83	84	85	86	87	88	89
90	91			94	95			98	99