

ACTIVIDADES DÍA MIÉRCOLES 3 DE ABRIL.

REALIZA LAS SIGUIENTES ACTIVIDADES EN TU CUADERNO.

EL DÍA VIERNES LAS CORREGIMOS.

Con ayuda de una regla, dibuja una recta y una semirrecta.

Dibuja en tu cuaderno:

- a) un segmento que mida 3 cm.
- b) un segmento que mida 1,5 cm.
- c) un segmento que mida 2 cm 5 mm.







Relaciona.



¿Cuántos extremos tiene cada línea?

- a) segmento _____
- b) semirrecta _____
- c) línea recta _____

Identifica las siguientes figuras como recta, segmento o semirrecta.

a)  _____	b)  _____	c)  _____
d)  _____	e)  _____	f)  _____

Observa y elige la opción correcta



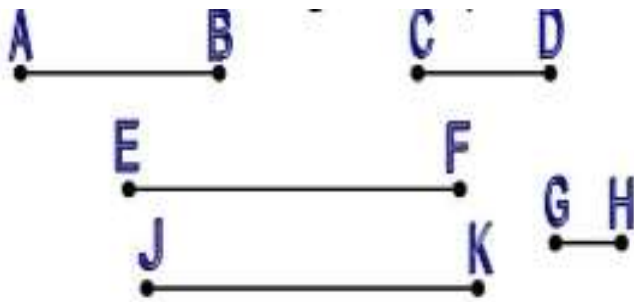
- Rectas
- Dos semirrectas
- 1 semirrecta
- 1 segmento

Traza segmentos según la medida que se indica en la tabla



segmento	centímetros
AB	3
CD	4
EF	2
GH	6
IJ	5

Mide los segmentos y ordénalos de menor a mayor



$\overline{GH} < \underline{\quad} < \underline{\quad} < \underline{\quad} < \underline{\quad}$