

## TAREA EXTRAESCOLAR PARA EL MARTES 23 DE ABRIL - PRIMER GRADO

LA PERSONA QUE TE ACOMPAÑA TE LEE Y VOS TRABAJÁS

❖ **LOS CHICOS JUGARON CON DADOS Y DEDOS.**

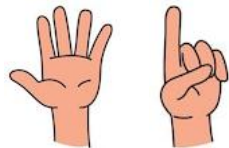
✚ **JUANA MOSTRÓ**




✚ **BAUTI MOSTRÓ**



✚ **LOLA MOSTRÓ**




- ¿CUÁNTO HABRÁ SALIDO EN CADA DADO? ACÁ TE MUESTRO CÓMO ES CADA UNA DE LAS CARAS DE UN DADO:



✓ **DIBUJÁ** LA CARA DEL DADO QUE LE SALIÓ A CADA UNO DE LOS CHICOS PARA MOSTRAR ESA CANTIDAD DE DEDOS.

✓ ¿QUIÉN SACÓ EL NÚMERO MÁS CHICO? **ESCRIBÍ** SU NOMBRE.

❖ AHORA TE DOY ESTAS IMÁGENES. **OBSERVALAS** CON ATENCIÓN.



- **DECÍ** EN VOZ ALTA SUS NOMBRES, ESCUCHANDO BIEN LOS SONIDOS DE SUS LETRAS.

- **ESCRIBÍ** SOLO LAS PALABRAS QUE EMPIEZAN COMO **DADO**. **HACELO COMO PODÁS Y RECORDÁ DICTARTE FUERTE LAS VECES QUE NECESITÉS.**

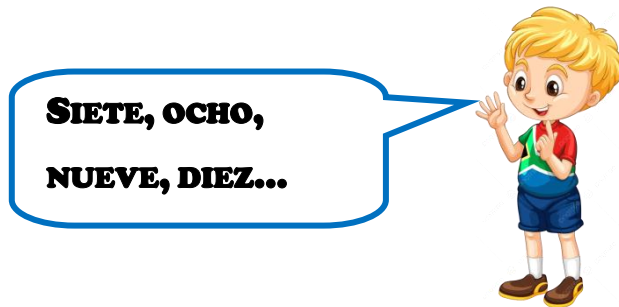
## TAREA EXTRAESCOLAR PARA EL MIÉRCOLES 24 DE ABRIL - PRIMER GRADO

LA PERSONA QUE TE ACOMPAÑA TE LEE Y VOS TRABAJÁS

### ➤ PENSÁ Y CONTÁ.

LOS CHICOS ESTÁN ORDENANDO LOS MEMBRILLOS PARA PREPARAR UN RICO DULCE.  
JUAN TRAJO **5** Y MATEO **7**.

- ✓ DIBUJÁ LOS MEMBRILLOS QUE TRAJO CADA NIÑO.
- ✓ ¿CUÁNTOS MEMBRILLOS JUNTARON ENTRE LOS DOS? CONTÁ Y ANOTÁ EL NÚMERO.
- ❖ MIENTRAS LOS CONTABAN, MATEO DIJO ESTOS NÚMEROS:



- ✓ ESCRIBÍ LOS NÚMEROS QUE DIJO MATEO.
- ✓ RODEÁ EL MAYOR.

## TAREA EXTRAESCOLAR PARA EL VIERNES 26 DE ABRIL - PRIMER GRADO

LA PERSONA QUE TE ACOMPAÑA TE LEE Y VOS TRABAJÁS.

- DIBUJÁ DOS SERES VIVOS.
- ✓ AHORA PENSÁ QUÉ ELEMENTOS DE LA NATURALEZA NECESITAN PARA VIVIR.
- ✓ EL ADULTO TE LEE Y COPIA ESTOS CARTELITOS EN EL CUADERNO:

AGUA

GOMA

MESA

SUELO

- ✓ PINTÁ SOLO LOS QUE NECESITAN LOS SERES VIVOS PARA VIVIR.
- BUSCÁ TU CALENDARIO DE **ABRIL**.
  - ✓ PONÉ TU DEDITO EN EL CARTEL QUE DICE “**DOMINGO**”.
  - ✓ OBSERVÁ LOS NÚMEROS QUE ESTÁN DEBAJO DEL CARTELITO Y ANOTALOS EN TU CUADERNO.
  - ✓ RODEÁ CON COLOR SOLO EL QUE PERTENECE A LA FAMILIA DE LOS DIECI.
  - ✓ ESCRIBÍ SU NOMBRE COMO TE SALGA.