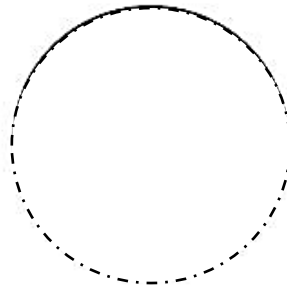


# FIGURAS GEOMÉTRICAS



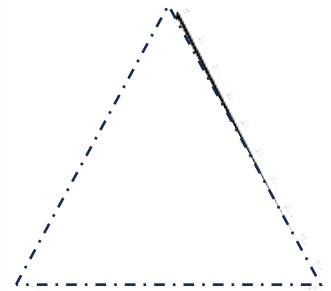
CÍRCULO



CUADRADO



RECTÁNGULO



TRIÁNGULO

¿ES UN SER VIVO?

ENCERRÁ, EN CADA CASO, LA RESPUESTA CORRECTA:



SÍ NO



SÍ NO



SÍ NO



SÍ NO



SÍ NO



SÍ NO

LOS SERES VIVOS NECESITAN

[www.curiosidadblog.com](http://www.curiosidadblog.com)



TIERRA



SOL




AIRE



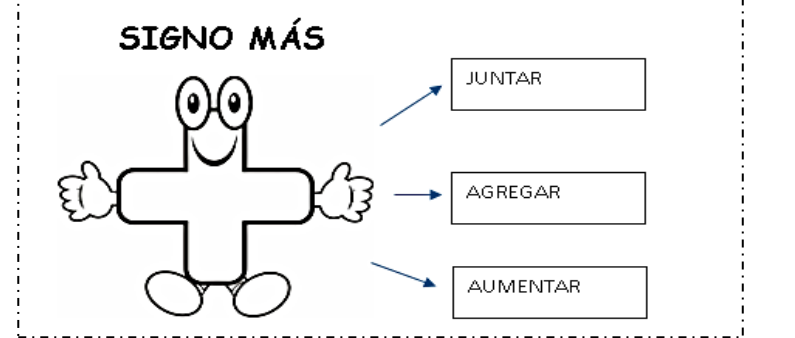
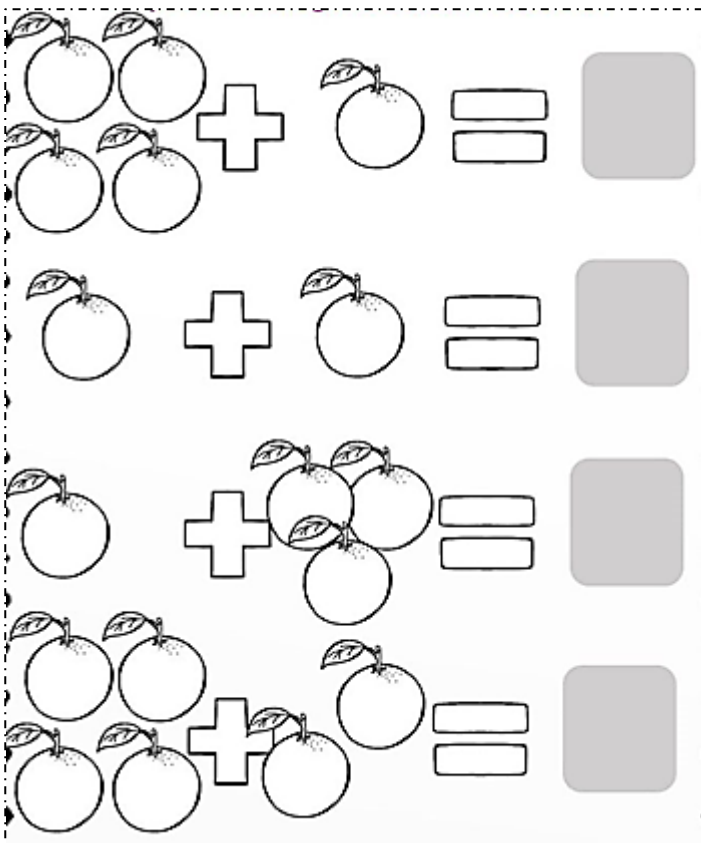

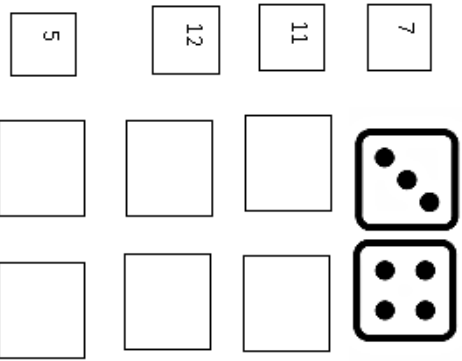

AGUA

SERES VIVOS

ELEMENTOS SIN VIDA



MARCA LAS FORMAS QUE SON IGUALES



# CUENTA Y SUMA

<input type="text"/>	+	<input type="text"/>	= <input type="text"/>
<input type="text"/>	+	<input type="text"/>	= <input type="text"/>
<input type="text"/>	+	<input type="text"/>	= <input type="text"/>
<input type="text"/>	+	<input type="text"/>	= <input type="text"/>

# CONTÁ, SUMÁ Y ESCRIBÍ EL RESULTADO.

## UNA DECENA Y ...

• COMPLETÁ:

<input type="text"/>	=	<input type="text"/>
<input type="text"/>	+	<input type="text"/>
10	+	1
<input type="text"/>	+	<input type="text"/>
10	+	2
<input type="text"/>	+	<input type="text"/>
10	+	3
<input type="text"/>	+	<input type="text"/>
10	+	4
<input type="text"/>	+	<input type="text"/>
10	+	5
<input type="text"/>	+	<input type="text"/>

# COMPLETÁ CON NÚMEROS, OBSERVANDO LAS SITUACIONES.

HABÍA \_\_\_\_\_

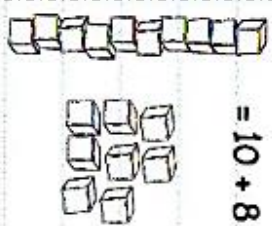
PUSIMOS \_\_\_\_\_

AHORA HAY \_\_\_\_\_

ERAN \_\_\_\_\_

LLEGARON \_\_\_\_\_

AHORA SON \_\_\_\_\_



= 10 + 8

D	U
1	8

CASO.

DIBUJÁ LAS \_\_\_\_\_ Y LOS \_\_\_\_\_ SUELTOS QUE HAY EN CADA \_\_\_\_\_

D	U
1	9

D	U
2	1