

Miércoles 22 de mayo.

MATEMÁTICA.

1) **Anotá** los números que faltan en este sector del cuadro numérico.

100	101	102	103	104	105	106	107	108	109
110	111						117		
120		122				126		128	
130			133		135				139
140				144					

2) Ordena de mayor a menor los siguientes números.

112 – 150 – 121 – 132 – 183 - 145

3) Descompone en cienes, dieces y unos.

142=.....

125=.....

103=.....

4) Cuenta el dinero de los niños y contesta.



3- ¿Cuánto dinero tiene Juan?

- a) 51 pesos
- b) 66 pesos
- c) 56 pesos

4- ¿Cuánto dinero tiene María?

- a) 51 pesos
- b) 66 pesos
- c) 56 pesos

5- ¿Cuánto dinero tienen entre los dos?

- a) 151 pesos
- b) 107 pesos
- c) 106 pesos

















LENGUA.

1) Busca en la sopa de letras palabras con **CA, CO, CU, QUE, QUI, CE, CI**. Escríbelas en tu cuaderno.

C	A	R	P	A	M	L	P
E	V	C	T	D	P	J	T
L	L	C	O	N	E	J	O
E	C	M	X	Z	A	L	P
S	U	Q	U	I	N	T	A
T	N	V	N	M	G	Y	R
E	A	C	K	P	Q	T	N
Z	L	Q	U	E	S	O	N

2) Forma bonitas oraciones con las palabras anteriores.

3) Completa con **QUE, QUI, CE, CI**

 __bra	 pa__te	 pe__ra	 mante__lla
 ra__ta	 ma__na	 __güfia	 __nto
 __so	 __rco	 __sadilla	 mos__to
 __bolla	 __rillos	 __ne	 cro__