

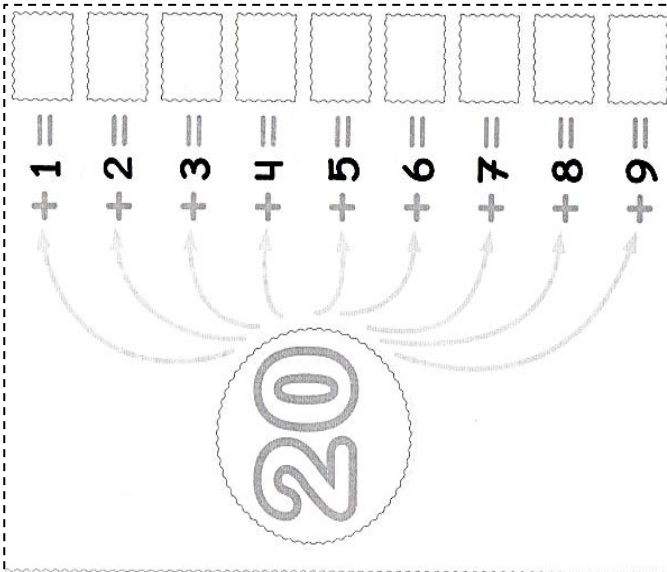
06 JUNIO 2024

DOMINGO	LUNES	MARTES	MIÉRCOLES	JUEVES	VIERNES	SÁBADO
						1
2	3	4	5	6	7	8
9	10	11	12	13	14	15
16	17	18	19	20	21	22
23	24	25	26	27	28	29
30						

- RODEO CON VERDE EL PRIMER DÍA DEL MES
- RODEO CON ROJO EL ÚLTIMO DÍA.
- PINTO LOS DÍAS QUE VENIMOS AL COLEGIO



JUNIO TIENE:



EN CASA

- 1.- AVERIGUÁ CUÁNDO ES EL CUMPLEAÑOS DE LOS INTEGRANTES DE TU FAMILIA Y ESCRIBILO.
- 2.- DIBUJA TU FECHA FAVORITA DEL AÑO (NAVIDAD, AÑO NUEVO, REYES...) ESCRIBÍ QUÉ DÍA DEL AÑO ES.


ENERO	FEBRERO	MARZO	ABRIL	MAYO	JUNIO	JULIO	AGOSTO	SEPTIEMBRE	OCTUBRE	NOVIEMBRE	DICIEMBRE
31	28										



1 EN EL VESTUARIO DEL EQUIPO DE FÚTBOL DE LA ESCUELA, EL PROFE ACOMODA LAS CAMISetas DESDE LA 1 HASTA LA 29. OBSERVÁ Y RESOLVÉ



• COMPLETÁ LAS CAMISetas EN BLANCO CON LOS NÚMEROS QUE CORRESPONDAN.

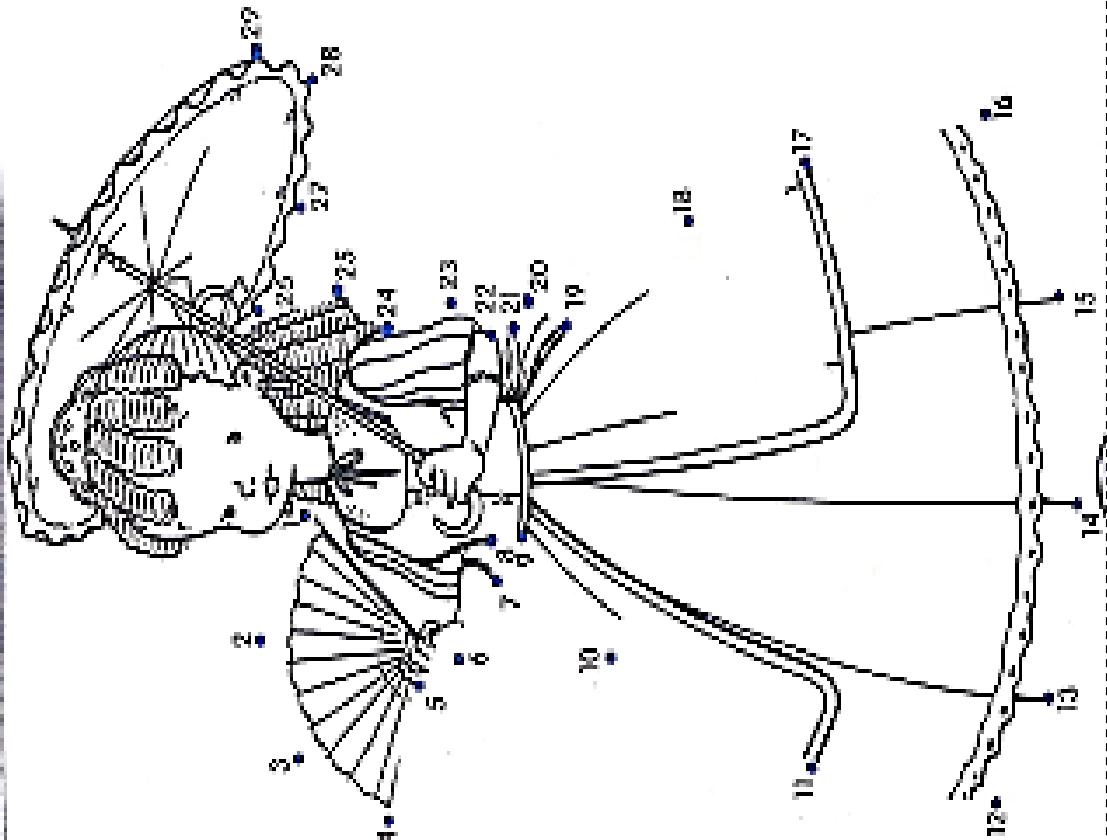
• PINTÁ CON  TODAS LAS CAMISetas QUE TENGAN UN NÚMERO MENOR QUE 8.

• PINTÁ CON  LA REMERA CUYO NÚMERO ESTÁ ENTRE EL 14 Y EL 16.

UNA FOTO PARA UNA...

UNÍ LOS PUNTOS COMENZANDO DESDE EL 1 HASTA EL 29.

PINTÁ EL DIBUJO.



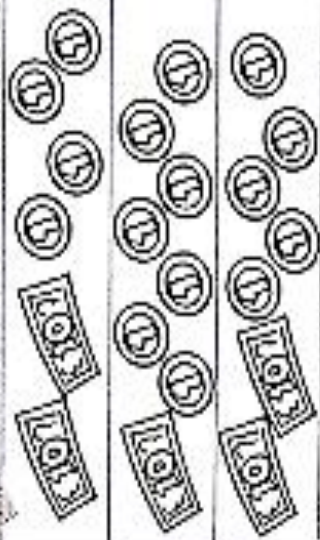
TRABAJAMOS CON LOS NÚMEROS

ORDENÁ LOS NÚMEROS DE MENOR A MAYOR.




CALCULÁ Y DESCUBRÍ EL NÚMERO QUE SE FORMA:

$$10 + 10 + 4 = 24$$



	+		=	
	+		=	

2 ROSARIO NO ESTÁ MUY SEGURA DE QUÉ CAMISETA LE CORRESPONDE. LEÉ LO QUE DICE Y PINTÁ CON LA REMERA CORRECTA.



3 LUEGO DE PRACTICAR, LOS CHICOS DEJARON LAS PELOTAS DESORDENADAS. LEÉ Y ESCRIBÍ LOS SIGUIENTES NÚMEROS DE MENOR A MAYOR.



PROBLEMAS CON LAS LLAVES

PEDRO ES CERRAJERO Y TRABAJA MUCHO. MIRÁ LAS ANOTACIONES QUE REALIZÓ EN SU LIBRETA DURANTE ESTA SEMANA:



¿CUÁNTAS LLAVES HIZO ENTRE EL LUNES Y EL JUEVES?

¿CUÁNTAS LLAVES HIZO ENTRE EL MIÉRCOLES Y EL VIERNES?

RESPUESTA:

RESPUESTA: