

FECHA:

MI NOMBRE:

DNI:

*“Dame la Fe Señor, la Fe de María”.*

Repasamos tablas.

1. A jugar un poco con las tablas. Ingresá al link y haz tu propio record.  
<https://wordwall.net/es/resource/6332397/tablas-del-3>
2. Escribe el tiempo de tu record.
3. Lee los problemas y completa:

2) Hay 4 bolsitas de caramelos, cada bolsa tiene 2 caramelos.

Cálculo:  $\square \times \square = \square$

Respuesta: Hay  $\square$  caramelos.



3) En el jardín hay 7 flores, cada flor tiene 2 mariposas.

Cálculo:  $\square \times \square = \square$

Respuesta: Hay  $\square$  mariposas.



4. Para pensar y resolver.

1) Un semáforo tiene 3 luces. ¿Cuántas luces habrá en total en 5 semáforos?






Respuesta: .....

2) En cada paquete hay 6 huevos.  
¿Cuántos huevos hay en 3 paquetes?

**Respuesta:** .....

TAREA

1. Pinta o escribe el cálculo correcto para resolver cada situación, luego escribe la respuesta.

<p>● ¿Cuántas ruedas tienen seis bicicletas?</p>	<p><math>2 \times 5 =</math> ----  <math>2 \times 6 =</math> ----  <math>2 \times 4 =</math> ----</p>	 <p>Respuesta: _____</p>
<p>● ¿Cuántos cordones se necesitan para cuatro pares de zapatillas?</p>	<p><math>2 \times 4 =</math> ----  <math>2 \times 2 =</math> ----  <math>2 \times 9 =</math> ----</p>	 <p>Respuesta: _____</p>
<p>● ¿Cuántos guantes debe tejer esta abuela para regalarle un par a cada uno?</p>	<p><math>2 \times 7 =</math> ----  <math>2 \times 3 =</math> ----  <math>2 \times 2 =</math> ----</p>	 <p>Respuesta: _____</p>
<p>● ¿Cuántos botones debo comprar para estos sacos?</p>	<p><math>2 \times 5 =</math> ----  <math>2 \times 10 =</math> ----  <math>2 \times 4 =</math> ----</p>	 <p>Respuesta: _____</p>
<p>● Sol y Lucas son hermanos mellizos. Si hoy cumplen 8 años, ¿cuántas velitas deben comprar para que cada uno sopla las suyas?</p>	<p><math>2 \times 6 =</math> ----  <math>2 \times 8 =</math> ----  <math>2 \times 9 =</math> ----</p>	 <p>Respuesta: _____</p>