



COLEGIO DEL PRADO ACTIVIDADES PARA 2° C y D

¡Aprovechamos el día y aprendemos en casa! -Trabajamos en el cuaderno

Pilar y Gilanco son dos niños pertenecientes a los pueblos originarios que están aprendiendo muchas cosas importantes.

1- Pilar hizo estos cacharros de cerámica para vender. Observa los precios, y ordénalos del más económico al más caro:



\$489



\$475



\$498



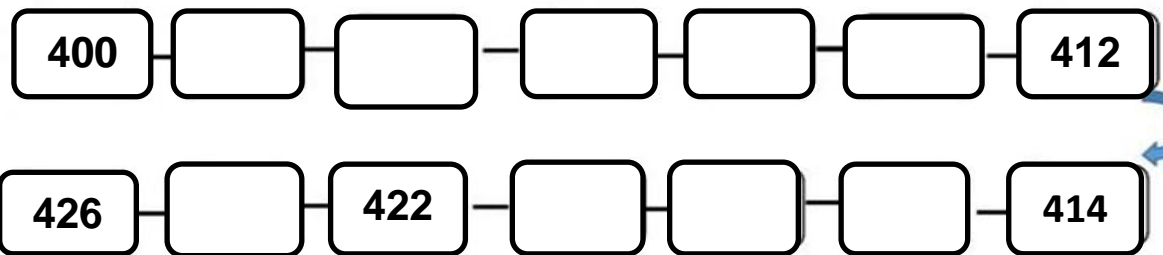
\$405



\$457

2-Anota el precio más bajo y el más alto y escribe su nombre en letras:

3- Ayudale a Gilanco a contar de 2 en 2




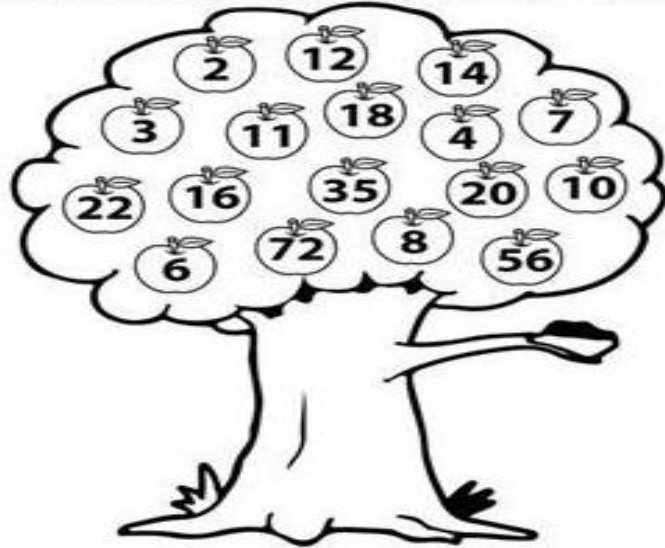
4-¡Pilar y Gilanco repasan las tablas!

Tabla del 2

Colorea las manzanas de los resultados de la tabla del 2.

Completa la tabla del 2.

$2 \times 1 =$	<input type="text"/>
$2 \times 2 =$	<input type="text"/>
$2 \times 3 =$	<input type="text"/>
$2 \times 4 =$	<input type="text"/>
$2 \times 5 =$	<input type="text"/>
$2 \times 6 =$	<input type="text"/>
$2 \times 7 =$	<input type="text"/>
$2 \times 8 =$	<input type="text"/>
$2 \times 9 =$	<input type="text"/>
$2 \times 10 =$	<input type="text"/>



Ayuda al perro a llegar a su comida completando la serie del 2.



MATERIAL PARA MAESTROS

5- ¿Cuántas manzanas vendió el papá de Pilar en cada caso?

Primero vendió 2 bolsas con 100 manzanas en cada una.



Cálculo $\underline{\quad} \times \underline{\quad} = \underline{\quad}$

Luego vendió 2 bolsas con 5 manzanas en cada una.

Cálculo $\underline{\quad} \times \underline{\quad} = \underline{\quad}$

Respuesta: _____

Respuesta: _____

