




ACTIVIDADES PARA REFORZAR LO APRENDIDO



2^{DO} "C" Y "D"

1) Joaquín y Cande están aprendiendo a sacar mitad y doble, ayúdalos a dibujar según lo que se indique.



EL DOBLE



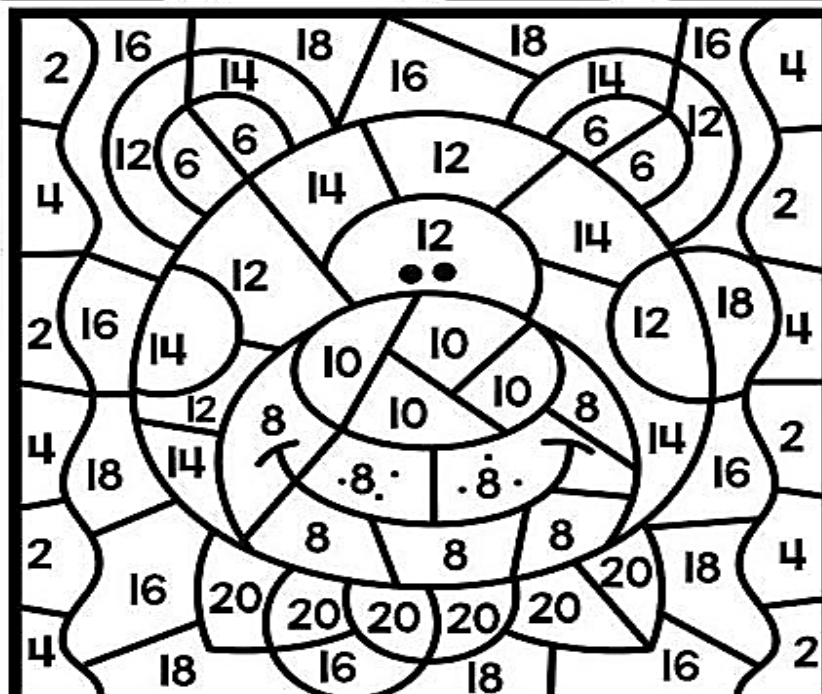
LA MITAD




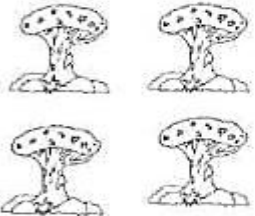

EL DOBLE

2) Revela los resultados de la tabla del 2 y luego colorea según se indica.

Azul $2 \times 1 = \dots$	Naranja $2 \times 2 = \dots$	Rosa $2 \times 3 = \dots$	Beige $2 \times 4 = \dots$
Negro $2 \times 5 = \dots$	Café $2 \times 6 = \dots$ $2 \times 7 = \dots$	Amarillo $2 \times 8 = \dots$ $2 \times 9 = \dots$	Morado $2 \times 10 = \dots$



3) Cande quiso practicar más en su casa, ayúdala a hallar los resultados redondeando la opción correcta.

Número	Doble	Mitad
 6	<div style="display: flex; justify-content: space-around;"> 13 15 </div> <div style="display: flex; justify-content: space-around;"> 12 </div>	<div style="display: flex; justify-content: space-around;"> 3 </div> <div style="display: flex; justify-content: space-around;"> 8 </div> <div style="display: flex; justify-content: space-around;"> 4 </div>
 4	<div style="display: flex; justify-content: space-around;"> 9 8 </div> <div style="display: flex; justify-content: space-around;"> 7 </div>	<div style="display: flex; justify-content: space-around;"> 3 </div> <div style="display: flex; justify-content: space-around;"> 2 </div> <div style="display: flex; justify-content: space-around;"> 6 </div>
 12	<div style="display: flex; justify-content: space-around;"> 24 23 </div> <div style="display: flex; justify-content: space-around;"> 22 </div>	<div style="display: flex; justify-content: space-around;"> 7 </div> <div style="display: flex; justify-content: space-around;"> 8 </div> <div style="display: flex; justify-content: space-around;"> 6 </div>

4) Resuelve la situación problemática con la tabla del 2.



JOAQUÍN Y CANDE, FUERON A COMPRAR 2 CAJITAS DE FIGURITAS PARA COMPLETAR CADA UNO EN SU ÁLBUM DE LA SELECCIÓN ARGENTINA. EN CADA CAJITA VIENEN 8 TARJETAS ¿CUÁNTAS TARJETAS TIENE ENTRE LOS DOS?

Respuesta: _____