








"Viernes: el día que nos recuerda que no importa cuán largo haya sido la semana, siempre habrá un fin de semana para recargar energías."

Me siento... porque...

Área: Matemática

Tema: Dividir.

1. Reparte estas golosinas entre diferentes números de personas para hacer grupos iguales.

<p>Por ejemplo: reparte entre 3</p> 	<p>¿Cómo se debe calcular?</p> $3 \div 3 = \textcircled{1}$
<p>a. Reparte entre 2.</p> 	<p>¿Cómo se debe calcular?</p> <div style="display: flex; justify-content: space-around;"> <input style="width: 40px; height: 20px;" type="text"/> <input style="width: 40px; height: 20px;" type="text"/> <input style="width: 40px; height: 20px;" type="text"/> </div>
<p>b. Reparte entre 4.</p> 	<p>¿Cómo se debe calcular?</p> <div style="display: flex; justify-content: space-around;"> <input style="width: 40px; height: 20px;" type="text"/> <input style="width: 40px; height: 20px;" type="text"/> <input style="width: 40px; height: 20px;" type="text"/> </div>
<p>c. Reparte entre 3.</p> 	<p>¿Cómo se debe calcular?</p> <div style="display: flex; justify-content: space-around;"> <input style="width: 40px; height: 20px;" type="text"/> <input style="width: 40px; height: 20px;" type="text"/> <input style="width: 40px; height: 20px;" type="text"/> </div>
<p>d. Reparte entre 5.</p> 	<p>¿Cómo se debe calcular?</p> <div style="display: flex; justify-content: space-around;"> <input style="width: 40px; height: 20px;" type="text"/> <input style="width: 40px; height: 20px;" type="text"/> <input style="width: 40px; height: 20px;" type="text"/> </div>
<p>e. Reparte entre 2.</p> 	<p>¿Cómo se debe calcular?</p> <div style="display: flex; justify-content: space-around;"> <input style="width: 40px; height: 20px;" type="text"/> <input style="width: 40px; height: 20px;" type="text"/> <input style="width: 40px; height: 20px;" type="text"/> </div>
<p>f. Reparte entre 4.</p> 	<p>¿Cómo se debe calcular?</p> <div style="display: flex; justify-content: space-around;"> <input style="width: 40px; height: 20px;" type="text"/> <input style="width: 40px; height: 20px;" type="text"/> <input style="width: 40px; height: 20px;" type="text"/> </div>

2. Resuelve las siguientes situaciones problemáticas.

Tienes 20 caramelos. ¿De cuántas maneras diferentes puedes colocarlos en grupos iguales? Escribe todas las formas posibles.



PROBLEMAS DE REPARTO

REPARTIR

PEDRO QUIERE REPARTIR 54 FIGURITAS ENTRE SUS 6 AMIGOS DE MANERA QUE TODOS RECIBAN LA MISMA CANTIDAD.

¿CUÁNTOS FIGURITAS RECIBIRÁ CADA UNO DE SUS AMIGOS?

RESPUESTA: _____

¿Y SI LAS TIENE QUE REPARTIR ENTRE 7 AMIGOS? ¿CUÁNTAS RECIBIRÁ CADA UNO? ¿SOBRAN ALGUNAS?

RESPUESTA: _____

¿Y SI TUVIERA QUE REPARTIR 35 CAMELOS ENTRE 6 AMIGOS? ¿CUÁNTOS RECIBIRÁ CADA UNO? ¿SOBRAN ALGUNOS? SI ES ASÍ ¿CUÁNTOS SOBRAN?

RESPUESTA: _____

Área: Lengua

1- Piensa y escribe palabras que cumplan con esta función

Palabras	Masculino	Femenino	Singular	plural
	x			x
		x		x
		x	x	
	x		x	
		x		x
	x		x	