





ACTIVIDADES DE MATEMATICA – 2º AÑO “B”


Tema: Figuras Planas


Estimados alumnos: de la página que estamos trabajando del cuadernillo, resolverán los siguientes ejercicios **d), e) y f) del punto 1**, los cuales controlaremos la próxima clase que nos veamos.

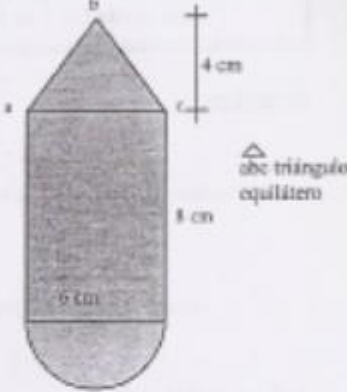
Ej.-1) Halle la superficie y el perímetro de la figura sombreada.


a)  8 cm

b)  12 cm 5 cm


c)  10 cm


d)  10 cm 12 cm 3 cm 3 cm


e)  4 cm 8 cm 6 cm $\triangle abc$ triángulo equilátero

f)  20 cm 80 cm

Ej.-2) Determine la superficie de la figura sombreada.

a)  3 cm 4 cm 10 cm 2 cm

b)  12 cm 4 cm 3.5 cm 14 cm

c)  12 cm 6 cm