



UNOS

0 1 3 5 9

DIECES

10 30 50 90

UN DERECHO ES ALGO QUE PODEMOS HACER Y QUE NADIE PUEDE DECIRNOS QUE NO.

NI OBLIGARNOS A HACER LO CONTRARIO.

EN CASA


1- ¡SE ESCONDIERON LOS NÚMEROS!  
BUSCA Y PINTA TODOS LOS NÚMEROS QUE ENCUENTRES.



2- ESCRIBE EL NÚMERO QUE SE FORMA EN CADA CASO.

	<input type="text"/>		<input type="text"/>
	<input type="text"/>		<input type="text"/>

Familia de 40



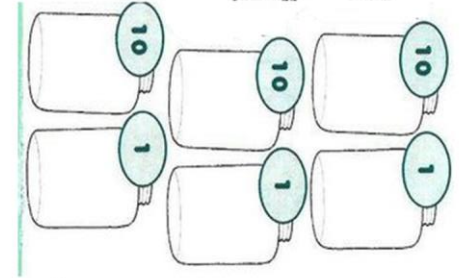
40+0=
40+1=
40+2=
40+3=
40+4=
40+5=
40+6=
40+7=
40+8=
40+9=

VIAJE EL PEREJIL SE DE FUE












BUSCABAN TODOS LO

LAS EL ENCONTRARON VERDURAS MENSAJE

SALUDOS DEJÓ LES VERDES



$$10 + 10 + 10 + 10 + 1 + 1 + 1 =$$

-  COMER GOLOSINAS CADA VEZ QUE QUIERO.
-  QUE MIS MAESTROS ME ENSEÑEN A LEER.
-  ELEGIR A QUÉ HORA IR A DORMIR.
-  JUGAR CON MIS AMIGOS.
-  QUE ME CUIDEN CUANDO ESTOY ENFERMO.
-  QUE MIS PADRES ORDENEN MIS JUGUETES.
-  QUE MIS HERMANOS ME PRESTEN SUS COSAS.
-  QUE ME LLAMEN POR MI NOMBRE.
-  QUE MIS COMPAÑEROS DE LA ESCUELA ME TRATEN BIEN.
-  DECIR LAS COSAS QUE ME PASAN Y QUE LOS DEMÁS ME ESCUCHEN.
-  QUE MIS PADRES ME COMPREN TODO LO QUE LES PIDO.

ORUGA MESA LUNA

PERA PATO

## UNOS Y DIECES

● **ARMÁ** LOS NÚMEROS Y **UNÍ** CON FLECHAS.

### EN TU CUADERNO

● **ESCRIBÍ** CUÁNTOS DIECES Y UNOS TIENEN ESTOS NÚMEROS.

27

38



● **OBSERVÁ** LAS IMÁGENES Y **ESCRIBÍ** LAS ORACIONES EN ORDEN.

LLEVA CAPERUCITA A COMIDA ABUELA. SU



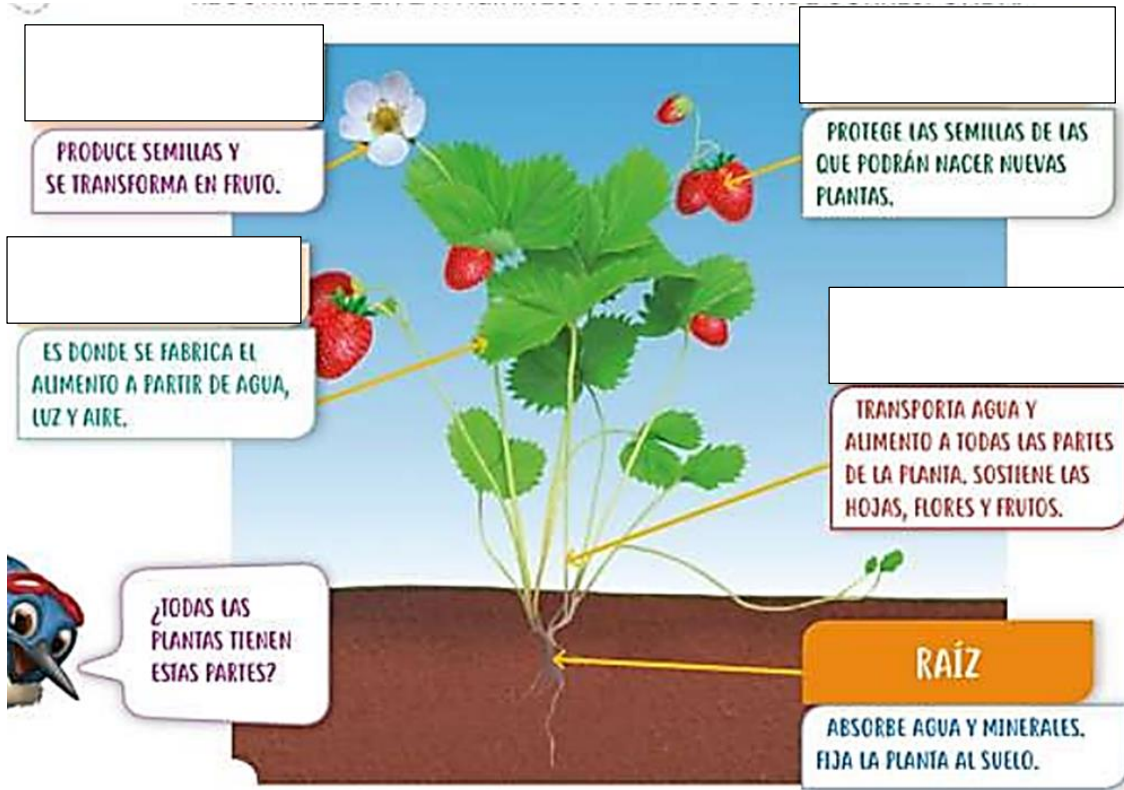
NENA LA ENCUENTRA LOBO. AL

EL PUNTO TE AYUDA A SABER CUÁL ES LA ÚLTIMA PALABRA DE CADA UNA.

➔ LAS PLANTAS SON SERES VIVOS QUE FABRICAN SU PROPIO ALIMENTO. PARA CRECER NECESITAN LUZ, AGUA, AIRE Y MINERALES. NO PUEDEN DESPLAZARSE PERO REACCIONAN ANTE ESTÍMULOS EXTERNOS COMO CAMBIOS EN LA CANTIDAD DE LUZ O DE AGUA QUE RECIBEN.



- ◆ ¿QUÉ PARTE DE LA PLANTA DE LECHUGA SE COME?
- ◆ ¿QUÉ OTRAS PARTES COMESTIBLES HAY EN LAS PLANTAS?



PLANTA	RAÍZ	TALLO	HOJA	FLOR	FRUTO
 BERENJENA					X
 ALCAUCIL					
 APIO					
 REMOLACHA					
 ZANAHORIA					

1. MATÍAS TIENE UNA PLANTA. MARCÁ EN QUÉ LUGARES DE LA CASA PUEDE UBICARLA PARA QUE SIGA CRECIENDO.

1.- CON LAS PLANTAS DEL PUNTO 4: ELEGÍ TRES Y DIBUJÁ UNA ENSALADA EN EL PLATO.


2.- RESPONDÉ: ¿QUÉ OTROS INGREDIENTES SALUDABLES LE AGREGARÍAS A LA ENSALADA?

3.- BUSCÁ Y PEGÁ UNA PLANTA DE LA QUE SE COMAN SUS FRUTOS Y OTRA DE LA QUE SE COMAN SUS HOJAS. ESCRIBÍ SUS NOMBRES.

# LA ORUGA MUY HAMBRIENTA



BAJO LA LUZ DE LA LUNA, ENCIMA DE UNA HOJA, HABÍA UN HUEVITO. UN DOMINGO POR LA MAÑANA, EL SOL CALIENTE SALIÓ Y... ¡PUM! DEL HUEVITO UNA ORUGA PEQUENITA Y MUY HAMBRIENTA SALIÓ. ELLA EMPEZÓ A BUSCAR COMIDA.



EL **LUNES** COMIÓ Y COMIÓ, Y ATRAVESÓ UNA **MANZANA** PERO TODAVÍA TENÍA HAMBRE.

EL **MARTES** COMIÓ Y COMIÓ, Y ATRAVESÓ DOS **PERAS**. PERO TODAVÍA TENÍA HAMBRE.

EL **MIÉRCOLES** COMIÓ Y COMIÓ, Y ATRAVESÓ TRES **CIRUELAS**. PERO TODAVÍA TENÍA HAMBRE.

EL **JUEVES** COMIÓ Y COMIÓ, Y ATRAVESÓ CUATRO **FRESAS**. PERO TODAVÍA TENÍA HAMBRE.

EL **VIERNES** COMIÓ Y COMIÓ, Y ATRAVESÓ CINCO **NARANJAS**. PERO TODAVÍA TENÍA HAMBRE.

EL SÁBADO SE COMIÓ UN PEDAZO DE PASTEL DE CHOCOLATE, UN BARQUILLO DE HELADO, UN PEPINO, UNA REBANADA DE QUESO SUIZO, UNA REBANADA DE SALAME, UNA PALETA, UN PEDAZO DE PASTEL, UNA SALCHICHA, UN PANECILLO Y UN PEDAZO DE SANDÍA. AQUELLA NOCHE TUVO UN DO LOR DE ESTÓMAGO.

EL DÍA SIGUIENTE FUE **DOMINGO** OTRA VEZ. LA ORUGA SE COMIÓ UNA HOJA VERDE BUENA Y DESPUÉS SE SINTIÓ MUCHO MEJOR. AHORA, YA NO TENÍA HAMBRE Y YA NO ERA UNA PEQUEÑA ORUGUITA, ¡ERA UNA ORUGOTA GRANDE Y GORDA! SE CONSTRUYÓ UNA CASITA, LLAMADA CAPULLO, ALREDEDOR DE ELLA. SE QUEDÓ DENTRO DURENTE DOS SEMANAS. LUEGO MORDISQUEÓ UN HOYO EN EL CAPULLO, SE SALIÓ A EMPUJONES Y... ¡ERA UNA HERMOSA MARIPOSA!



FIN

