

SE ESCONDIERON LOS NÚMEROS

HAY MUCHOS NÚMEROS ESCONDIDOS EN ESTA CIUDAD. BÚSCALOS Y REPÁSALOS CON COLOR. LUEGO NOMBRA LOS QUE CONOCES.


















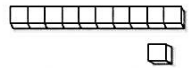

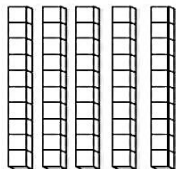
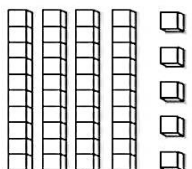





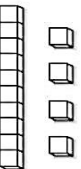
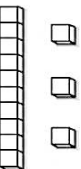

LEÉ CON ATENCIÓN.

UN DERECHO ES
ALGO QUE PODEMOS
HACER Y QUE NADIE
PUEDE DECIRNOS
QUE NO.



NI OBLIGARNOS
A HACER LO
CONTRARIO.

-  COMER GOLOSINAS CADA VEZ QUE QUIERO.
-  QUE MIS MAESTROS ME ENSEÑEN A LEER.
-  ELEGIR A QUÉ HORA IR A DORMIR.
-  JUGAR CON MIS AMIGOS.
-  QUE ME CUIDEN CUANDO ESTOY ENFERMO.
-  QUE MIS PADRES ORDENEN MIS JUGUETES.
-  QUE MIS HERMANOS ME PRESTEN SUS COSAS.
-  QUE ME LLAMEN POR MI NOMBRE.
-  QUE MIS COMPAÑEROS DE LA ESCUELA ME TRATEN BIEN.
-  DECIR LAS COSAS QUE ME PASAN Y QUE LOS DEMÁS ME ESCUCHEN.
-  QUE MIS PADRES ME COMPREN TODO LO QUE LES PIDO.











Diagram of a plant with arrows pointing to parts and labels:

- Arrow pointing to the stem: 
- Arrow pointing to the leaves: 
- Arrow pointing to the roots: 
- Arrow pointing to the flowers: 
- Arrow pointing to the fruit: 
- Arrow pointing to the soil: 





Children holding number cards: 46, 52, 43, 10, 10, 10, 1, 1, 1.

Illustration of three jars with labels: 10, 10, 1.

Equation: $10 + 10 + 10 + 10 + 1 + 1 + 1 =$

Familia
de 40



$40+0=$

$40+1=$

$40+2=$

$40+3=$

$40+4=$

$40+5=$

$40+6=$

$40+7=$

$40+8=$

$40+9=$

ORUGA

PERA


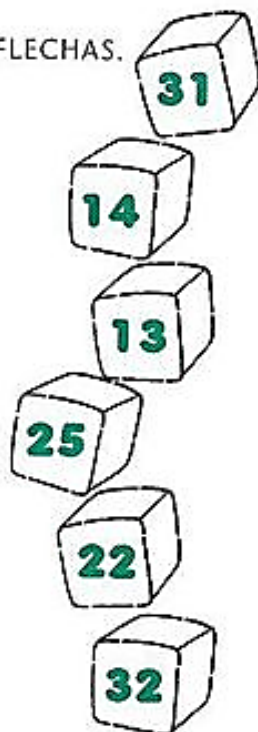

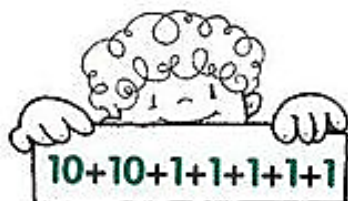
MESA

PATO

LUNA

UNOS Y DIECES

● ARMÁ LOS NÚMEROS Y UNÍ CON FLECHAS.



EN TU CUADERNO

● ESCRIBÍ CUÁNTOS DIECES Y UNOS TIENEN ESTOS NÚMEROS.


27

38

10

12

1



VIAJE EL PEREJIL SE DE FUE

BUSCABAN TODOS LO

LAS EL ENCONTRARON VERDURAS MENSAJE

SALUDOS DEJÓ LES VERDES

● **OBSERVÁ** LAS IMÁGENES Y **ESCRIBÍ** LAS ORACIONES EN ORDEN.

LLEVA CAPERUCITA A COMIDA ABUELA. SU



EL PUNTO TE AYUDA A SABER CUÁL ES LA ÚLTIMA PALABRA DE CADA UNA.



NENA LA ENCUENTRA LOBO. AL
