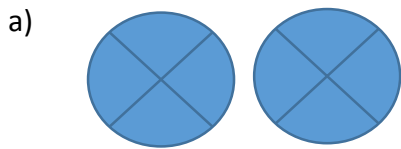
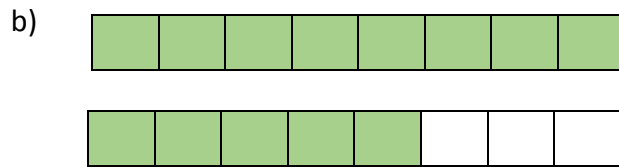


**Práctico Repaso para la Evaluación
NOS DISPONEMOS A TRABAJAR...**


1. Indicar la fracción que representa en cada caso y clasificar en propia, impropia o aparente



.....
.....



.....
.....



.....
.....

2. Escribir la fracción decimal de:

- a) 2,068 b) 0,7

3. Representar gráficamente:

- a) $\frac{11}{4}$ b) $\frac{4}{2}$ c) $\frac{3}{7}$

4. Escribir la fracción irreducible de:

$$\frac{450}{600} =$$

5. Escribir dos fracciones equivalentes

$$\frac{4}{7} = \text{---} = \text{---}$$

6. Representar en la recta numérica

$$\frac{11}{4} ; \frac{5}{9} ; \frac{3}{4} ; \frac{1}{9}$$