

Actividades para el viernes 2 de septiembre


Área: Matemática

5° grado A, B, y C


Seño: Verónica

- Recuerda colocar la fecha y un hermoso pensamiento en el cuaderno de matemáticas.
- No hace falta imprimir puedes copiar y dibujar. ¡Eres capaz!

1- Pinta de color amarillo la cantidad que indica la fracción



2- Observa la imagen y responde



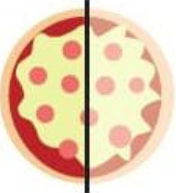
3- Indica con una cruz que fracción corresponde a la fracción escrita en letras

Tres novenos	<input type="radio"/> $\frac{9}{3}$	<input type="radio"/> $\frac{3}{9}$	<input type="radio"/> $\frac{3}{19}$
Catorce quintos	<input type="radio"/> $\frac{14}{5}$	<input type="radio"/> $\frac{5}{14}$	<input type="radio"/> $\frac{3}{5}$

4- Completa con el numerador y el denominador en función de la imagen y escribe debajo si falta el numerador o el denominador


Juana y Luis pidieron pizza para cenar. **Escribí** el dato que falta.

Juana comió:

$\frac{\dots}{2}$ 

Falta el:

Luis comió:

$\frac{4}{\dots}$ 

Falta el:

¿Juana y Luis comieron lo mismo?

5- Lee y resuelve. Puedes resolver dibujando

- Leo dividió una tortilla en **15** partes iguales. Él repartió **6** partes entre sus amigos.
¿Qué fracción de la tortilla le queda a Leo?
¿Qué fracción le dio a sus amigos?
- Santino y sus dos hermanos van a pintar el cuarto de juegos. Santino va a pintar **4/8** del total del cuarto. Su hermano Luca va a pintar **2/8** y Vitto pintará lo que falta.
¿Qué fracción pintará Vitto?