

Colegio Santa Teresita del Niño Jesús
"Jesús en Tí confío, encárgate de todo!" -2.024

Área: Matemática

Tema: Sumas y restas de fracciones

Docente: Prof. Ivana N. Fuentes

Grado: 4° "A" y "C"

1- Recuerda la explicación de la seño







Para sumar o restar fracciones con el mismo denominador, sumamos o restamos los numeradores, y el denominador se mantiene. Recordemos los términos de una fracción: numerador y denominador.



Ej.



2- Resolvemos, Pinto la fracción y escribo cómo se lee:

OPERACIÓN	REPRESENTACIÓN GRÁFICA	SE LEE
$\frac{5}{9} + \frac{3}{9} =$		
$\frac{2}{8} + \frac{1}{8} =$		
$\frac{6}{24} + \frac{8}{24} =$		
$\frac{3}{10} + \frac{5}{10} =$		
$\frac{1}{9} + \frac{1}{9} =$		
$\frac{1}{9} + \frac{1}{9} =$		

3- Carrera de fracciones:

Comenzamos por la salida, pinta el camino correcto que da el resultado de la suma o resta correcta hasta llegar a la meta final.

