

Área: Geometría

Fecha: 19/9/24


Tema: Ángulos Complementarios y Suplementarios

1) Averigua el complemento y traza el ángulo

### Complementarios


$$\beta = 40^\circ$$

$$\alpha =$$



$$\beta = 30^\circ$$

$$\alpha =$$

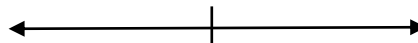


2) Averigua el suplemento y traza el ángulo

### Suplementarios

$$\beta = 130^\circ$$

$$\alpha =$$



$$\beta = 70^\circ$$

$$\alpha =$$

