


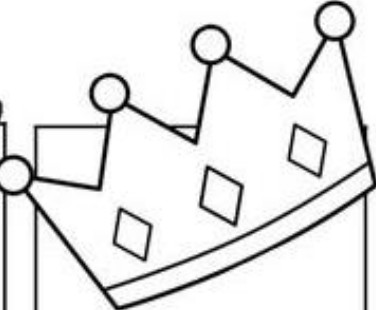




ACTIVIDADES SEGUNDO GRADO

JUEVES 19 DE SEPTIEMBRE



**LENGUA**

1. PIENSA Y ESCRIBE ADJETIVOS PARA LOS SIGUIENTES DIBUJOS.

 <hr/> <hr/> <hr/>	 <hr/> <hr/> <hr/>	 <hr/> <hr/> <hr/>
 <hr/> <hr/> <hr/>	 <hr/> <hr/> <hr/>	 <hr/> <hr/> <hr/> <p>Material Gratuito</p>



2. Escribe una historia observando las imágenes. Pinta los adjetivos que utilizaste


# UN DÍA DE PASEO



Primero: \_\_\_\_\_  
\_\_\_\_\_  
\_\_\_\_\_  
\_\_\_\_\_

Después: \_\_\_\_\_  
\_\_\_\_\_  
\_\_\_\_\_  
\_\_\_\_\_

Por último: \_\_\_\_\_  
\_\_\_\_\_  
\_\_\_\_\_



## MATEMÁTICA

### 3. MARCA CON UNA X EL NÚMERO CORRECTO

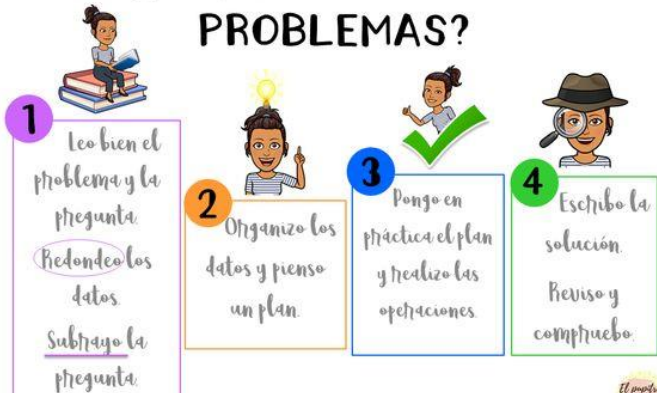


- |                                |                              |                              |                              |
|--------------------------------|------------------------------|------------------------------|------------------------------|
| ● Ciento treinta y nueve       | <input type="checkbox"/> 169 | <input type="checkbox"/> 119 | <input type="checkbox"/> 139 |
| ● Seiscientos cuarenta y ocho  | <input type="checkbox"/> 608 | <input type="checkbox"/> 648 | <input type="checkbox"/> 48  |
| ● Trescientos sesenta y cinco  | <input type="checkbox"/> 365 | <input type="checkbox"/> 35  | <input type="checkbox"/> 345 |
| ● Setecientos setenta y uno    | <input type="checkbox"/> 601 | <input type="checkbox"/> 771 | <input type="checkbox"/> 791 |
| ● Ciento diecinueve            | <input type="checkbox"/> 119 | <input type="checkbox"/> 149 | <input type="checkbox"/> 269 |
| ● Quinientos setenta y tres    | <input type="checkbox"/> 503 | <input type="checkbox"/> 533 | <input type="checkbox"/> 573 |
| ● Seiscientos setenta y cuatro | <input type="checkbox"/> 64  | <input type="checkbox"/> 624 | <input type="checkbox"/> 674 |
| ● Doscientos veintisiete       | <input type="checkbox"/> 207 | <input type="checkbox"/> 227 | <input type="checkbox"/> 27  |
| ● Quinientos veintiuno         | <input type="checkbox"/> 501 | <input type="checkbox"/> 51  | <input type="checkbox"/> 521 |
| ● Novecientos treinta y dos    | <input type="checkbox"/> 902 | <input type="checkbox"/> 932 | <input type="checkbox"/> 922 |



### 4. RESUELVE LAS SITUACIONES PROBLEMÁTICAS SIGUIENDO LOS PASOS CORRESPONDIENTES.

## ¿CÓMO RESOLVER PROBLEMAS?




LOLA TIENE \$20. FUE AL KIOSCO Y GASTÓ \$6 EN UN TURRÓN Y \$9 EN CAMELOS. ¿CUÁNTO GASTÓ EN TOTAL?

RESPUESTA:



PARA SU CUMPLEAÑOS, MATEO INFLÓ 12 GLOBOS ROJOS Y 15 AZULES. ¿CUÁNTOS GLOBOS TIENE EN TOTAL?

RESPUESTA:



TIAGO TENÍA \$18. FUE AL KIOSCO Y GASTÓ \$7. ¿CUÁNTO LE SOBRÓ?

RESPUESTA:



ORIANA NECESITA 18 GLOBOS PARA SU CUMPLEAÑOS. YA INFLÓ 12. ¿CUÁNTOS LE FALTAN INFLAR?

RESPUESTA:

