

1 MATÍAS TIENE UNA PLANTA. MARCÁ EN QUÉ LUGARES DE LA CASA PUEDE UBICARLA PARA QUE SIGA CRECIENDO.



→ LAS PLANTAS SON SERES VIVOS QUE FABRICAN SU PROPIO ALIMENTO. PARA CRECER NECESITAN LUZ, AGUA, AIRE Y MINERALES. NO PUEDEN DESPLAZARSE PERO REACCIONAN ANTE ESTÍMULOS EXTERNOS COMO CAMBIOS EN LA CANTIDAD DE LUZ O DE AGUA QUE RECIBEN.



PRODUCE SEMILLAS Y SE TRANSFORMA EN FRUTO.

PROTEGE LAS SEMILLAS DE LAS QUE PODRÁN NACER NUEVAS PLANTAS.

ES DONDE SE FABRICA EL ALIMENTO A PARTIR DE AGUA, LUZ Y AIRE.

TRANSPORTA AGUA Y ALIMENTO A TODAS LAS PARTES DE LA PLANTA. SOSTIENE LAS HOJAS, FLORES Y FRUTOS.

¿TODAS LAS PLANTAS TIENEN ESTAS PARTES?

RAÍZ

ABSORBE AGUA Y MINERALES. FIJA LA PLANTA AL SUELO.



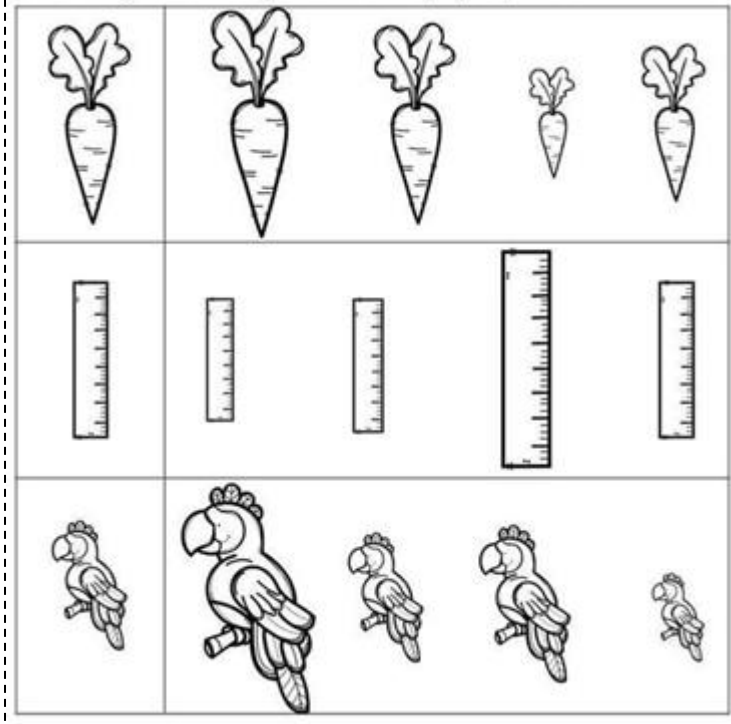

LO QUE COMEMOS DE LAS PLANTAS ES EL FRUTO.

PERO RECIÉN COMISTE LECHUGA Y ESO NO ES UN FRUTO.



- ◆ ¿QUÉ PARTE DE LA PLANTA DE LECHUGA SE COME?
- ◆ ¿QUÉ OTRAS PARTES COMESTIBLES HAY EN LAS PLANTAS?

PLANTA	RAÍZ	TALLO	HOJA	FLOR	FRUTO
 BERENJENA					X
 ALCAUCIL					
 APIO					
 REMOLACHA					
 ZANAHORIA					



YO:	MI COMPAÑERO/A:
MIDO:	MIDE:

ALTO DE UN CUADERNO.

MIDE CENTÍMETRO.



ANCHO DE UN ESCRITORIO.

MIDE CENTÍMETRO.

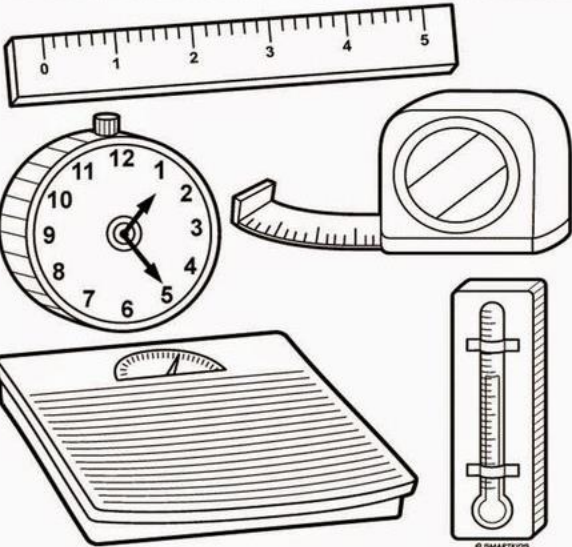
ANCHO DE UNA VENTANA.

MIDE CENTÍMETRO.





LARGO DE UN LÁPIZ.

MIDE CENTÍMETRO.



NOMBRE	ALTURA

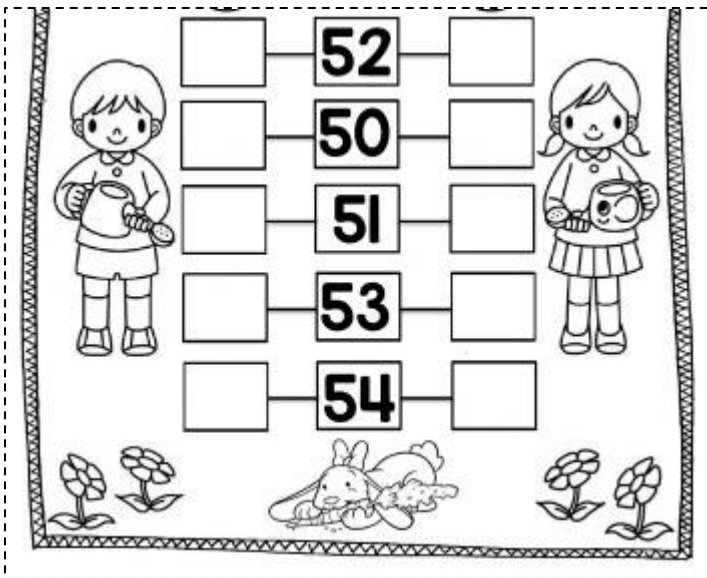


Familia de 50

$50+0=$	
$50+1=$	
$50+2=$	
$50+3=$	
$50+4=$	
$50+5=$	
$50+6=$	
$50+7=$	
$50+8=$	
$50+9=$	

	42				
			48		
				55	
			59		

www.mistercolgurosmatros.com



HICE 42 PUNTOS.

HICE 60 PUNTOS.

HICE 6 PUNTOS.

GERMINACIÓN DE UNA SEMILLA.


- ¿CÓMO CAMBIA LA SEMILLA? DIBUJA.

1º SEMANA	2º SEMANA	3º SEMANA	4º SEMANA

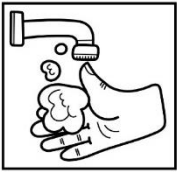
ESCRITURA DE ORACIONES

Observa cada dibujo e inventa una oración para cada uno.











$$10+10+1+1+1+1+1$$



$$10+1+1+1$$



$$10+10+10+1+1$$

31

14

13

25

22

32



$$10+10+1+1$$



$$10+10+10+1$$




$$10+1+1+1+1$$



Lecturitas de **COMPRESIÓN**

1.- INSTRUCCIONES: Lee este cuento corto tres veces y colorea un sol cada vez que lo leas



MARTIN ARMA UNA PISTA

MARTIN ARMÓ UNA PISTA CON AUTITOS PARA JUGAR, MIDE 5 METROS, Y LOS AUTOS SON DE COLORES. EL QUE MÁS LE GUSTA ES EL DE COLOR ROJO. LE ENCANTA JUGAR CON ESO.

1.- INSTRUCCIONES: Contesta a las preguntas tachando el recuadro correcto.

1. Cuanto mide la pista



- 6 metros
- 4 metros
- 5 metros

2. Color de su coche favorito



- verde
- rojo
- azul

3.- INSTRUCCIONES: Escribe 2 oraciones

¿CUÁL ES EL PAQUETE DE GALLETITAS QUE TIENE EL PRECIO MAYOR?



\$38



\$27



\$47



\$40

¿CUÁL ES EL JUGO QUE TIENE EL PRECIO MENOR?



\$41



\$39



\$43



\$34

2) PENSÁ Y DIBUJÁ.

UN OBJETO QUE MIDA MENOS DE 10 CENTÍMETROS.

UN OBJETO QUE MIDA MÁS DE 1 METRO.



¿CUÁL ES EL NÚMERO MAYOR?

17 47 74 71



¿CUÁL ES EL NÚMERO MENOR?

46 48 84 64




¿CUÁL ES EL NÚMERO MÁS CERCANO AL 80?

72 82 88 78



¿CUÁL ES EL NÚMERO MÁS CERCANO AL 79?

77 75 81 80



FICHAS RECORTABLES

51	52
53	54
55	56
57	58
59	

