
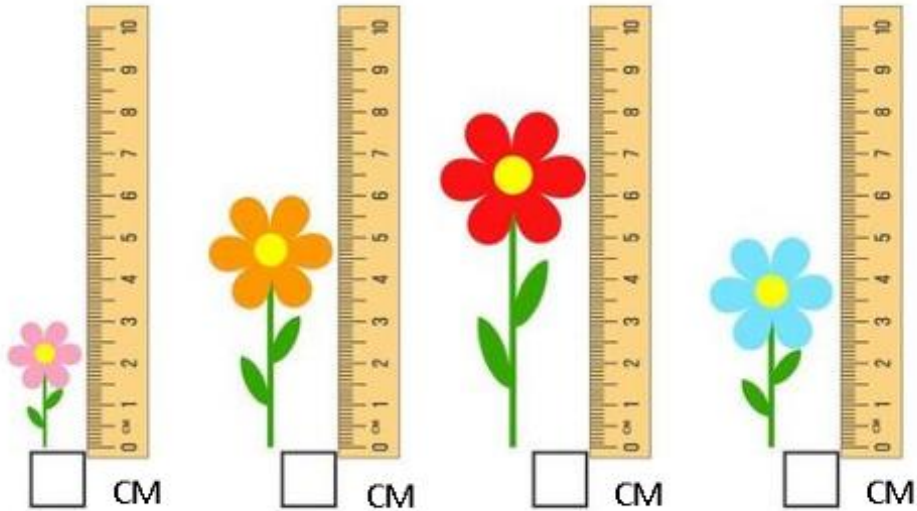


EN CASA.

1- PINTA LOS INSTRUMENTOS DE MEDICIÓN DE LONGITUD.




2- ESCRIBE CUÁNTO MIDE CADA FLOR. LUEGO ENCIERRA DE VERDE LA MÁS CORTA Y DE AMARILLO LA MÁS LARGA.



YO:	MI COMPAÑERO/A:
MIDO:	MIDE:




JUAN TIENE ESTOS MANZANALES Y NECESITA SABER CUÁNTAS MANZANAS TIENE EN TOTAL PARA VENDER.

-DIBUJA EN CADA ÁRBOL TANTAS MANZANAS COMO TIENE EL PRIMERO.






COMPLETA LA SUMA PARA SABER LA CANTIDAD TOTAL DE MANZANAS.

----- + ----- + ----- + ----- + ----- = -----


<input type="text"/>	42	<input type="text"/>	<input type="text"/>	<input type="text"/>	
	<input type="text"/>	<input type="text"/>	48	<input type="text"/>	<input type="text"/>
<input type="text"/>	<input type="text"/>	<input type="text"/>	<input type="text"/>	55	<input type="text"/>
	<input type="text"/>	<input type="text"/>	59	<input type="text"/>	<input type="text"/>

www.arvillan.com

	<input type="text"/>	52	<input type="text"/>	
	<input type="text"/>	50	<input type="text"/>	
	<input type="text"/>	51	<input type="text"/>	
	<input type="text"/>	53	<input type="text"/>	
	<input type="text"/>	54	<input type="text"/>	



Familia de 50



50+0=	<input type="text"/>
50+1=	<input type="text"/>
50+2=	<input type="text"/>
50+3=	<input type="text"/>
50+4=	<input type="text"/>
50+5=	<input type="text"/>
50+6=	<input type="text"/>
50+7=	<input type="text"/>
50+8=	<input type="text"/>
50+9=	<input type="text"/>

