

minúsculas

a	b	c	d	e	f	g
h	i	j	k	l	m	n
ñ	o	p	q	r	s	t
u	v	w	x	y	z	.

MAYÚSCULAS





A	B	C	D	E	F	G
H	I	J	K	L	M	N
Ñ	O	P	Q	R	S	T
U	V	W	X	Y	Z	.

a	b	c	d	e	f	h
h	i	j	k	l	m	n
ñ	o	p	q	r	s	t
u	v	w	x	y	z	

M		V		W	
Q		N		X	
T		R		O	
P		U		S	


✂

m	n	o	p	q	r
s	t	u	v	w	x

H		O		W		
G		Ñ		V		
F		N		U		
E		M		T		
D		L		S		
C		K		R		Z
B		J		Q		Y
A		I		P		X

A
B
D
E
H
R
S
T
W
Y

twistynoodle.com



"DÍA DE LA TRADICIÓN"

A	C	a	e	h
B	v	n	b	l
C	a	w	e	c
D	a	d	i	t
E	b	m	e	a
F	e	o	f	z
G	h	g	b	o
H	v	a	o	h

$25 - 14 =$

$48 - 23 =$

HABÍA UNA VEZ.....  
APRENDEMOS A ESCRIBIR UN  
CUENTO.....

PRINCIPIO

NUDO O CONFLICTO

FINAL



PALABRAS CLAVES

HABÍA UNA VEZ

DE PRONTO

FINALMENTE

## Frases para escribir cuentos

### Inicio

Había una vez...  
Hace muchos años...  
En un lejano pueblo...  
Érase una vez...  
En un lugar muy lejano...  
Al comienzo...

### Nudo

De pronto...  
Inesperadamente...  
Sin darse cuenta...  
Y sin quererlo...  
Pero de repente...  
Cuando llegó a ese lugar...

### Desenlace

Por último...  
Entonces...  
Finalmente...  
Así fue como...  
Al fin...  
... y colorín colorado, este cuento se ha acabado.



docentesaldia.com

$59 - 37 =$

**DARÍO**

$34 - 12$

$10 + 10 + 10 + 1 + 1 + 1 + 1$

22


**LEÓN**

$34 = 30 + 4$

$12 = 10 + 2$

---

$22 = 20 + 2$



**ABRIL**

$34 - 12 =$

$30 - 10 = 20$

$4 - 2 = 2$

22

**VANESA**


$34 - 12 =$


$34 - 10 = 24$


$24 - 2 = 22$


LEÉ LAS ORACIONES Y PINTÁ EL DIBUJO QUE CORRESPONDE.


 ● NATI CAMINA RÁPIDO.

 ● FACU COME MILANESAS.


 ● LARA MIRA A SU GATO.










ESCRIBÍ, COMO PUEDES, UNA ORACIÓN CONTANDO LO QUE VES EN CADA DIBUJO.

 ●

 ●

ESTE CABALLERO SE LLAMA -----

VIVE EN -----

SUEÑA ENFRENTARSE CON -----

-----

-----

ESTA BRUJA SE LLAMA -----

VIVE EN -----

EN SU VIAJE VA A CONOCER -----

-----

-----

ESTE PIRATA SE LLAMA -----

VIVE EN -----


SU COMPAÑERO DE VIAJE ES -----

-----

-----

<p style="text-align: center;"><b>GUSTOS DE HELADO</b></p> <p>CHOCOLATE</p> <p>FRUTILLA</p> <p>LIMÓN</p> <p>VAINILLA</p> <p>CREMA</p> <p>CEBOLLA</p>	<p style="text-align: center;"><b>ANIMALES QUE VUELAN</b></p> <p>MARIPOSA</p> <p>COLIBRÍ</p> <p>PALOMA</p> <p>MOSCA</p> <p>SAPO</p> <p>GOLODRINA</p>	<p style="text-align: center;"><b>TIENEN FORMA REDONDA</b></p> <p>MONEDA</p> <p>BOTÓN</p> <p>PIZZA</p> <p>LIBRO</p> <p>RUEDA</p> <p>ANILLO</p>
--	--	--

EN LAS FAMILIAS HAY REGLAS Y NORMAS QUE AYUDAN A UNA BUENA CONVIVENCIA



## REGLAS DE UNA FAMILIA FELIZ

1. DESPIERTAN CON BESOS Y ABRAZOS.

2. PREGUNTAN SOBRE SU DÍA Y ESCUCHAN CON ATENCIÓN.

3. SE RESPETAN MUTUAMENTE.

4. SE DISCULPAN CUANDO COMENTEN ERRORES Y SE PERDONAN GENUINAMENTE.



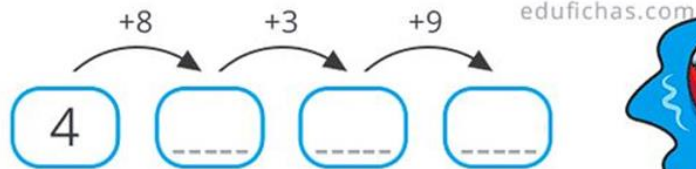
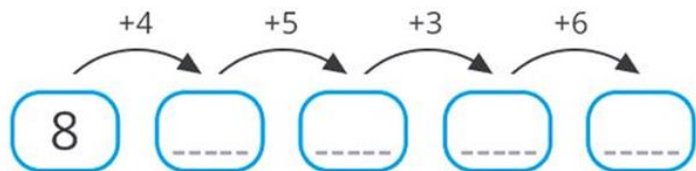
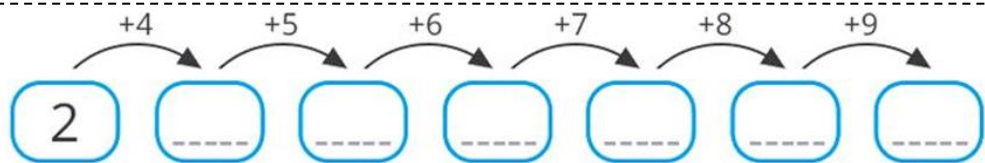
5. NO SE INSULTAN, NO SE HIEREN, NO SE COMPARAN.

6. SABEN QUE CADA UNO TIENE SU ROL EN CASA Y ES IMPORTANTE.

7. AMAN INTENSAMENTE.

8. COLOCAN LÍMITES SANOS PORQUE SABEN QUE ES LA CLAVE DE UNA BUENA CONVIVENCIA.







edufichas.com



EN CASA

1- ESCRIBE UNA LISTA DE NORMAS O REGLAS QUE TENGAN EN CLASES.  
(Pueden hacer en una hoja de dibujo y decorarla para mostrar en clases)



● ROCÍO COMPRÓ 24 TURRONES Y CON SUS AMIGOS SE COMIERON 12. ¿CUÁNTOS TURRONES LE SOBRARON?

DIBUJÁ LOS TURRONES Y TACHÁ LOS QUE SE COMIERON.



$$\square \square \square = \square$$

● PEDRO TENÍA 26 BOLITAS; CUANDO VOLVIÓ DEL RECREO, TENÍA 18. ¿CUÁNTAS BOLITAS PERDIÓ?

DIBUJÁ LAS 16 BOLITAS Y TACHÁ LAS QUE PERDIÓ EN EL RECREO.



$$\square \square \square = \square$$

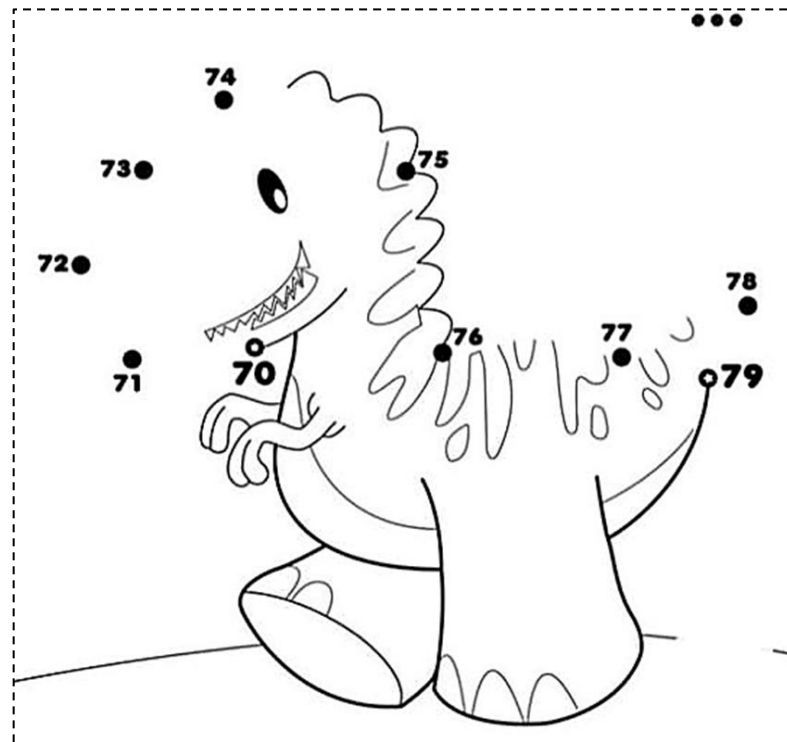


70



SETENTA


$70+1$	71
$70+2$	
$70+3$	
$70+4$	
$70+5$	
$70+6$	
$70+7$	
$70+8$	
$70+9$	



<input type="text"/>	← 74 →	<input type="text"/>
<input type="text"/>	← 75 →	<input type="text"/>
<input type="text"/>	← 70 →	<input type="text"/>
<input type="text"/>	← 73 →	<input type="text"/>

- PACO TIENE 25 LÁPICES Y ROSA 12. SI LOS JUNTAN, ¿CUÁNTOS LÁPICES TIENEN EN TOTAL?
- ANA VENDE LIMONES. TENÍA 74 Y VENDIÓ 34. ¿CUÁNTOS LE QUEDAN POR VENDER?

Árbol genealógico



UN ÁRBOL GENEALÓGICO ES UNA REPRESENTACIÓN GRÁFICA DE NUESTRA HISTORIA FAMILIAR DE MANERA ORDENADA.

