



ESTE CABALLERO SE LLAMA -----

VIVE EN -----

SUEÑA ENFRENTARSE CON -----

ESTA BRUJA SE LLAMA -----



VIVE EN -----

EN SU VIAJE VA A CONOCER -----



ESTE PIRATA SE LLAMA -----

VIVE EN -----

SU COMPAÑERO DE VIAJE ES -----



EN EL AULA DE PRIMERO SON 34 CHICOS Y FALTARON 12. ¿CUÁNTOS CHICOS FUERON A LA ESCUELA EN TOTAL?

DARÍO

$$34 - 12$$

$$10 + (10 + 10) + 1 + 1 + (1 + 1)$$

22

LEÓN

$$34 = 30 + 4$$

$$- 12 = 10 + 2$$

$$22 = 20 + 2$$

ABRIL

$$34 - 12 =$$

$$30 - 10 = 20$$

$$4 - 2 = 2$$

22

VANESA

$$34 - 12 =$$

$$34 - 10 = 24$$

$$24 - 2 = 22$$


¿QUIÉN LO RESOLVIÓ BIEN? ¿POR QUÉ?

¿VOS CÓMO LO RESOLVERÍAS? RODEÁ.

¿DÓNDE ESTÁ EL 12 EN LAS ESTRATEGIAS DE DARÍO Y ABRIL?

$$25 - 14 =$$

$$48 - 23 =$$


= 76 - 37 =

Handwriting practice area with a grid of lines and a dotted line for tracing.

2 +4 +5 +6 +7 +8 +9

8 +4 +5 +3 +6

4 +8 +3 +9



GUSTOS DE HELADO

- CHOCOLATE
- FRUTILLA
- LIMÓN
- VAINILLA
- CREMA
- CEBOLLA

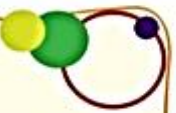


ANIMALES QUE VUELAN

- MARIPOSA
- COLIBRÍ
- PALOMA
- MOSCA
- SAPO
- GOLODRINA

TIENEN FORMA REDONDA

- MONEDA
- BOTÓN
- PIZZA
- LIBRO
- RUEDA
- ANILLO




LEÉ LAS ORACIONES Y PINTÁ EL DIBUJO QUE


CORRESPONDE.



● NATI CAMINA RÁPIDO.



● FACU COME MILANESAS.



● LARA MIRA A SU GATO.



ESCRIBÍ, COMO PUEDES, UNA ORACIÓN CONTANDO LO

QUE VES EN CADA DIBUJO.



EN LAS FAMILIAS HAY
REGLAS Y NORMAS QUE
AYUDAN A UNA BUENA
CONVIVENCIA

REGLAS DE UNA FAMILIA FELIZ

1. DESPIERTAN CON
BESOS Y ABRAZOS.

2. PREGUNTAN
SOBRE SU DÍA
Y ESCUCHAN
CON ATENCIÓN.

3. SE RESPETAN
MUTUAMENTE.

4. SE DISCULPAN CUANDO
COMENTEN ERRORES Y SE
PERDONAN GENUINAMENTE.



5. NO SE INSULTAN.
NO SE HIEREN.
NO SE COMPARAN.



6. SABEN QUE
CADA UNO TIENE
SU ROL EN CASA
Y ES IMPORTANTE.

7. AMAN
INTENSAMENTE.

8. COLOCAN LÍMITES
SANOS PORQUE SABEN
QUE ES LA CLAVE DE
UNA BUENA CONVIVENCIA.

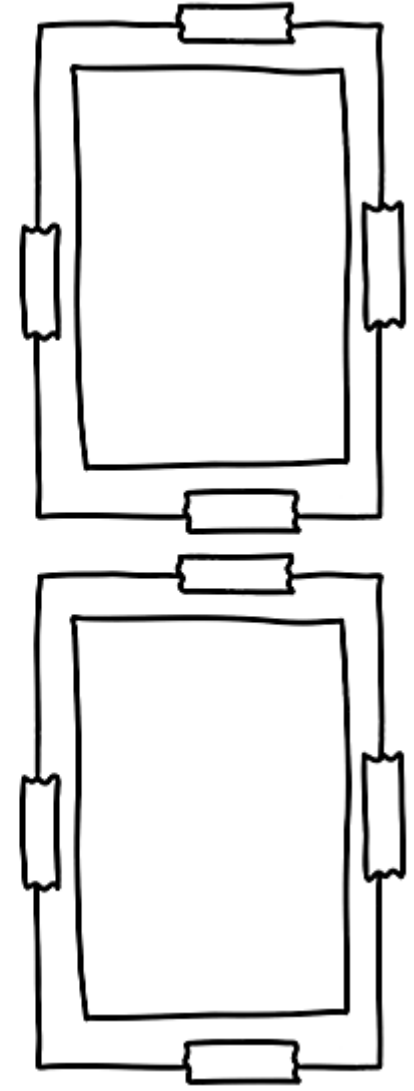



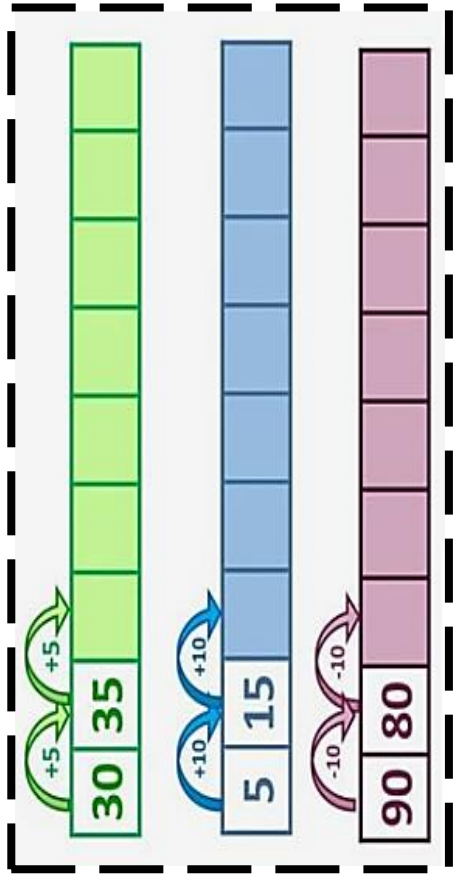


	← 74 →	
	← 75 →	
	← 70 →	
	← 73 →	



¿QUÉ REGLAS ESTÁN CUMPLIENDO? ¿EN SUS CASAS TIENEN LAS MISMAS REGLAS?





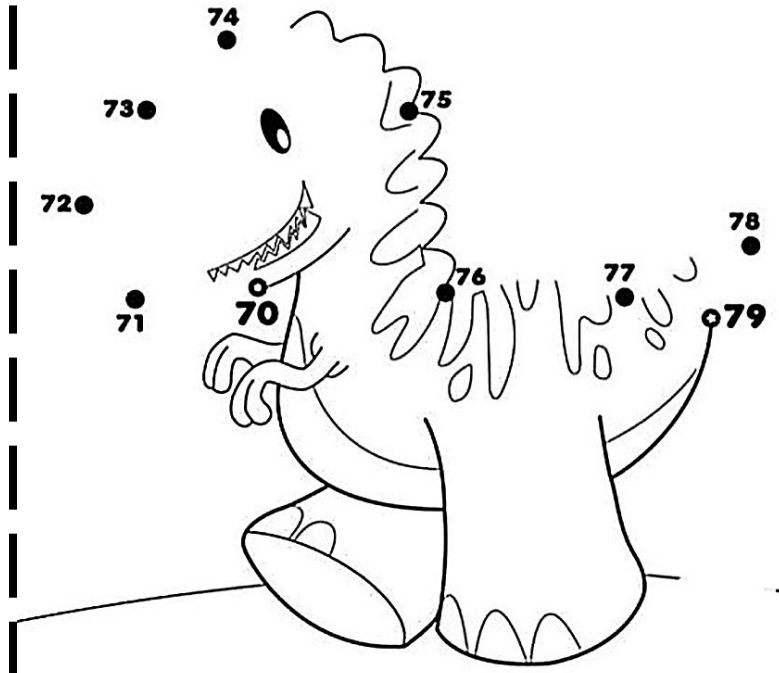


70+1	71
70+2	
70+3	
70+4	
70+5	
70+6	
70+7	
70+8	
70+9	



70

SESENTA




PARA PENSAR

RESOLVÉ LAS SIGUIENTES SITUACIONES PROBLEMÁTICAS. COMPLETÁ Y RESOLVÉ LOS CÁLCULOS.

● ROCÍO COMPRÓ 24 TURRONES Y CON SUS AMIGOS SE COMIERON 12. ¿CUÁNTOS TURRONES LE SOBRRON?

DIBUJÁ LOS TURRONES Y TACHÁ LOS QUE SE COMIERON.



=


● PEDRO TENÍA 26 BOLITAS; CUANDO VOLVIÓ DEL RECREO, TENÍA 18. ¿CUÁNTAS BOLITAS PERDIÓ?

DIBUJÁ LAS 16 BOLITAS Y TACHÁ LAS QUE PERDIÓ EN EL RECREO.



=

UN ÁRBOL GENEALÓGICO ES UNA REPRESENTACIÓN GRÁFICA DE NUESTRA HISTORIA FAMILIAR DE MANERA ORDENADA.



Árbol genealógico

