

MATEMÁTICA

1. Observa con atención el siguiente video, luego completa el cuadro.

También puedes ayudarte con lo aprendido la clase anterior.

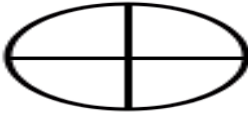
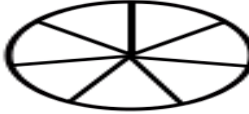
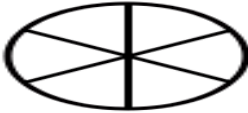

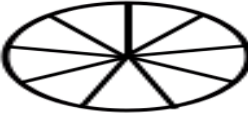
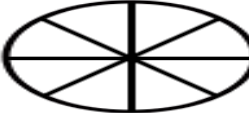
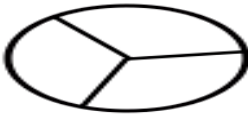
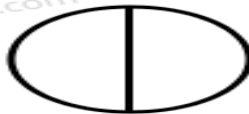




<https://www.youtube.com/watch?v=DVXZi9ZWFvo>


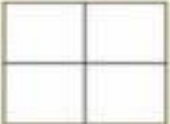














FRACCIÓN	SE LEE
$\frac{3}{4}$	Tres cuartos.
$\frac{2}{7}$	
$\frac{8}{9}$	
$\frac{6}{3}$	
$\frac{4}{10}$	
$\frac{9}{12}$	
$\frac{3}{5}$	

2. ¿Cómo puedo dibujar o representar una fracción?

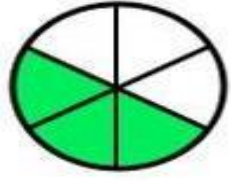
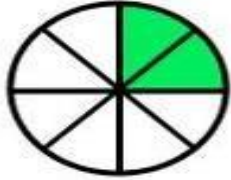
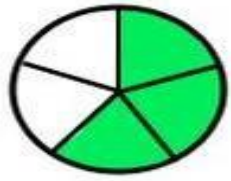
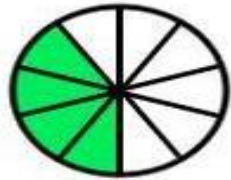
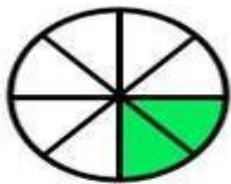
<https://www.youtube.com/watch?v=oY0wK5f9wuw>

- Pinta según corresponda.

	$\frac{2}{4}$		$\frac{1}{7}$
	$\frac{5}{6}$		$\frac{3}{5}$
	$\frac{5}{9}$		$\frac{7}{8}$
	$\frac{1}{3}$		$\frac{1}{2}$
	$\frac{2}{7}$		$\frac{8}{9}$
	$\frac{1}{5}$		$\frac{6}{6}$

$\frac{3}{4}$	 Color		$\frac{1}{2}$	 Color	
$\frac{2}{6}$	 Color		$\frac{3}{5}$	 Color	
$\frac{1}{3}$	 Color		$\frac{4}{6}$	 Color	
$\frac{5}{7}$	 Color		$\frac{8}{9}$	 Color	

- Une según corresponda.



$$\frac{5}{9}$$

$$\frac{2}{6}$$

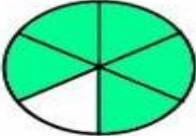


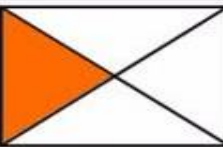
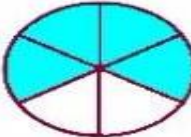


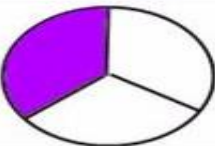

$$\frac{2}{8}$$

$$\frac{3}{5}$$

$$\frac{4}{10}$$

$$\frac{3}{6}$$

- Rodea la opción correcta.

1)		$\frac{1}{2}$	$\frac{3}{6}$	$\frac{5}{6}$	$\frac{1}{6}$	$\frac{6}{5}$
2)		$\frac{1}{4}$	$\frac{3}{4}$	$\frac{1}{6}$	$\frac{1}{3}$	$\frac{1}{5}$
3)		$\frac{1}{2}$	$\frac{3}{8}$	$\frac{1}{6}$	$\frac{1}{7}$	$\frac{6}{8}$
4)		$\frac{1}{3}$	$\frac{3}{6}$	$\frac{1}{2}$	$\frac{1}{5}$	$\frac{1}{4}$
5)		$\frac{4}{6}$	$\frac{5}{6}$	$\frac{4}{5}$	$\frac{1}{6}$	$\frac{3}{5}$
6)		$\frac{1}{3}$	$\frac{1}{4}$	$\frac{1}{2}$	$\frac{1}{5}$	$\frac{2}{1}$
7)		$\frac{1}{2}$	$\frac{3}{4}$	$\frac{5}{6}$	$\frac{1}{4}$	$\frac{4}{3}$
8)		$\frac{1}{6}$	$\frac{2}{3}$	$\frac{3}{3}$	$\frac{1}{3}$	$\frac{2}{5}$
9)		$\frac{3}{5}$	$\frac{3}{4}$	$\frac{5}{4}$	$\frac{4}{6}$	$\frac{4}{5}$

CIENCIAS NATURALES

Juego de palabras

- Encuentra y pinta en la sopa de letras, palabras aprendidas. Luego elabora un texto con las palabras encontradas.

F	C	F	X	C	S	E	G	W	R
Ó	O	U	I	K	G	B	E	C	R
S	R	B	R	T	R	R	O	B	G
I	T	T	N	B	C	V	S	O	H
L	E	R	T	V	B	N	F	I	J
E	Z	R	T	Y	U	I	E	R	K
S	A	P	A	C	Y	U	R	Z	L
M	A	N	T	O	Z	Z	A	P	Ñ
A	E	X	C	U	R	S	I	Ó	N
F	G	T	I	E	R	R	A	A	X