



ACTIVIDADES DE CONTINGENCIA

GRADO: 2° A B C D

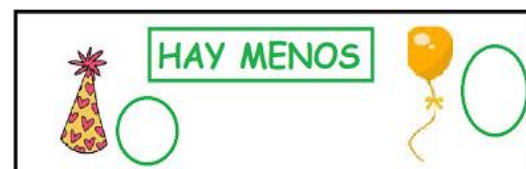


DOCENTES: LAURA DÍAZ- PAOLA CARRAZCO - VERÓNICA YAÑEZ -  
MARIANELA MELQUIS.

NOMBRE: .....



1-



1-OBSERVA CADA CUADRO Y COLOCA UNA X EN LA RESPUESTA CORRECTA.



2- DIBUJA LA CANTIDAD DE GLOBOS QUE INDICA CADA ETIQUETA.



3-¿TE ANIMAS A COMPLETAR EL CASTILLO NUMÉRICO?

50		52			
	61		63		
				74	
					85
90					



JUEVES 6 DE MARZO

INICIO

1-PINTÁ LOS ÚTILES QUE GUARDASTE EN TU MOCHILA.



2-ESCRIBE EL NOMBRE DE TRES ÚTILES

.....  
 .....

3- LEE Y ESCRIBE EL NOMBRE DE CADA DIBUJO

EN UN  DIBUJÉ  
 UN  Y UN   
 CUANDO EL RATÓN  
 LO VIO EMPEZÓ A  
 MORDER EL   
 PENSANDO QUE  
 ERA UN  DE  
 VERDAD.

.....

.....

.....

.....

.....

4-PIENSA EN UN TÍTULO PARA EL TEXTO QUE LEÍSTE

.....

VIERNES 7 DE MARZO

1- ERES UN GENIO EN MATEMÁTICA RESUELVE ESTA OPERACIÓN. (CÁLCULOS MENTALES)

 CALCULOS	 RESULTADOS
30 + 10 =	
10 + 10 =	
40 - 20 =	

50 - 10 =	

2- DESCUBRE EL NÚMERO QUE HAY DENTRO DE CADA GLOBO.



TREINTA Y DOS



CUARENTA Y OCHO



NOVENTA Y SEIS



CINCUENTA Y NUEVE

3. EN FAMILIA, NOS DIVERTIMOS JUGANDO MIENTRAS REPASAMOS NUMEROS.

<https://wordwall.net/es/resource/87887057>

**YA FALTA POQUITO PARA ENCONTRARNOS.  
¡TE ESPERO CON MUCHO CARIÑO Y GANAS DE TRABAJAR  
JUNTOS!**

**TU SEÑO**

