

Cuento de Caperucita Roja

Érase una vez una niñita que lucía una hermosa capa de color rojo. Como la niña la usaba muy a menudo, todos la llamaban Caperucita Roja.

Un día, la mamá de Caperucita Roja la llamó y le dijo:

—Abuelita no se siente muy bien, he horneado unas galleticas y quiero que tú se las lleves.

—Claro que sí —respondió Caperucita Roja, poniéndose su capa y llenando su canasta de galleticas recién horneadas.

Antes de salir, su mamá le dijo:

— Escúchame muy bien, quédate en el camino y nunca hables con extraños.

—Yo sé mamá —respondió Caperucita Roja y salió inmediatamente hacia la casa de la abuelita.

Para llegar a casa de la abuelita, Caperucita debía atravesar un camino a lo largo del espeso bosque. En el camino, se encontró con el lobo.

—Hola niñita, ¿hacia dónde te diriges en este maravilloso día? —preguntó el lobo.

Caperucita Roja recordó que su mamá le había advertido no hablar con extraños, pero el lobo lucía muy elegante, además era muy amigable y educado.

—Voy a la casa de abuelita, señor lobo —respondió la niña—. Ella se encuentra enferma y voy a llevarle estas galleticas para animarla un poco.

—¡Qué buena niña eres! —exclamó el lobo. —¿Qué tan lejos tienes que ir?

—¡Oh! Debo llegar hasta el final del camino, ahí vive abuelita—dijo Caperucita con una sonrisa.

—Te deseo un muy feliz día mi niña —respondió el lobo.

El lobo se adentró en el bosque. Él tenía un enorme apetito y en realidad no era de confiar. Así que corrió hasta la casa de la abuela antes de que Caperucita pudiera alcanzarlo. Su plan era comerse a la abuela, a Caperucita Roja y a todas las galleticas recién horneadas.

El lobo tocó la puerta de la abuela. Al verlo, la abuelita corrió despavorida dejando atrás su chal. El lobo tomó el chal de la viejecita y luego se puso sus lentes y su gorrito de noche. Rápidamente, se trepó en la cama de la abuelita, cubriéndose hasta la nariz con la manta. Pronto escuchó que tocaban la puerta:

—Abuelita, soy yo, Caperucita Roja.

Con vos disimulada, tratando de sonar como la abuelita, el lobo dijo:

—Pasa mi niña, estoy en camita.

Caperucita Roja pensó que su abuelita se encontraba muy enferma porque se veía muy pálida y sonaba terrible.

—¡Abuelita, abuelita, qué ojos más grandes tienes!

—Son para verte mejor —respondió el lobo.

—¡Abuelita, abuelita, qué orejas más grandes tienes!

—Son para oírte mejor —susurró el lobo.

—¡Abuelita, abuelita, que dientes más grandes tienes!

—¡Son para comerte mejor!

Con estas palabras, el malvado lobo tiró su manta y saltó de la cama. Asustada, Caperucita salió corriendo hacia la puerta. Justo en ese momento, un leñador se acercó a la puerta, la cual se encontraba entreabierta. La abuelita estaba escondida detrás de él.

Al ver al leñador, el lobo saltó por la ventana y huyó espantado para nunca ser visto.

La abuelita y Caperucita Roja agradecieron al leñador por salvarlas del malvado lobo y todos comieron galletitas con leche. Ese día Caperucita Roja aprendió una importante lección:

“Nunca debes hablar con extraños”.



El campo



- El campo también conocido como el medio rural se caracteriza por presentar una población distribuida en lugares pequeños o que vive en forma dispersa. En el campo predominan actividades que requieren de grandes extensiones de superficie para el cultivo, la cría de animales o la forestación.
- Los lugares donde habita la población rural no son todos iguales, porque están influidos por el tipo de actividad económica de la zona y por la posibilidad de acceder a una serie de servicios y de disponer de caminos y rutas que les permitan estar comunicados.

La ciudad



- Lo urbano se identifica con la ciudad y se caracteriza por una gran concentración de población y por construcciones continuas y contiguas. Allí predominan actividades económicas vinculadas con la industria, el comercio, la administración pública y el gobierno. Para poder desarrollar estas actividades, es indispensable contar con equipamiento y servicios



Mil cuarenta y nueve.
mil cuatrocientos diecinueve.
mil ciento cuarenta y nueve.
mil cuatrocientos nueve.

1.494

1.049

1.409

1.419

1.149

1.094

1.490

1.900		1.902			1.905	1.906			
				1.914					1.918
	1.921			1.924					

LECHE
QUESO
MIEL
CAMELOS
YOGURT
MANZANAS
GALLETAS

2. Marcá con una X y respondé la pregunta.

¿Cuál de las tres palabras aparece primero en el diccionario?

trompeta

bicicleta

camiseta

¿Cuál de las tres palabras aparece primero en el diccionario?

morisqueta

chancleta

fantasma

¿Cuál de las tres palabras aparece primero en el diccionario?

silencio

pie

camino

FACTORES ABIÓTICOS

Sin vida



La luz



La temperatura



La tierra

Determinan el espacio físico que habitan los factores bióticos.



El suelo



Las rocas



La arena



El aire



El agua

Factores bióticos y abióticos

Con vida

FACTORES BIÓTICOS



Las plantas



Los animales



Las bacterias

Todos los factores bióticos necesitan de los factores abióticos para poder vivir y desarrollarse.

¿Cómo buscar una palabra en el diccionario?

Cuando encuentres la palabra que buscabas, lee sus definiciones y elegí la que corresponda.

Después seguí por la segunda letra.

Empezá buscando la primera letra de la palabra.

Mirá hacia abajo y lee las palabras que aparecen hasta encontrar la que buscás.

Lee las palabras guía.



Ordená estas reglas enumerándolas del 1 al 5.

El diccionario


LAS PLANTAS

LAS PLANTAS SON SERES VIVOS QUE CUMPLEN CON EL CICLO DE VIDA.

SON CAPACES DE FABRICAR SU PROPIO ALIMENTO Y, A DIFERENCIA DE LOS DEMÁS SERES VIVOS, NO SE PUEDEN DESPLAZAR.

PARA VIVIR NECESITAN LA TIERRA, EL SOL, EL AGUA Y EL AIRE.





$$32 + 76 = \boxed{}$$

El resultado de esta suma es un número menor que 50.



$$85 + 42 = \boxed{}$$

El resultado de esta suma es un número menor que 90.



$$78 + 63 = \boxed{}$$

El resultado de esta suma es un número menor que 100.



Sustantivos comunes y propios.

Los sustantivos comunes nombran en forma general cosas, personas, lugares o animales (se escriben con minúscula). Por ejemplo: abuela, puerta, lobo.

Los sustantivos propios nombran en forma particular cosas, personas, lugares o animales. Por ejemplo: Ana, Argentina, Martín y como observamos se escriben con mayúscula.

1.000		1.002					
1.008			1.011				
1.016				1.020			
1.024		1.026					



¿Es verdad que el 7 de este número vale setecientos?

1.723



¿Es verdad que el 3 de este número vale tres mil?

2.369



¿Es verdad que el 1 de este número vale 10?

10.263



¿Es verdad que el 8 de este número vale ochocientos?

4.825



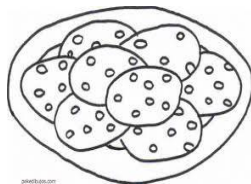

¿Es verdad que el 3 de este número vale treinta?

5.032



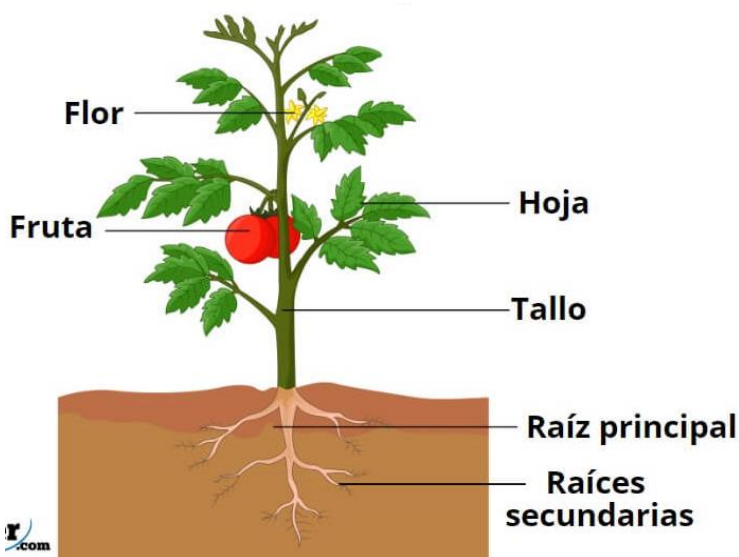
¿Es verdad que el 5 de este número vale cinco mil?

52.000



- ◆ Las grandes ciudades son ruidosas por el tránsito que hay en ellas.....
- ◆ En las zonas rurales las casas están muy cerca.....
- ◆ En las zonas rurales casi no hay contaminación del aire.....
- ◆ En las grandes ciudades no hay muchas oportunidades de trabajo.....
- ◆ El tamaño de una ciudad no se define por la cantidad de habitantes.
- ◆ Las personas que viven en zonas rurales se dedican a la agricultura y ganadería.

<p>LAS CONSTRUCCIONES ESTÁN MUY CERCA UNAS DE LAS OTRAS, HAY PRESENCIA DE INSTITUCIONES Y NEGOCIOS.</p>			<p>LAS CONSTRUCCIONES ESTÁN MÁS SEPARADAS UNAS DE OTRAS.</p>
<p>PAISAJE RURAL</p>	<p>PAISAJE URBANO</p>	<p>PAISAJE RURAL</p>	<p>PAISAJE URBANO</p>
<p>SE UTILIZA EL SUELO PARA EL CULTIVO DE DIFERENTES ESPECIES, PARA LA CRÍA DE ANIMALES, PARA LA EXTRACCIÓN DE ROCAS Y MINERALES.</p>			<p>SE CARACTERIZAN POR TENER MAYOR POBLACIÓN.</p>



- **RAÍZ:** absorbe el agua y fija la planta al suelo.
- **TALLO:** sostiene las hojas, flores y frutos. Transporta el agua y los minerales absorbidos por la raíz y la glucosa fabricada en las hojas.
- **HOJAS:** realizan la fotosíntesis, la respiración y transpiración.
- **FLORES:** son los órganos encargados de la reproducción. Luego se transforman en frutos.
- **FRUTOS:** contienen y protegen las semillas que, al germinar, dan origen a una nueva planta.

¿Verdadero o falso?

Completa el siguiente cuadro con los resultados de las tablas del 1, del 2, del 3, del 5 y del 6.

X	0	1	2	3	4	5	6	7	8	9	10
0											
1											
2											
3											
4											
5											
6											

Lee lo que dicen estos chicos y, mirando la tabla pitagórica, responde correctamente.



¿QUÉ RESULTADOS DE LA TABLA DEL 6 PUEDO ENCONTRAR EN LA TABLA DEL 3?

Respuesta:

¿QUÉ RESULTADOS DE LA TABLA DEL 6 PUEDO ENCONTRAR EN LA TABLA DEL 2?

Respuesta:



¿PUEDO SUMAR DOS COLUMNAS PARA OBTENER LOS RESULTADOS DE LA TABLA DEL 6? ¿CUÁLES? ¿HAY UNA SOLA POSIBILIDAD?

Respuesta:

¿CUÁL ES LA COLUMNA QUE, AL CALCULAR SU DOBLE, ME PERMITE OBTENER LOS RESULTADOS DE LA TABLA DEL 6?

Respuesta:



Un con fichas de diferentes colores.

Resuelve para tí mismo:



La tabla del 6

$6 \times 1 =$

$6 \times 2 =$

$6 \times 3 =$

$6 \times 4 =$

$6 \times 5 =$

$6 \times 6 =$

$6 \times 7 =$

$6 \times 8 =$

$6 \times 9 =$


$6 \times 10 =$

$6 \times 11 =$


$6 \times 12 =$

$6 \times 13 =$

Este dedo es la mamá.
 Este otro es el papá.
 El mayor es el hermano.
 Cambiaditos de la mano.
 La hermana y el chiquito van detrás.
 Salen todos a comprar.
 En invierno hace frío.
 Todos llevan sus abrigos.




Cantén la canción mostrando el dedo que corresponde en cada parte.




Completá las canciones con **mb**, **mp** o **nv**.


Pío, pío, pío, dicen los pollitos
 cuando tienen ha__re
 y cuando tienen frío.




Doña Pata tiene tres lindos patitos.
 A todos los e__uelve
 y les da calorcito.




Quando salgo te __ranito
 de mi casa a estudiar,
 tengo un grillo en el bolsillo
 que no para de cantar:
 cri, cri, cri, cri.




FIGURAS GEOMÉTRICAS



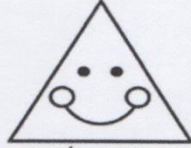
CÍRCULO



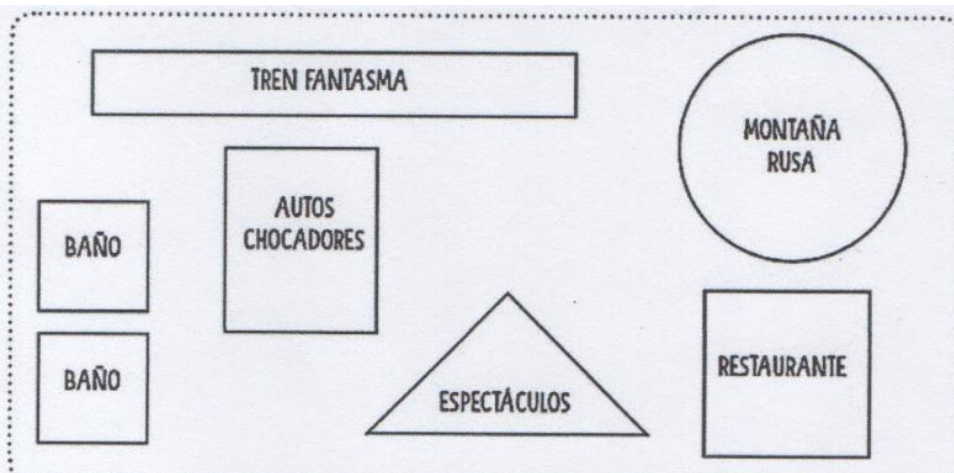
CUADRADO



RECTÁNGULO



TRIÁNGULO



TREN FANTASMA (rectangle)

MONTAÑA RUSA (circle)

AUTOS CHOCADORES (rectangle)

RESTAURANTE (square)

ESPECTÁCULOS (triangle)

BAÑO (rectangle)

BAÑO (rectangle)

• Ahora completá siguiendo el ejemplo:

El "Tren Fantasma" tiene forma de

La "Montaña Rusa" tiene forma de

El Restaurante tiene forma de

Los baños tienen forma de

El espacio de los "Autos chocadores" tienen forma de

SON 40 IMÁGENES