


### PDF SECUENCIA PARA N° 3



#### **\*Blanca Nieves y los 7 Enanitos\***

Había una vez una hermosa princesa llamada Blanca Nieves. Su madrastra, la Reina Malvada, estaba celosa de su belleza y temía que Blanca Nieves la superara. Un día, la Reina ordenó a un cazador que llevara a Blanca Nieves al bosque y la matara. Pero el cazador, apiadándose de la joven, le dijo que huyera y que nunca regresara.


Blanca Nieves se adentró en el bosque, asustada y sola. Después de caminar durante horas, encontró una pequeña cabaña donde se refugió. La cabaña pertenecía a siete enanitos: Sabio, el más inteligente; Gruñón, siempre malhumorado; Feliz, siempre sonriente; Dormilón, que se dormía en cualquier momento; Tímido, que se ruborizaba con facilidad; Estallido, que estornudaba constantemente; y Torpe, que siempre tropezaba.

Los enanitos acogieron a Blanca Nieves y la cuidaron. Juntos, vivieron felices en la cabaña, pero la Reina Malvada descubrió que Blanca Nieves estaba viva y disfrazada de anciana, le ofreció una manzana envenenada. Blanca Nieves la comió y cayó en un sueño profundo.

Los enanitos la encontraron y la cuidaron, pero no pudieron despertarla. Finalmente, un príncipe la besó y rompió el hechizo. Blanca Nieves se despertó y se casó con el príncipe. La Reina Malvada fue castigada y los enanitos vivieron felices con Blanca Nieves y su esposo.

**\*Fin\***

**Los Hermanos Grimm**





● Completá el siguiente cuadro de doble entrada.

+	10	20	30	40	50	60	70	80	90
2000									
2100									
2200									
2300									
2400									
2500									
2600									
2700									
2800									
2900									

● Ordená los siguientes números del mayor al menor.

2.672 - 2.001 - 2.361 - 2.798 - 2.011 - 2.450 - 2.815 - 2.589 - 2.673  
2.098



● Elegí cinco de los números y escribí sus nombres.

= \_\_\_\_\_  
 = \_\_\_\_\_  
 = \_\_\_\_\_  
 = \_\_\_\_\_  
 = \_\_\_\_\_

### TIPOS DE PLANTAS SEGÚN EL TALLO

#### ÁRBOLES

- Tienen un tallo, duro, alto y grueso que se llama tronco.
- Las ramas salen en la parte alta.



#### ARBUSTOS

- Son más bajos que los árboles y tienen varios troncos duros.
- Las ramas crecen muy cerca del suelo.



#### HIERBAS



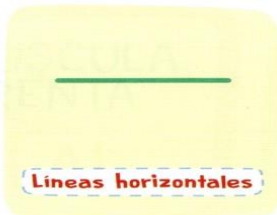
- Tienen un tallo fino y flexible, de color verde.
- Son las plantas más bajitas.





# Las líneas

1 ▶ Leé para aprender.



2 ▶ Leé lo que dicen los niños y **escribí** qué tipo de línea trazó cada uno.



YO TRACÉ ||

Las líneas que trazó Fausto son

Handwriting practice area with a dashed line and a starting dot.



YO TRACÉ +

Las líneas que trazó Emilia son

Handwriting practice area with a dashed line and a starting dot.



YO TRACÉ —

La línea que trazó Lucas es

Handwriting practice area with a dashed line and a starting dot.

## Terrestres



Las plantas terrestres toman el agua y las sales minerales por sus raíces que son llevadas por el tallo y se distribuyen por toda la planta.

## Acuáticas



Las plantas acuáticas necesitan abundante agua para vivir, se alimentan de los nutrientes disueltos en el agua y son las que producen más oxígeno que las terrestres.

## Aéreas



Las plantas aéreas son epifitas, o sea, que crecen sobre otras plantas, pero sin perjudicarlas en modo alguno (lo que si hacen las plantas parasitarias). Estas se anclan en las copas de los árboles y absorben el alimento y el agua que corre sobre la corteza de los mismos.

● Leé las características y **uní** cada una con la planta correcta.


- Tiene el tronco grueso, largo y leñoso.
- Plantas de tamaño muy pequeño y de vida corta.
- Las ramas se encuentran en la parte más alta.
- El tallo es duro y de mediano tamaño.
- Las ramas crecen desde el suelo.
- El tallo es delgado y blando.

árbol

arbusto

hierba

● **Leé y completá** escribiendo los nombres de los dibujos.

Las plantas se sostienen al suelo y se alimentan por las  .....

Respiran por las  .....

El  ..... sostiene a las  .....

Los  ..... nacen de las  .....

Los  ..... tienen en su interior a las  ..... que darán vida a otra  .....

● **Tomá** tu regla y **trazá** las líneas siguiendo lo que dicen los carteles.


Una línea  
HORIZONTAL  
de 5 cm. \*


Una línea  
VERTICAL  
de 3 cm.

Dos líneas  
PARALELAS de  
4 cm.

 Para leer y recordar:



 **Relee** el consejo de la abuela y **subrayá** las palabras que tengan las sílabas **GA - GO - GU**.


 **Pensá** y **escribí** palabras que lleven:

**GA** 

**GO** 

**GU** 

# Cada punto en su lugar

<b>El punto</b>	<b>Punto y seguido:</b> *Tras él se sigue escribiendo en la misma línea.
	<b>Punto y aparte:</b> *Tras él se escribe en la línea siguiente.
Después de punto se escribe en mayúscula.	<b>Punto y final:</b> *Se pone al final de un texto.

La seño nos explica 

$$25 \times 100 = 2500$$

$$192 \times 10 = 1920$$

$$9 \times 1000 = 9000$$

Indica que el texto se ha terminado.  
  
 Se escribe en la misma línea  
  
 Se escribe en la línea siguiente.

- Para comenzar las clases mi mamá gastó \$3.123 en cuadernos y \$4.518 en útiles de geometría ¿Cuánto dinero pagó en la librería?
- Me regalaron 781 balitas y jugando con mis amigos perdi 453 ¿Cuántas balitas tengo ahora?
- Para comenzar las clases mi mamá gastó \$3.123 en cuadernos y \$4.518 en útiles de geometría ¿Cuánto dinero pagó en la librería?

Yo me porto bien. Pero mientras la seño Caro me habla, el bicho baboso de no sé cuántas patas sube por la pared y yo no puedo dejar de mirarlo.

Entonces, escucho palabras sueltas: creo que dice algo sobre no correr o comer en el recreo, o sobre no comer a las corridas, no estoy seguro.


## ¿Quién ganó?

Estos son los puntajes que hicieron los chicos:

  
**LEONEL**  
**4.123**

  
**PAULA**  
**3.115**

  
**NICOLÁS**  
**4.903**

  
**EMA**  
**4.516**

  
**MICAELA**  
**3.726**

  
**MATEO**  
**4.231**

- Escribí "verdadero" o "falso" en cada opción:

Leonel hizo más puntos que Mateo: .....

De las tres nenas ganó Ema: .....

De los tres nenes perdió Leonel: .....

Entre Nicolás y Ema ganó Ema: .....

Entre Paula y Micaela ganó Paula: .....



Blank lined writing area for a story or drawing.

Blas Parera

**DÍA 11** DÍA DEL HIMNO NACIONAL



LAS GARGANTAS ARGENTINAS  
HOY QUEREMOS ELEVAR  
AL CIELO, COMO UN PAÑUELO,  
NUESTRO HIMNO NACIONAL.

VICENTE LÓPEZ Y PLANES  
SU LETRA SUPO CREAR.  
LA MÚSICA, BLAS PARERA.  
¡AÚN NOS HACE EMOCIONAR!

"SEAN ETERNOS LOS LAURELES"  
ES EL DESEO CORDIAL  
QUE NACE DE NUESTRO PECHO  
Y NUNCA SE HA DE BORRAR.



Quando cantamos el Himno Nacional, debemos:

Blank lined writing area for the answer to the question above.

★ Pasos a tener en cuenta antes de resolver

★ Pasos a tener en cuenta antes de resolver

- Leé el enunciado
- Rodeá los datos
- Subrayá la pregunta
- Realizá el cálculo u operación
- Respondé a la pregunta

