

**COLEGIO SANTA ROSA DE LIMA**

**Profesor:** Figueroa Victor Hugo

**UNIDAD N°2**

**Geografía Argentina**

**Curso y División: 3°**

**Tema: “Unidades estructurales de Argentina- Relieves argentinos”**

**Objetivo:**

- + Reconocer e identificar los principales relieves argentinos.
- + Localizar en el mapa los principales relieves del país.

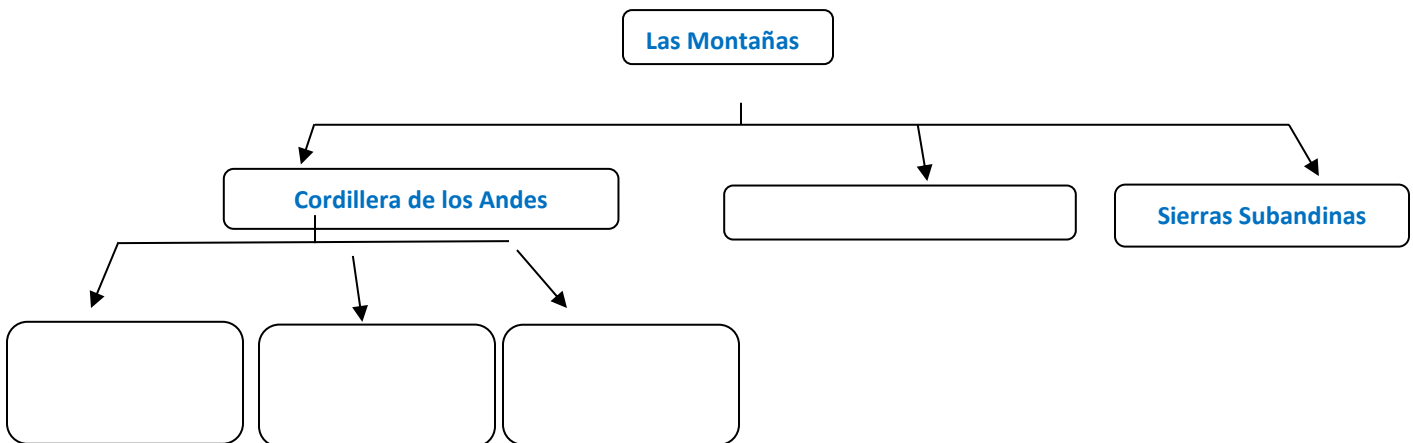
“La Argentina se caracteriza por sus condiciones naturales que derivan de su posición planetaria. Así como de su ubicación en el continente, al este de la cordillera de los Andes”  
A continuación, conoceremos los principales relieves de nuestro país.

**ACTIVIDADES:**

**RELIEVE I**

- **Lea el libro: “GEOGRAFIA 3- Activados”. Editorial: Puerto de palos. Año:2016 y responda:**

**1)- Complete el siguiente esquema:**



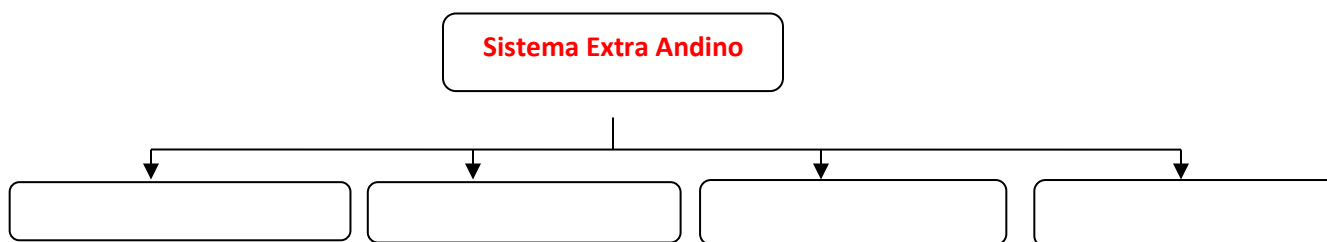


**2)- Complete el siguiente cuadro:**

Relieve	Sectores	Localización	Características
<b>CORDILLERA DE LOS ANDES</b>	Precordillera		
	Andes áridos - (cordillera principal – cordillera frontal)		
	Andes Patagónicos-fueguinos		
<b>CORDILLERA ORIENTAL</b>	Cordón occidental		
	Cordón Oriental		
<b>SIERRAS SUBANDINAS</b>	Cordones serranos paralelos		

**RELIEVE II**

**3)- Complete el siguiente esquema.**



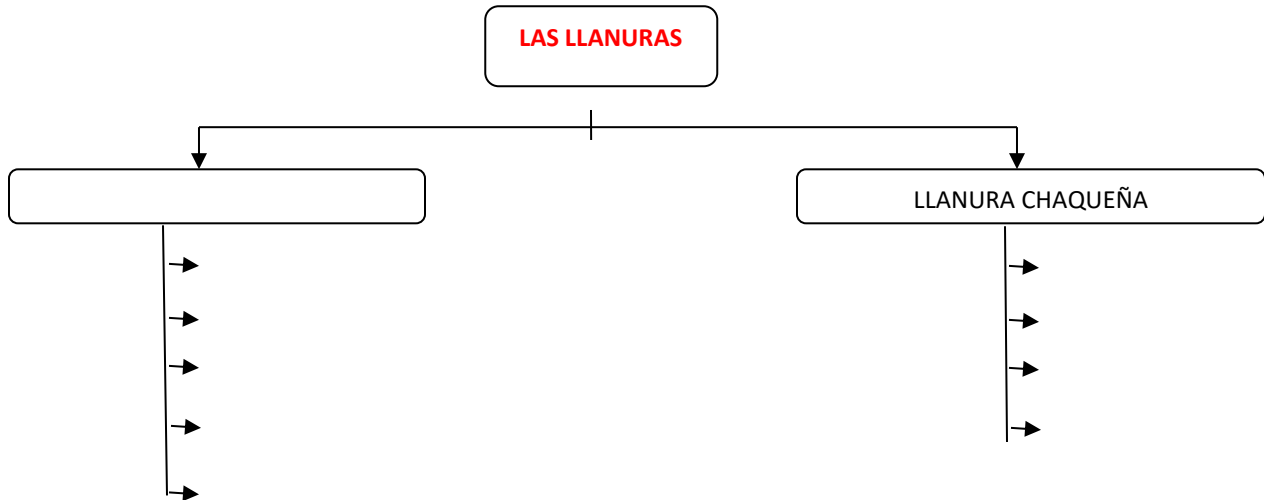
**4)- Complete el siguiente cuadro:**

Relieve	Localización	Características
<b>SIERRAS PAMPEANAS</b>		
<b>SIERRAS DE TANDILIA</b>		
<b>SIERRAS DE VENTANIA</b>		
<b>SIERRAS DE MAHUIDA</b>		

5)- ¿Qué son las **Llanuras**?

a)- Describa las diferencias entre la **Llanura Pampeana** y la **Llanura Chaqueña**.

6)- **Complete el siguiente esquema:**



### RELIEVE III

7)- ¿Qué son las **Mesetas**?

8)- **Complete el siguiente cuadro:**

Relieve	Localización	Características
MESETA MISIONERA		
MESETA PATAGÓNICA		
LA PUNA		

9)- En un mapa físico-político de Argentina, localice los principales relieves argentinos. Marque los países limítrofes, los océanos y el mar argentino.

\* **LOCALICE:** La Puna – Precordillera – Los Andes centrales o áridos (cordillera principal, cordillera frontal) y los Andes patagónicos-fueguinos. La cordillera Oriental – Sierras Subandinas - Sierras pampeanas –(Sistema de Tandilia, de Ventania y de Mahuida)- Llanura pampeana – Llanura Chaqueña – Meseta Misionera – Meseta Patagónica.