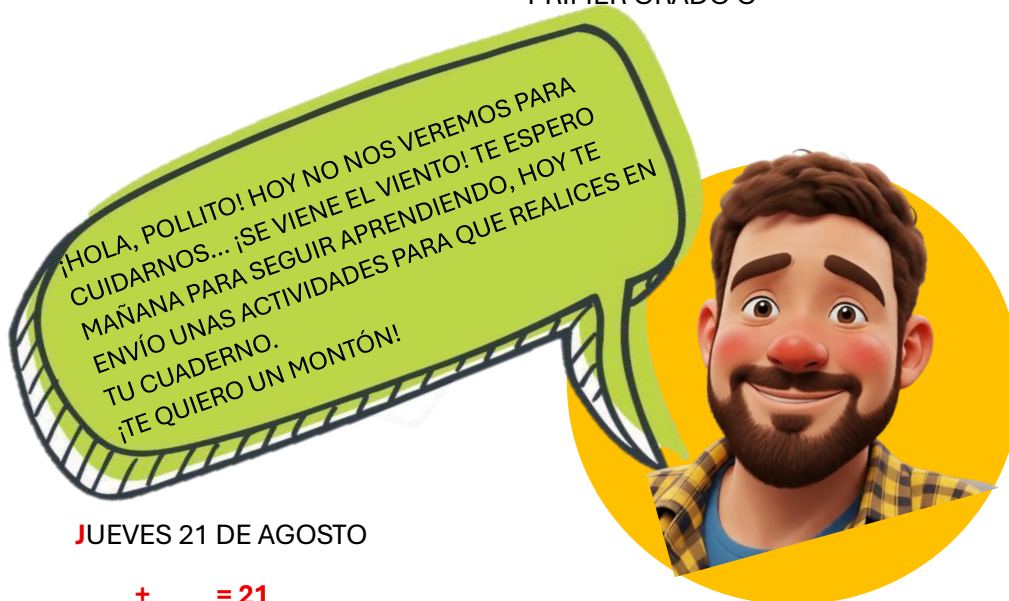




## ACTIVIDADES DE CONTINGENCIA

PRIMER GRADO C



JUEVES 21 DE AGOSTO

$$\underline{\quad} + \underline{\quad} = 21$$

$$\underline{\quad} + \underline{\quad} = 21$$

★ \_\_\_\_\_

♥ YO SOY \_\_\_\_\_


### MATEMÁTICA

¡A REPASAR PARA LA PRUEBA!


1.- RESUELVO LAS SUMAS.

**Para pensar**

Calculá mentalmente y escribí los resultados correctos.

	$3+3=$	$4+4=$
	$4+1=$	$6+3=$
	$6+2=$	$7+5=$

2.- ESCRIBO LOS NÚMEROS DE 10 EN 10 HASTA 100.





3.- **UNO** CADA FIGURA CON SU NOMBRE.



**CÍRCULO**

**TRIÁNGULO**

**RECTÁNGULO**

**CUADRADO**

4.- ¿QUÉ FORMA TIENEN? **PINTO** LAS FIGURAS CORRECTAS.

