

Jueves 21 de agosto de 2025

DNQ:

*"Padre Santo Domingo, ampara y cuida a nuestras familias para que nada les falte".*

Matemática

Repasamos para la prueba de la próxima semana: miércoles 27/8. Temas: tabla del 4, situaciones problemáticas, multiplicación rectangular (con cuadritos).

1. Completa los resultados:

$4 \times 7 =$

$4 \times 8 =$

$4 \times 9 =$

$4 \times 5 =$

$4 \times 4 =$

$4 \times 10 =$


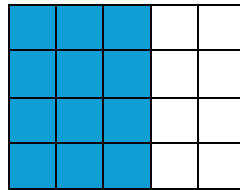
$4 \times 0 =$

$4 \times 3 =$

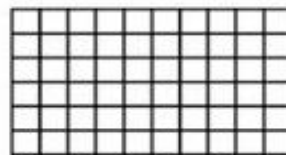
$4 \times 6 =$

2. Pinta la cantidad que se indica, observa el ejemplo con atención para recordar:

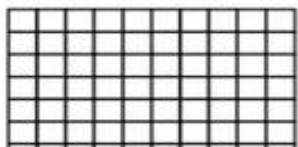
$4 \times 3 =$



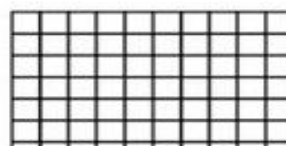
$4 \times 7 =$



$4 \times 9 =$

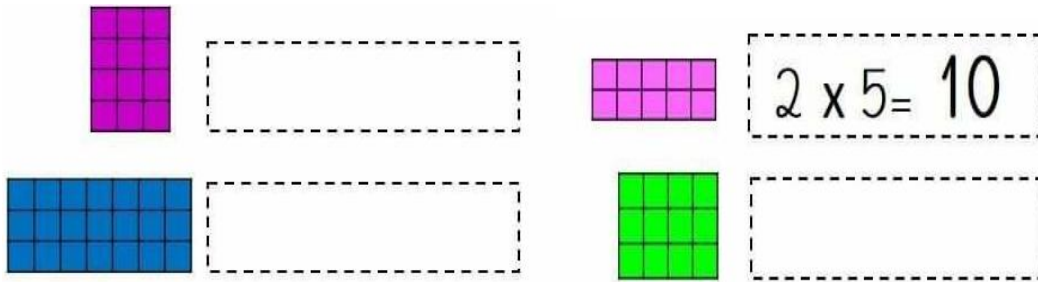


$4 \times 4 =$



$4 \times 8 =$

3. Escribe el cálculo correcto para cada representación:




4. Realiza las operaciones.

$$476 \times 4 =$$

$$309 \times 4 =$$

5. Lee el problemita y resuelve.

-Alicia compró varios ingredientes para hacer bizcochuelos. Primero compró huevos. Observa la imagen y cuenta cuántos huevos hay por cartón. Si en total ella compró 6 cajas... ¿cuántos huevos tiene para hacer bizcochuelos? Dibuja si te resulta necesario.



### Cs. Naturales

1. Observa el video que vimos ayer en clase:  
<https://youtu.be/lfPcsOcTjM?feature=shared>
2. Escribe: ¿Qué te llamó la atención? ¿Sabías que la luna tenía diferentes fases?