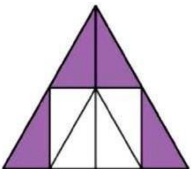


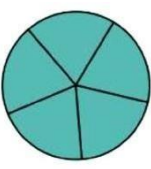
Practico

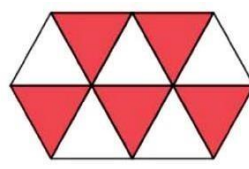
1) Escribe si las fracciones son propias o equivalentes a la unidad. Clasificar

- a. $\frac{36}{42}$ ▶ _____ c. $\frac{14}{14}$ ▶ _____ e. $\frac{1}{9}$ ▶ _____
 b. $\frac{15}{25}$ ▶ _____ d. $\frac{5}{6}$ ▶ _____ f. $\frac{7}{7}$ ▶ _____

2) Escribe la fracción que corresponde a la parte pintada de la figura.

a. 


b. 

c. 

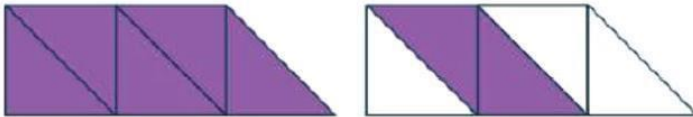
3) Completa cada fracción con el término que falta para que se cumpla la clasificación pedida.

- a. Fracciones propias. ▶ $\frac{5}{\square}$ $\frac{\square}{12}$ $\frac{\square}{17}$ $\frac{45}{\square}$ $\frac{28}{\square}$
- b. Fracciones equivalentes a la unidad. ▶ $\frac{17}{\square}$ $\frac{\square}{7}$ $\frac{\square}{29}$ $\frac{35}{\square}$ $\frac{\square}{200}$

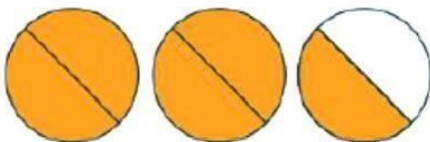
4) Une con una línea cada representación gráfica con la fracción correspondiente.



$\frac{5}{2}$



$\frac{7}{5}$



$\frac{18}{8}$