
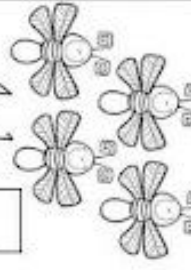
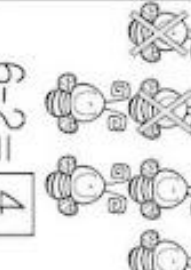





Material del Mundo ABC

Marca con una X los insectos que indica cada resta y escribe el resultado, luego colorea.

 $5-4=$ <input type="text"/>	 $4-1=$ <input type="text"/>	 $6-2=$ <input type="text"/>
 $7-2=$ <input type="text"/>	 $10-8=$ <input type="text"/>	 $8-6=$ <input type="text"/>

www.materialeseducativos.net

50

Suma del

50+1	50+2	50+3
50+4	50+5	50+6
50+7	50+8	50+9

51	52	53
54	55	56
57	58	59



**TAREA:**  
**RECORTO Y PEGO 3 IMÁGENES Y ESCRIBO ORACIONES CORTITAS.**  
**REALIZO LAS SIGUIENTES RESTAS:**  
 $10-5=$        $7-3=$        $9-2=$        $3-1=$        $8-4=$

**TAREA**  
**Realizo un listado de palabras que lleven QUE, QUI, V, B.**  
**Elijo una de cada una y escribo una oración.**

**1** Completa la tabla

0	2	4	6	7	9
10	13	15	18		
20	21	22	25	27	28
30	32	34	36		39
	41	42	43	45	47
	51	53	54	57	59

**TAREA**

**ESCRIBO LA FAMILIA DEL 50 Y COLOCO CUANTOS 10 Y 1 TIENE CADA N°.**

EJM: 54 :10 10 10 1 1  
 10 10 1 1

Completa y calcula según las necesidades.

7	-	5	=	
6	-	4	=	
9	-	8	=	
6	-	2	=	
9	-	7	=	
8	-	6	=	
5	-	2	=	
7	-	6	=	

3 - 1 =      4 - 4 =      6 - 4 =      7 - 5 =

4 - 2 =      2 - 2 =      0 - 0 =      8 - 6 =

6 - 6 = 6 - 2 =      5 - 2 =      8 - 6 =      9 - 7 =

5 - 4 =      8 - 4 =      1 - 1 =      9 - 8 =

3 - 3 =      9 - 9 =      8 - 5 =      7 - 6 =

2 - 2 =      2 - 1 =

1 VERDE      2 AZUL      3 ROJO      4 AMARILLO

2 + 3 =      5 - 2 =

4 + 1 =      6 - 3 =

3 + 2 =      7 - 4 =

5 + 0 =      8 - 5 =

6 + 1 =      9 - 6 =

Each box contains a set of red items and a set of blue items. The boxes are arranged in a 2x3 grid. The top row has boxes with 10 red and 5 blue items, and 10 red and 2 blue items. The bottom row has boxes with 10 red and 5 blue items, and 10 red and 3 blue items.

# ADJETIVOS CALIFICATIVOS

Los adjetivos calificativos son aquellos que designan una cualidad propia del sustantivo al que acompañan.

- El perro es **marrón**
- La jarra es **grande**
- Papá está **contento**

**Escribe 4 ejemplos de adjetivos calificativos según corresponda a cada imagen**

\_\_\_\_\_

\_\_\_\_\_

\_\_\_\_\_



\_\_\_\_\_

\_\_\_\_\_

\_\_\_\_\_



\_\_\_\_\_

\_\_\_\_\_

\_\_\_\_\_



\_\_\_\_\_


\_\_\_\_\_

\_\_\_\_\_



Editorial

**TAREA**  
**RECORTO 5 IMÁGENES DE OBJETOS Y ESCRIBO COMO ES CADA UNO.**  
**ME DICTAN 10 NUMEROS HASTA EL 59.**



**1- HÁBITOS SALUDABLES**

- **LOS HÁBITOS ES ALGO QUE HACEMOS TODOS LOS DÍAS. LEÉ Y OBSERVA ESTA INFORMACIÓN PARA MANTENERNOS SANOS.**

Los hábitos de cada día relacionados con...



Domingo Faustino Sarmiento.

## EN CASA CON AYUDA DE UN ADULTO REALIZA LA SIGUIENTE ENCUESTA

2- REFLEXIONA Y RESPONDE LUEGO DE HACER LA ENCUESTA.

- ¿CREEES QUÉ CUMPLES CON LOS HÁBITOS SALUDABLES TODOS LOS DÍAS?
- OBTUVISTE MAYORÍA DE SIEMPRE, DE A VECES O DE NUNCA?
- ¿QUÉ HÁBITO QUE NUNCAS CUMPLES DEBES INCORPORAR EN TU VIDA?



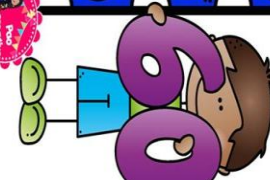
NO ES SALUDABLE  
 CON PRECAUCIÓN Y MODERACIÓN  
 ES SALUDABLE

LAVARSE LAS MANOS ANTES DE COMER. 
 ANDAR EN BICICLETA SIN CASCO.

COMER PAPAS FRITAS Y TOMAR GASEOSA. 
 CEPILLARSE LOS DIENTES.

HACER EJERCICIO Y DEPORTE. 
 COMER GOLOSINAS.

JUGAR CON VIDEOJUEGOS. 
 TOMAR AGUA.



# La familia del 60

60+0	
60+1	
60+2	
60+3	
60+4	
60+5	
60+6	
60+7	
60+8	
60+9	



Ordene la secuencia según lo leído:  
Domingo Faustino Sarmiento

# SESENTA

### TAREA

ESCRIBO 2 ORACIONES QUE CUENTE QUIEN FUE SARMIENTO.

REALIZO SUMAS Y RESTAS.

$40+3=$     $10+6=$     $7+3=$     $6+1=$     $8+1=$   
 $9-4=$     $6-3=$     $5-2=$     $2-1=$     $10-3=$






### TAREA

RECORTO Y PEGO LA FAMILIA DEL 60.


COMPLETO UN RENGLON CON CADA NÚMERO.

0	1	2	3			7	8	
			13	14	15	16		
20	21						28	29
		32	33			37	38	
40				44				49
		52			55		58	
60								

- Si 2+3 ES 5 CUÁNTO SERÁ 20+ 30= .....
- SI 1+2 ES 3 CUÁNTO SERÁ 10+20=.....
- SI 4+3 ES 7 CUÁNTO SERÁ 40+30=.....
- SI 3+3 ES 6 CUÁNTO SERÁ 30+30= .....
- SI 7+1 ES 8 CUÁNTO SERÁ 70+10=.....
- SI 5+4 ES 9 CUÁNTO SERÁ 50+40=.....

	<p>1. En la fiesta hay 8 niñas y 8 niños. ¿Cuántos niños y niñas son en total?</p> <p>Escríbe la suma o resta</p> <input data-bbox="130 1570 209 1854" type="text"/> <p>Resultado</p> <input data-bbox="130 1290 209 1435" type="text"/>
	<p>2. El árbol tiene 3 manzanas y crecieron 6 más. ¿Cuántas manzanas tiene ahora?</p> <p>Escríbe la suma o resta</p> <input data-bbox="379 1570 458 1854" type="text"/> <p>Resultado</p> <input data-bbox="379 1290 458 1435" type="text"/>
	<p>3. Pedro tiene 7 caramelos y le prestó 2 a su amiga Sofía. ¿Cuántos caramelos tiene ahora Pedro?</p> <p>Escríbe la suma o resta</p> <input data-bbox="663 1570 742 1854" type="text"/> <p>Resultado</p> <input data-bbox="663 1290 742 1435" type="text"/>
	<p>4. Emma tenía 10 uvas y se comió 5. ¿Cuántas uvas le quedaron?</p> <p>Escríbe la suma o resta</p> <input data-bbox="951 1570 1029 1854" type="text"/> <p>Resultado</p> <input data-bbox="951 1290 1029 1435" type="text"/>
<p><b>Problemas de suma y resta</b></p> 	

# Problemas de suma y resta



1. La pizza tenía 12 trozos y nos comimos 6. ¿Cuántas trozos quedaron?

Escribe la suma o resta

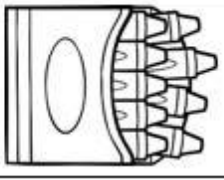
Resultado



2. La gallina tenía 3 huevos y puso 5 más. ¿Cuántos huevos tiene ahora?

Escribe la suma o resta

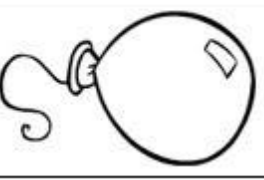
Resultado



3. Yo tenía 8 crayolas, pero me compraron 12 más. ¿Cuántas tengo ahora?

Escribe la suma o resta

Resultado



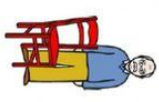
4. En la fiesta había 17 globos, pero se reventaron 9. ¿Cuántos globos quedaron?

Escribe la suma o resta

Resultado


OBSERVA LOS DIBUJOS Y ESCRIBE UNA ORACIÓN












cuanto- un  
Hay una  
El

abuelo- una  
El  
silla- coque  
rojo-

visión de pedrea- queso  
se un  
El

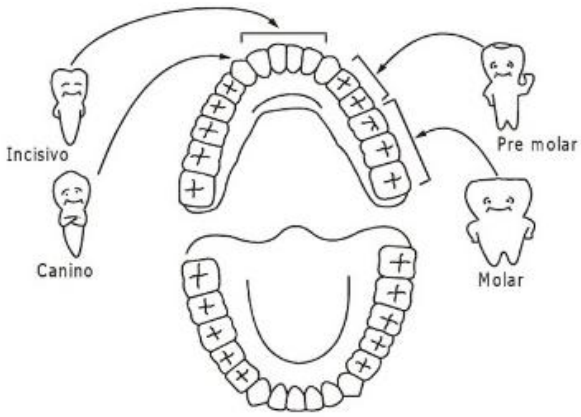
Madre- La  
toca al  
niña

comiendo bajo- escaleras- las  
Luis

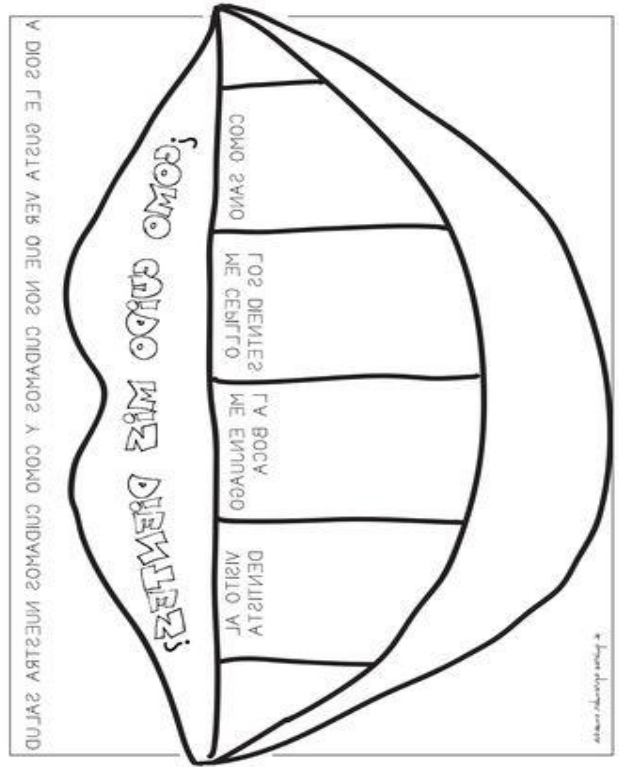
**TAREA**  
**ESCRIBIMOS LAS FAMILIAS DEL 20-30-40-50-60**  
**TRAIGO INFORMACION SIN PEGAR SOBRE COMO CUIDAR MIS DIENTES.**

# LOS DIENTES

- Colorea los caninos de rosado; los incisivos, de verde; los pre molares, de rojo y los molares, de amarillo.



¿Sabías que los dientes de leche son 20 y que un adulto tiene 32 dientes?



## TAREA

ESCRIBO TRES CONSEJOS PARA CUIDAR MI SALUD.

ELIJO UN CUENTO Y TRATO DE LEER LO QUE PUEDO, LO TRAIGO A LA ESCUELA PARA LLERLO CON LA SEÑO.

<p>Escribe el número anterior y posterior</p> <p>59 65 64 72 55 62</p> <p>63</p> <p>Escribe el número anterior y posterior</p> <p>15 10 13 16 19 18</p> <p>17</p>	<p>Escribe el número anterior y posterior</p> <p>55 64 54 42 50 52</p> <p>53</p> <p>Escribe el número anterior y posterior</p> <p>38 41 30 39 43 32</p> <p>40</p>
---	---

4	5	6	.....	20	.....	61	.....
1	2	3	.....	27	.....	77	.....
6	7	8	.....	39	.....		
.....	10	.....	.....	45	.....		
.....	12	.....					
.....	16	.....					

A cartoon illustration of a boy and a girl talking to a bear. The bear is wearing a hat and a long coat, and is holding a small object in its hand.

30

\$100	\$100	\$100	\$100	\$100
\$100	\$100	\$100	\$100	\$100
\$100	\$100	\$100	\$100	\$100
\$10	\$10	\$10	\$10	\$10
\$10	\$10	\$10	\$10	\$10
			\$10	\$10

\$1	\$1	\$1	\$1	\$1	\$1	\$1
\$1	\$1	\$1	\$1	\$1	\$1	\$1

30

\$100	\$100	\$100	\$100	\$100
\$100	\$100	\$100	\$100	\$100
\$100	\$100	\$100	\$100	\$100
\$10	\$10	\$10	\$10	\$10
\$10	\$10	\$10	\$10	\$10
			\$10	\$10

\$1	\$1	\$1	\$1	\$1	\$1	\$1
\$1	\$1	\$1	\$1	\$1	\$1	\$1

30

\$100	\$100	\$100	\$100	\$100
\$100	\$100	\$100	\$100	\$100
\$100	\$100	\$100	\$100	\$100
\$10	\$10	\$10	\$10	\$10
\$10	\$10	\$10	\$10	\$10
			\$10	\$10

\$1	\$1	\$1	\$1	\$1	\$1	\$1
\$1	\$1	\$1	\$1	\$1	\$1	\$1