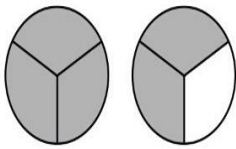


Práctico Repaso Plan de Contingencia

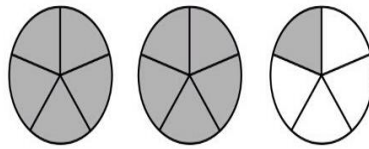


1. Clasifica en propia, impropia, etc. y escribe la fracción que se representa cada dibujo.


a)



$$\frac{4}{3} = 1 \frac{2}{3}$$

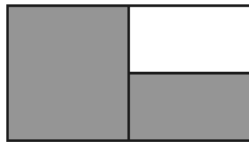


\_\_\_\_\_

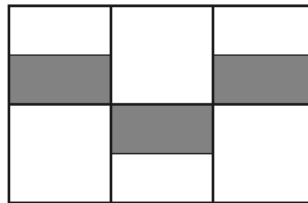


\_\_\_\_\_

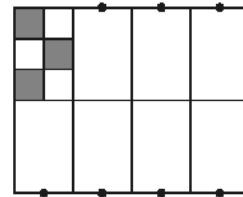
Recuerda que todas las particiones deben tener igual forma.



\_\_\_\_\_



\_\_\_\_\_



\_\_\_\_\_

2. Representar gráficamente:

a)  $\frac{2}{7} =$

b)  $\frac{4}{4} =$

c)  $\frac{9}{5} =$

d)  $\frac{10}{2} =$

e)  $\frac{13}{3} =$

f)  $\frac{1}{6} =$

3. Clasificar las fracciones del punto 2.

4. Escribir la expresión decimal de:

a)  $\frac{1}{5} =$

b)  $\frac{2}{5} =$

c)  $\frac{13}{10} =$

d)  $\frac{3}{4} =$

e)  $\frac{16}{1000} =$